

2017年天津公务员考试行测 真题（滨海新区）



打开公考通app
进入历年真题查看解析

数量关系

请根据题目要求，在每个选项中选出一个最恰当的答案。

- 三个连续自然数的乘积是210，则其中两个自然数为：
 - 4、5
 - 7、8
 - 8、9
 - 6、7
- 有一个长方形的对角线为17cm，长比宽多3cm，那么这个长方形的面积为：
 - 140cm^2
 - 136cm^2
 - 132cm^2
 - 128cm^2
- 一份溶液，加入一定量的水后，浓度降到3%，再加入同样多的水后，浓度降为2%，该溶液未加水时浓度是（ ）
 - 6%
 - 4%
 - 5%
 - 4.5%
- 有4个不同的信箱，有5封不同的信件欲投其中，则不同的投法有：
 - 5种
 - 1024种
 - 40种
 - 625种
- 单独修筑某条乡村公路，甲工程队需18天，乙工程队需24天，丙工程队需30天。现甲、乙、丙按如下顺序轮流施工：甲、乙、丙、乙、丙、甲、丙、甲、乙……每个工程队工作一天换班，直到工程完成。当工程完成时，乙工程队干了多少天：
 - 8天
 - 11天
 - 9天
 - 7天
- 某纸箱中原有5个乒乓球，从纸箱中取出1个乒乓球，再放入5个乒乓球；又取出1个乒乓球，放入5个乒乓球；不断重复上述过程，到某一时刻停止，纸箱中乒乓球的总数可为：
 - 5
 - 10
 - 15
 - 20

- A . 2015
 - B . 2019
 - C . 2017
 - D . 2022
7. 受市场影响，某种品牌同种价位的自行车在三个商场都进行了两次提价（第二次提价的百分比是以第一次提价后的价格为基础的），A商场第一次提价10%，第二次提价20%；B商场第一次提价15%，第二次提价15%；C商场第一次提价12%，第二次提价18%；则提价最多的商场为：
- A . C商场
 - B . A商场
 - C . B商场
 - D . 无法确定
8. 有四种颜色的文件夹若干，每人可任取1~2个，如果要保证有3人取到完全一样的文件夹，则至少应该有多少人去取：
- A . 18
 - B . 20
 - C . 11
 - D . 21
9. 某商店出售A商品，若每天卖100件，则每件可获利6元。根据经验，若A商品每件涨1元钱，每天就少卖10件。为使每天获利最大化，A商品应提价：
- A . 6元
 - B . 4元
 - C . 2元
 - D . 10元
10. 在一条400米的圆形跑道上，甲乙两人同时从起点同向出发，甲速度为100米/分钟，乙速度为80米/分钟，则甲乙二人的连线第一次通过该圆形跑道的中心时，甲跑的是：
- A . 第10圈
 - B . 第20圈
 - C . 第3圈
 - D . 第5圈

言语理解与表达

请根据题目要求，在每个选项中选出一个最恰当的答案。

11. 透过中石油的外表,我们看到的是中国经济上升期所伴随的资本躁动,以及非理性的市场繁荣.中石油"市值

第一"的名号应该激起高度警觉和担忧,而不是_____!

下列选项中,最适合填入横线的是:

- A . 不孚众望
- B . 额手称庆
- C . 弹冠相庆
- D . 欣喜若狂

12. 子曰：“邦有道，_____；邦无道，_____。”许多单位为了树立自己的文明形象，频频设立“委屈奖”。似乎“委屈奖”已经成为处理各种人际矛盾的不二良方。

下列选项中，最适合填入横线的是：

- A . 如坐春风 如坠寒冬
- B . 千锤百炼 七零八落
- C . 花团锦簇 民不聊生
- D . 危言危行 危行言逊

13. 数学里_____美_____有生命力，数学家就要追求这样的美。没有美的数学就没有灵魂，没有灵魂就枉谈生命了。在杭州的一年，我每每看到西湖都会感叹他的美丽，就像是看到杭州的灵魂，而更觉得国际数学大师陈省身先生像西湖一样，_____什么角度什么季节，_____那么美。

下列选项中，最适合填入横线的是：

- A . 只要 就 哪怕 也
- B . 只有 才 无论 总是
- C . 只有 才 哪怕 也
- D . 只要 就 无论 总是

14. 华尔街股市_____。2000年3月以来，长达10年之久“牛”市格局的华尔街股市_____，一路下滑，10月18日，一股强劲的寒流吹袭全球股市。

下列选项中，最适合填入横线的是：

- A . 惊弓之鸟 风云变幻
- B . 杯弓蛇影 闻风而动
- C . 草木皆兵 千变万化
- D . 风声鹤唳 风云突变

15. 桃子渐渐摘完了。但还有一只_____趴在枝上不愿下来。_____在立秋那天它还没有丝毫动摇的意愿。_____，它在继续壮大，_____长得如饭碗一般。_____我们自己也有点眼馋了。是的，除了孩子以外，我们还没有尝过一只完整的果实——我们只吃过一些夜间自动落下来，在地上跌破了的桃子。

下列选项中，最适合填入横线的是：

- A . 仍然 即使 而且 几乎 恐怕

B . 始终 即使 而且 宛然 恐怕

C . 始终 甚至 相反 几乎 连

D . 仍然 甚至 相反 宛然 连

16. 一事当前，人们总要辨真伪。明是非、判丑恶、定取舍。_____，以何标准辨之、明之、判之和定之，有截然相反之两种态度。一曰以是非之心为心，二曰以_____之心为心。

下列选项中，最适合填入横线的是：

A . 并且 厉害

B . 但是 厉害

C . 但是 利害

D . 甚至 利害

17. 信访投诉问题影响很大，不可小视，是最大的政治工作、思想工作和群众工作；信访投诉工作的好坏，关系着政府政党的性质、作风，也决定着_____。一个信访投诉问题处理得好，可以得到一大部分民心；处理不好，便会失去更大一部分人民群众的_____和拥护。

依次填入画横线部分最恰当的一项是：

A . 人心沉浮 相信

B . 人心向背 信赖

C . 众望所归 信任

D . 人心所向 信服

18. 欧洲科学家历时两年_____230万欧元，开发出了一种“智能安全摄像头”。这种“智能安全摄像头”能够利用电脑，以某种运算法则分析在公共场所拍下的录像画面，查找可疑_____，从中发现潜在的安全威胁。

下列选项中，最适合填入横线的是：

A . 耗费 行迹

B . 耗资 行迹

C . 耗资 形迹

D . 耗费 形迹

19. 陕西林业厅公布了猎人周某用数码相机和胶片相机拍摄的华南虎照片。随后，照片真实性受到来自部分网友、华南虎专家和中科院专家等方面的质疑。华南虎照：真相_____，努力_____。

依次填入画横线部分最恰当的一项是：

A . 不致 不只

B . 不致 不止

C . 不至 不只

D . 不至 不止

20. 中国的史学传统与古希腊_____，在理路上却_____。希腊专业的史学著述仅限当代史范畴，或至多补缀少许的能为“理解之同情”所穿透的过往史实。

下列选项中最适合填入横线的是：

- A . 双峰对峙 大异其趣
- B . 隔江相望 剑走偏锋
- C . 二水分流 剑走偏锋
- D . 遥相对峙 大异其趣

21. 近年来，随着飞秒脉冲激光技术的发展，飞秒时间_____光谱技术在化学_____动力学、光合作用超快过程等研究领域得到了广泛应用。

下列选项中，依次填入横线部分最恰当的是：

- A . 分辨 反映
- B . 分辨 反应
- C . 分辩 反应
- D . 分辩 反映

22. 意志力特训是训练孩子以坚强的意志，带领自己的团队，百折不挠、_____、勇敢地克服困难。

下列选项中，最适合填入横线的是：

- A . 坚若磐石
- B . 固若金汤
- C . 坚不可摧
- D . 稳如泰山

23. 近年来，涉及权钱交易的违纪违法案件出现了一些新情况、新问题。为教育各级党员、领导干部严格自律，加大对涉及权钱交易行为的_____力度，《中共中央纪委关于严格禁止利用职务上的便利_____不正当利益的若干规定》日前印发。

下列选项中，最适合填入横线的是：

- A . 惩罚 牟取
- B . 惩处 牟取
- C . 惩处 谋取
- D . 惩罚 谋取

24. 买书，是藏书家郑振铎几乎每天要做的一件事，流连于书市地摊上“淘旧书”，几十载不曾间断。按说该有一定经验不至于上当受骗了吧？无奈率真坦诚、_____的郑先生不善委蛇之术，每次买书遇到中意的本子，便是一连串“不得了”“好极了”的激动赞叹声，接着还大侃书的种种优点和妙处，待侃完交钱时，精明的书贩当然饶不过他了。

下列选项中，最适合填入横线的是：

- A . 光明正大
- B . 光明磊落
- C . 胸无城府
- D . 高深莫测

25. 美国政府未将中国列入“汇率_____国黑名单”的做法是比较理智的，_____鉴于中美两国经济目前如此高的相互依存度，_____中国的人民币汇率出现大幅度波动，_____中国经济会受损，美国经济乃至全球经济都会受到严重影响。

下列选项中，最适合填入横线的是：

- A . 操控 因为 而且 不但
- B . 操作 不仅 一旦 如果
- C . 操纵 因为 一旦 不但
- D . 把持 不仅 而且 如果

26. 成功不是衡量人生价值的最高标准，比成功更重要的是，一个人要有丰富的内在，有自己的真性情和真兴趣，有自己真正喜欢做的事。只要你有自己真正喜欢做的事，你就在任何情况下都会感到充实和踏实。那些仅仅追求外在成功的人实际上是没有真正喜欢做的事，他们真正喜欢的只是名利，一旦在名利场上受挫，内在的空虚就暴露无遗。

这段文字的主旨是：

- A . 成功就是做好自己喜欢做的事
- B . 人生价值的最高标准难以确定
- C . 追逐名利的人是得不到成功的
- D . 兴趣是人们得到幸福的源泉

27. 器具之量，是一定之规，人心之量，则未可猜测。《初刻拍案惊奇》卷十五：“量大福也大，机深祸也深”。《水浒传》的作者在白衣秀士王伦被杀后，也引用了这句“古人云”，可见“量”和“福”有着相辅相成的关系。人们在庙宇里，经常瞻拜弥勒佛，而总能得到一种心胸宽阔、笑口常开的乐天感觉，主要是因为这位菩萨有一个很大的肚子，这袒露的腹部，就象征着那具有海阔天空、无垠无限的肚量。

这段文字的中心是：

- A . 人心之量是无法计算出来的
- B . 中国人的迷信思想依然严重
- C . 弥勒佛受到人们的爱戴
- D . 肚量与福气关系密切

28. “生产性保护”是在非物质文化遗产保护实践中提出的一种保护方式，使非物质文化遗产融入现代社会生活实践，目的在于使其融入民众的日常生活并在生活中持久传承。具体而言，是指在具有生产性质的实践过程中，以保持非物质文化遗产的真实性、整体性和传承性为核心，以有效传承非物质文化遗产技艺为

前提，借助生产、流通、销售等手段，将非物质文化遗产及其资源转化为文化产品的保护方式。

下列对于“生产性保护”的理解，错误的一项是：

- A . 它是在非物质文化遗产保护实践中提出的一种保护方式
- B . 它是以保持非物质文化遗产的真实性、整体性和传承性为核心
- C . 它将非物质文化遗产及其资源转化为文化产品的保护方式
- D . 它是传统技艺的精华，应该采用“生产性保护”法

29. 城市精神与文化，最终要落实在人的身上，人的文化素养与精神境界，直接影响着城市的品质与风貌。

人与城市互为表里，相辅相成，不断提升人的文化素养与精神境界，才能够不断提升城市的精神高度与文化的海拔线。说到底，重视城市精神的建设，其实关系着城市建设的最终归宿。

下列选项中，对上文理解错误的一项是：

- A . 城市建设的最终归宿是城市精神的建设
- B . 城市精神与文化直接影响着城市的品质与风貌
- C . 城市的精神文化有赖于人的精神文化
- D . 人与城市是互为表里，相辅相成的

30. 近现代科学的某些成果，它们的价值并没有都直接体现为现实生产力，而基本体现在认知层面，体现在对真理的追求，对世界的合理性解释。科学的认识价值，曾经而依然体现在对人类思想解放的推动。历史表明，人类文明的进步首先要有人类思想新的解放。近代科学所特有的注重实证、倡导理性和批判质疑精神，成了启蒙运动思想的核心要素，在推动欧洲社会告别神权迷信和封建政治，进入现代文明社会，发挥了重要的作用。

下列选项中，对上文理解错误的一项是：

- A . 人类思想新的解放成为人类文明的进步的前提
- B . 启蒙运动思想的核心要素是注重实证、倡导理性和批判质疑精神
- C . 科学成果的价值应该都直接体现为现实生产力
- D . 近现代科学成果的价值基本体现在认知层面，追求真理，解释世界

31. 针对网上传言“驾车用蓝牙耳机接电话要被扣分”，有交警表示此为误传。目前新交法规定了开车中不能拨打手持电话，对于使用蓝牙耳机或车载蓝牙没有明确规定，而且佩戴蓝牙设备并不能确定其是否在打电话，所以查处有一定难度。不过使用耳机接打电话，驾驶人的注意力仍然会被分散，所以并不提倡驾车时使用。

下列选项中，对上文理解错误的一项是：

- A . 佩戴蓝牙设备无法判定驾驶人是否在打电话
- B . 目前新交法允许开车中使用蓝牙设备拨打电话
- C . 使用蓝牙设备会使驾驶人的注意力分散
- D . 驾车时打电话使用蓝牙耳机将很难被处罚

32. 融电子写作、电子编辑、电子检索、阅读与电传网络于一体的电子期刊网络出版的兴起，加快了“无纸信息社会”的进程，从根本上改变了原有的期刊出版模式。在信息技术发达的国家，阅读电子出版物已成为人们日常生活的一部分。随着我国信息高速公路建设的推进，电子出版也将逐渐取代传统的期刊出版方式，以适应信息社会发展的趋势。

这段话主要支持的论点是：

- A . 电子期刊网络出版的兴起，加快了“无纸信息社会”的进程
- B . 阅读电子出版物将成为世界潮流
- C . 电子期刊网络出版的兴起对传统期刊提出了新的挑战
- D . 电子期刊较传统期刊更有生命力

33. 所谓信息加工，就是将人脑与计算机进行类比，将人脑看作类似于计算机的信息加工系统。但是这种类比只是机能性质的，也就是在行为水平上的类比，而不管作为其物质构成的生物细胞和电子元件的区别。换句话说，这种类比只涉及软件而不涉及硬件。

这段话中的“软件”是指：

- A . 物质的构成
- B . 信息加工系统
- C . 生物细胞和电子元件
- D . 机能性质

34. 政治责任的实现，就其理想状况而言是从履行积极意义的政治责任开始的，这需要政治责任主体的责任感和自觉性。尽管我们强调评判政治责任不能以个人道德为标准，但我们并不能否认个人道德在政治责任实现问题上的作用和意义。因此，对于政治责任主体个人而言，道德规范和政治规范在个人实践中往往是相互联系、相互影响的，在同等条件下，个人道德水平较高的政治责任主体，能够更自觉地履行自己的积极意义的政治责任，也能够更主动地承担消极意义的政治责任。我们很难设想，一个道德败坏的人，能够很好地履行自己的政治责任。

这段话的中心意思是：

- A . 政治责任主体的责任感更有利于政治责任的实现
- B . 道德败坏的人也能履行好自己的政治责任
- C . 评判政治责任不能以个人道德为标准
- D . 个人道德对于政治责任的实现是必要的

35. 信用卡是通过采用密码和签名方式来确认身份的，每年犯罪分子窃取信用卡号和密码造成的损失非常惊人。现在指纹技术成了电子商务的“金钥匙”，美国最大的银行——美洲银行最近开始为一些用户提供该项服务，一些美国的国际贸易公司也正在积极试用指纹识别软件进行交易身份确认。

上述文字意在说明：

- A . 指纹技术的安全优势，已逐步被金融行业接受

- B. 信用卡社会亟待指纹识别系统
- C. 美国对指纹识别的利用较为充分
- D. 指纹技术是电子商务的“金钥匙”

36. 科学界一向认为，行星本身是没有能源的，虽然在夜间我们能看到行星，但行星发光只不过是反射了太阳光的结果。然而，最近报道，木星放射出来的能量明显多于它从太阳吸收的能量。因此让人产生疑问：木星有热核能源吗？这种能源是在大气层里还是在它的内部？经过进一步的研究，人们已经探明木星大气层的成分，并得出在那里不可能产生热核能量的结论。

这段话主要表明了这样一个观点，即：

- A. 木星发光是反射太阳光的结果
- B. 木星内部有可能产生热核能源
- C. 木星不可能产生热核能源
- D. 木星靠外部能源散发热量

37. 除夕是春节的前夜，又叫年三十。有一种传说：古时候有个凶恶的怪兽叫夕，每到岁末便出来害人。后来，人们知道夕最怕红色和声响，于是在年三十晚上，家家户户贴红春联，燃放爆竹，来驱除夕兽，以求新的一年安宁。这种习俗从此流传下来，年三十晚上便称为除夕了。

这段话的主要内容是：

- A. 介绍除夕的来历
- B. 介绍在年三十晚上如何驱除夕兽
- C. 除夕又叫年三十的原因
- D. 夕最怕红色和声响

38. 我们常用“方盒子”来形容一般形状了无生趣的房子，不过这里谈的“方盒子”却一点也不无聊，因为它是悬立于空中的等边立方体，而且转了四十五度的立体角，使原本并不突出的形体，顿时鲜活起来。建筑师的创意令人赞叹不已！这幢位于鹿特丹港湾的集合住宅，兴建于“后现代主义”猖狂的20世纪80年代中期。因为房子造型新颖有趣，于是人们昵称它为“方块房子”。从此以后，这个城市又多出一个新的观光景点。

这段话的主旨是：

- A. “方盒子”一般用来形容了无生趣的房子
- B. “方块房子”将是一种流行趋势
- C. 建筑成为人们的旅游观光场所
- D. 集合住宅的创意成为看点

39. 网络诗歌写作给了诗人充分的自由。年轻诗人有可能利用网络的作用力，消解某些文学刊物的话语霸权。与公开出版的诗歌刊物相比，网络诗歌有明显的非功利色彩，意识形态色彩较为淡薄，作者写作主要是出于表现的欲望，甚至是一种纯粹的宣泄与自娱。这里充盈着一种自由的精神，从而给诗歌带来了

更为独立的品格。网络为任何一个想要写诗并具备一定文学素养的人打开了一扇通向诗坛的门。

下列选项中，对这段话理解正确的是：

- A . 网络诗人写作的目的是为了宣泄与自娱
- B . 公开出版的诗歌刊物有明显的功利色彩
- C . 网络诗歌是年轻诗人消解文学刊物的工具
- D . 网络诗歌充分张扬着自由精神

40. ①有了静，全部构建会组合成一种古筝独奏般的淡雅清丽

②在摩肩接踵的拥挤中游古典园林是很叫人伤心的事

③中国古典园林不管依傍何种建筑流派，都要以静作为自己的韵律

④而失去了静，它内在的整体风致也就不可寻找

⑤你有幸走在这样的园林中就会觉得走进了一种境界，虚虚浮浮而又满目生气，几乎不相信自己往常曾多次来过

⑥如有一个偶然的时机，或许是大雨刚歇，游客未至，或许是时值黄昏，庭院冷落

把句子组成语意连贯的一段话，语序排列最恰当的一项是：

- A . ③①④②⑥⑤
- B . ⑥⑤②③①④
- C . ②⑥⑤③①④
- D . ②⑤⑥③①④

41. 近年来，随着艺术类院校、专业招生规模的扩大，艺考日渐火爆。除了部分真心热爱艺术的考生，有相当一部分是因为自身文化课分数不高，转而在高中最后一个阶段突击艺术，以求借助艺考进入对文化课要求不高的本科院校。

上述文字意在说明：

- A . 艺术类院校录取分数线不高
- B . 艺考考生良莠不齐
- C . 不是所有艺考考生都热爱艺术
- D . 艺术类院校专业招生规模扩大的原因

42. 据科学家研究，紫外线辐射将影响人体的免疫系统，增加传统病的发生，还将增加皮肤癌的发病率，诱发眼睛白内障等。地球上的动植物也受到影响。植物产量会降低，动物的不育增加，浮游生物的数量会减少等等。一些相关的危害可能还不为人所知。

这段文字的主要内容是：

- A . 人们可以避开紫外线从而避免受到伤害
- B . 并不是所有关于紫外线的危害都已为人所知
- C . 紫外线会使得人类身体受损

D. 紫外线对地球的生物带来严重危害

43. 高新科技成果转化成为生产力，有一个客观的转化过程。从基础理论到技术科学研究，进而设计、开发、研制、出样品、样机。从中间试验或小批生产进一步到建立经济规模的生产及相应的经营管理和销售服务，使其成为具有使用价值和经济效益的社会生产力，要经过许多环节，要做大量具体的转化工作。其中，应特别注意的是必须切实解决经济规模生产的工艺问题。

这段文字的主要内容是：

- A. 高新科技成果转化成为生产力要经过许多环节和做大量具体的转化工作
- B. 解决经济规模生产的工艺问题是高新科技成果转化成为生产力的首要任务
- C. 高新科技成果转化成为生产力要做许多具体工作，包括解决经济规模生产的工艺问题
- D. 解决经济规模生产的工艺问题与设计、开发等问题同等重要

44. 虽然某些防火建筑的主要部分都是由耐火材料建成，但却可通过门厅和其他通道里的易燃材料使火势蔓延以至于完全被摧毁。这些建筑甚至可能由于金属梁、柱的坍塌而遭到严重的结构破坏。

这段话主要支持了这样一种论点，即某些防火建筑：

- A. 拥有特殊结构的走廊和门厅
- B. 对建筑物内各种设施的保护不如一般建筑
- C. 可能会遭到火的严重破坏
- D. 受火的损坏少于受金属支撑物坍塌的损坏

45. 现代企业要想在激烈的竞争环境中生存和发展，就必须要有营销意识。商业广告就是一种很重要的营销渠道，它为了说服顾客购买自己的产品，经常设法用一些响亮的名字和自身独特的功用，让消费者记住自己的品牌，久而久之使消费者产生一种购买的冲动。

下列选项中，对这段话理解最为准确的一项是：

- A. 现代企业必须要有营销意识
- B. 商业广告是一种很重要的营销渠道
- C. 商业广告就是要说服顾客买东西
- D. 企业之间竞争的核心是商业广告

常识判断

请根据题目要求，在每个选项中选出一个最恰当的答案。

46. 行政诉讼法规定，因限制人身自由的强制措施引起的行政诉讼，由原告或被告所在地人民法院管辖。这里的原告所在地不包括：

- A. 被限制人身自由所在地
- B. 临时居住地
- C. 户籍所在地

- D . 经常居住地
47. 虚列出口货物数量，虚报出口货物价格，涂改、伪造出口退税凭证的行为属于：
- A . 偷税
B . 抗税
C . 欠税
D . 骗税
48. 用水稀释浓硫酸时，应当选择的方式是：
- A . 将水慢慢倒入浓硫酸中
B . 将浓硫酸慢慢倒入水中
C . 浓硫酸和水分层注入
D . 浓硫酸和水同时注入
49. 我国公司制企业中最高权力机构是：
- A . 股东会
B . 董事会
C . 监事会
D . 经理层
50. 当社会总需求大于总供给，经济增长过热时，中央银行采取紧缩性货币政策，其主要措施不包括：
- A . 在金融市场上购买政府债券
B . 提高贴现率
C . 提高法定准备金
D . 在金融市场上抛售政府债券
51. 蝉发出“知——了，知——了”鸣叫声的器官是：
- A . 嘴
B . 鼻
C . 翅膀
D . 瓣膜
52. 在中亚五国中，与中国接壤的是：
- A . 乌兹别克斯坦、哈萨克斯坦、吉尔吉斯斯坦
B . 吉尔吉斯斯坦、土库曼斯坦、塔吉克斯坦
C . 哈萨克斯坦、吉尔吉斯斯坦、塔吉克斯坦
D . 乌兹别克斯坦、土库曼斯坦、哈萨克斯坦
53. 尼罗河是世界第一长河流，也是世界文明的发祥地之一，它自南向北流经布隆迪、乌干达和埃及等国，

最后注入：

- A . 大西洋
- B . 地中海
- C . 印度洋
- D . 红海

54. 下列文学常识中，表达错误的一项是：

- A . 中国古代思想流派儒家的代表人物有孔子、孟子、韩非子
- B . 《长恨歌》是唐朝诗人白居易的著名诗作
- C . “一骑红尘妃子笑，无人知是荔枝来”讲述的内容与唐朝杨贵妃有关
- D . 初唐四杰指的是王勃、杨炯、卢照邻、骆宾王

55. 《齐民要术》是我国杰出农学家贾思勰所著的一部综合性农学著作。下列对该书的评价，错误的一项是：

- A . 系统地记载了兴修水利进行农业灌溉的方法
- B . 总结了公元6世纪以前的农业生产经验
- C . 涵盖了农林、畜牧、烹饪、储备等技术知识
- D . 主要反映的是黄河中下游地区的生产状况

56. “范进中举”中范进参加的考试是：

- A . 殿试
- B . 省试
- C . 会试
- D . 乡试

57. 下列选项中，与作品《朝花夕拾》《子夜》《激流》三部曲、《白洋淀纪事》的作者对应正确的一项是：

- A . 鲁迅、茅盾、巴金、孙犁
- B . 郭沫若、曹禺、巴金、李健吾
- C . 鲁迅、曹禺、茅盾、郭沫若
- D . 鲁迅、郭沫若、巴金、孙犁

58. 成语“风声鹤唳”常用来形容人惊惶失措，或自相惊扰。它出自我国历史上著名的以少胜多的战役：

- A . 官渡之战
- B . 淝水之战
- C . 夷陵之战
- D . 赤壁之战

59. 我国第一艘航母“辽宁舰”交接入列后，顺利进行了舰载机起降飞行训练，航母平台和飞机的技术性能得到

充分验证。其舰载机的起飞方式采用的是：

- A . 弹射起飞
- B . 垂直起飞
- C . 滑跃起飞
- D . 短距起飞

60. 我国地处北半球，要把航天器送上近地轨道，运载火箭要朝_____方向发射，这样才能利用地球自转的部分速度，节约火箭能量。

- A . 西北
- B . 西南
- C . 东南
- D . 东北

61. 北宋时期，有一次某画院以《深山藏古寺》为题叫学生作画。大多数人都把寺庙画在明处，画面构思平平。有一考生基于对画题的深刻思考，他的画中并未见深山里有什么古寺，而是画了一和尚正在往深山里挑水，如此就把一个“藏”字活脱脱地表现出来了。该故事反映的是_____的重要性。

- A . 顺向思维
- B . 逆向思维
- C . 单向思维
- D . 思维定势

62. 书法史上被称为“天下第一行书”的字帖是：

- A . 米芾《蜀素帖》
- B . 颜真卿《祭侄稿》
- C . 王羲之《兰亭序》
- D . 苏东坡《寒食帖》

63. 根据我国生活垃圾分类制度的规定，下列物品均为有害垃圾的是：

- A . 废血压计和废胶片
- B . 餐厨垃圾和废电池
- C . 废塑料和废温度计
- D . 废玻璃和废油漆

64. 根据《劳动法》规定，下列关于女职工孕期保护的说法错误的是：

- A . 不得安排女职工在怀孕期间从事孕妇禁忌从事的劳动
- B . 不得安排女职工在怀孕期间从事国家规定的第三级劳动强度的劳动
- C . 不得对怀孕7个月的女职工安排夜班活动
- D . 不得延长女职工工作时间

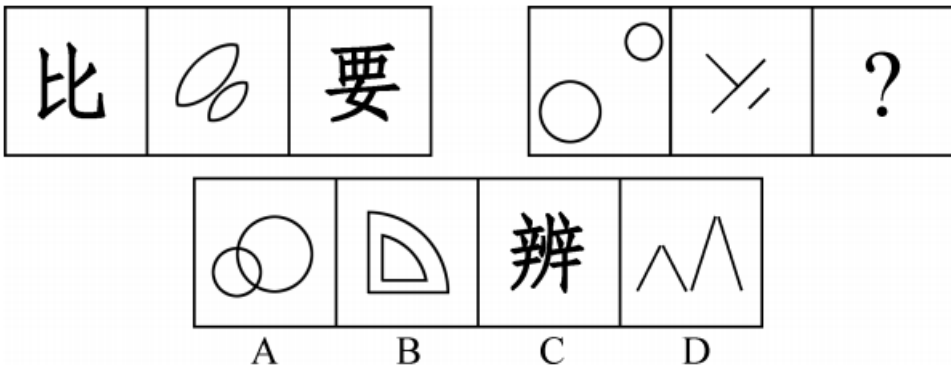
65. 联合国秘书长，是联合国秘书处的长官，时常对争端的各方进行斡旋调停。联合国秘书长的一届任期为（ ）年，可以连任。

- A . 4
- B . 5
- C . 8
- D . 10

判断推理


请根据题目要求，在每个选项中选出一个最恰当的答案。

66. 从所给的四个选项中，选择最合适的一个填入问号处，使之呈现一定的规律性：



- A . A
- B . B
- C . C
- D . D

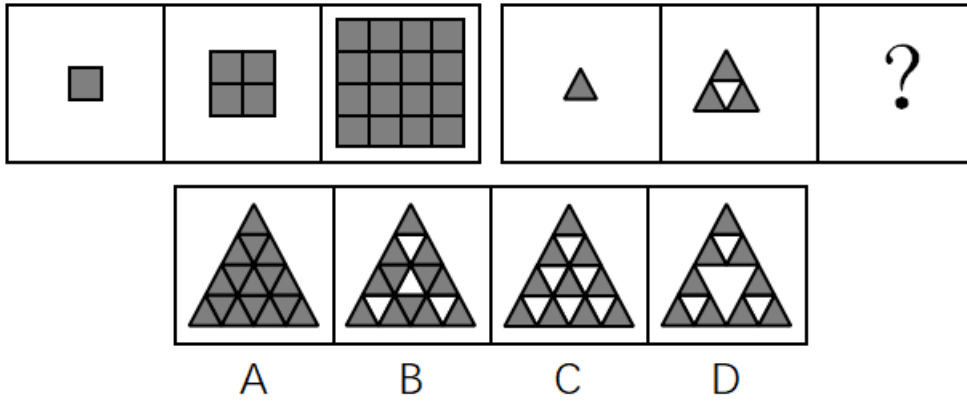
67. 从所给的四个选项中，选择最合适的一个填入问号处，使之呈现一定的规律性：



- A
- B
- C
- D

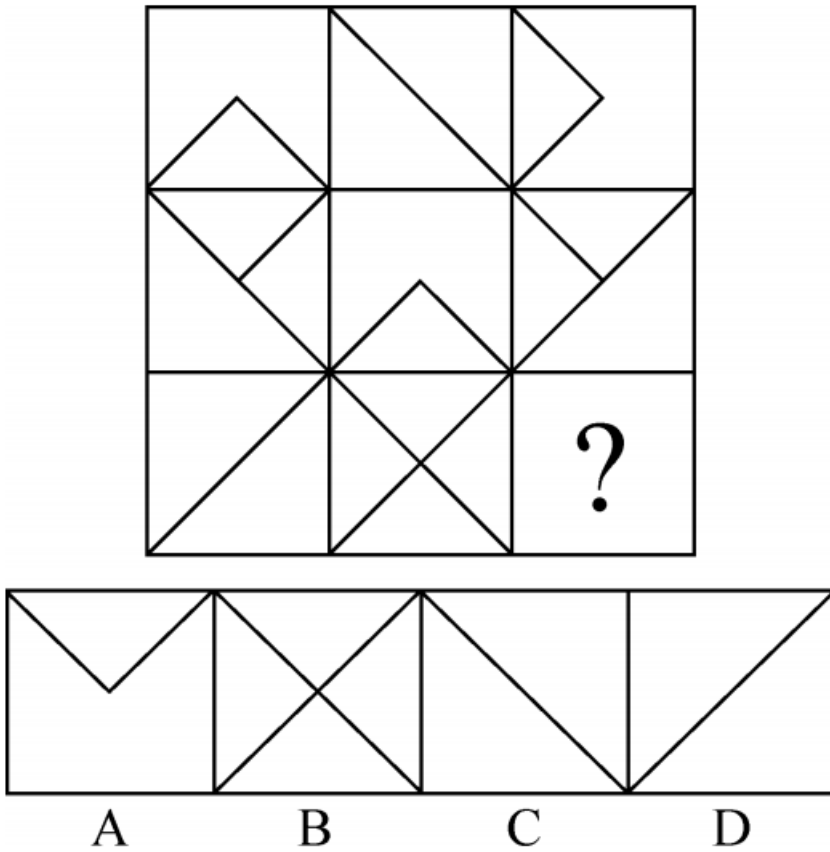
- A . A
- B . B
- C . C
- D . D

68. 从所给的四个选项中，选择最合适的一个填入问号处，使之呈现一定的规律性：



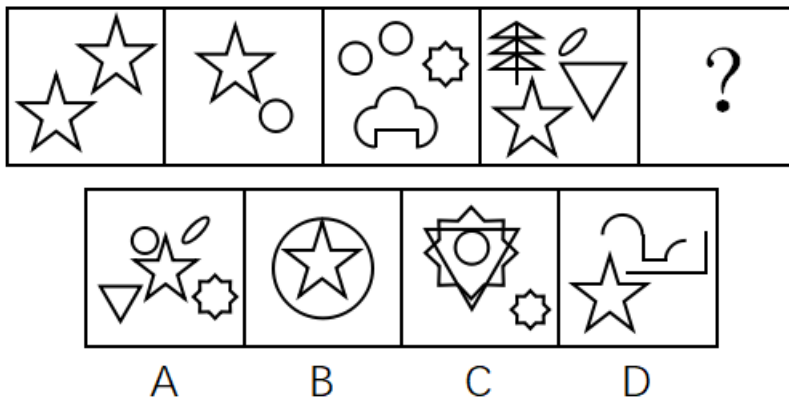
- A . A
- B . B
- C . C
- D . D

69. 从所给的四个选项中，选择最合适的一个填入问号处，使之呈现一定的规律性：



- A . A
- B . B
- C . C
- D . D

70. 从所给的四个选项中，选择最合适的一个填入问号处，使之呈现一定的规律性：



- A . A
- B . B
- C . C
- D . D

D

71. 消费文化，是指在一定的历史阶段中，人们在物质生产、精神生产、社会生活以及消费活动中所表现出来的消费理念、消费方式、消费行为和消费环境的总和。

根据上述定义，下列不属于消费文化的是：

- A . 十一黄金周假期，促进了居民参与国内外旅游的休闲消费
- B . 在年轻人中，他们更乐于通过网上购物的方式来购买自己需要的物品
- C . 中老年人，特别是老年人，喜欢在购物环境比较安静和舒适的地方进行消费
- D . 随着互联网发展，许多年轻人开办了自己的网店

72. 卡特尔，垄断组织形式之一，是指同一生产部门的资本主义企业，以获取垄断高额利润和加强自己在竞争中的地位为目的，彼此之间签订关于销售市场、商品产量和商品价格的协议，并交换新技术的许可证等而形成的一种垄断联合。

根据上述定义，下列不属于卡特尔的是：

- A . 同一生产部门，各生产者签订协议，规定销售市场的区域范围
- B . 同一生产部门，各生产者签订协议，规定某商品的垄断价格
- C . 同一生产部门，实力较强的生产者以高于市场的价格收购实力较弱的生产者的股权
- D . 同一生产部门，各生产者签订协议，规定生产和销售商品的一定数量，并要求每个参加者遵守

73. 知识经济，是指包括知识产权资源在内的科技进步对经济增长的贡献份额大于劳动、自然资源、资金等传统生产要素对经济增长贡献的份额。知识经济是建立在知识和经验的生产、分配和使用上的经济。

根据上述定义，下列不属于知识经济的是：

- A . 知识对传统产业的高度渗透，全面提高传统产业的技术含量，促进产业不断升级
- B . 在创办公司时，可以用知识产权投资办企业
- C . 大学生利用所学的知识创办了一家公司
- D . 高新技术产业的迅速发展

74. 情感激励法，是指通过良好的情感关系，激发被管理者的积极性，从而达到提高工作效率的一种管理激励方法。

根据上述定义，下列属于情感激励效果的一项是：

- A . 一名员工由于在大会上指责经理，被人讽刺、打击、报复，感到很无奈
- B . 一名员工被怀疑私自收取顾客好处费而被责令待岗反省，他很伤心
- C . 职工思想和行动得到领导赞许，产生了继续坚持下去的情绪
- D . 经理办公室决定，以后不允许职工在公司内谈论家常事

75. 工业产权，是指法律规定对应用于生产和流通中创造发明和显著标记等智力成果在一定期限和地区内享有的占有权。

根据上述定义，下列属于工业产权的是：

- A . 某国有企业车间、厂房等不动产的所有权

- B. 某企业近期购买的国外先进流水线生产设备的所有权
- C. 某化工厂的高新技术研究所的产权
- D. 某电器生产企业对经多年打拼创下的品牌享有的权利

76. 细胞内消化，是指单细胞动物摄入的食物在细胞内被各种水解酶分解的消化方式。

根据上述定义，下列属于细胞内消化的是：

- A. 家禽类吃了食物后在胃里消化
- B. 生活在淡水中的草履虫吞噬枯草杆菌
- C. 人在生病虚弱不能进食时，用打点滴的方式注射葡萄糖和氨基酸等
- D. 羊驼在进食后会将吃过的食物反刍后消化

77. 现实型渐进决策，是指决策者不可能拥有人类的全部智慧和有关决策的全部信息，决策的时间、费用又有限，故决策者只能采用应付局面的办法，在“有偏袒的相互调整中”作出决策。该理论要求决策程序简化，决策实用、可行并符合利益集团的要求，力求解决现实问题。

根据上述定义，下列属于现实型渐进决策的是：

- A. 张董事认为在公司发展的决策中，不可能预见一切结果，只能在供选择的方案中选出一个“满意的”方案，因此往往只看方案的部分结果
- B. 某经贸公司李总经理决策前能全盘考虑一切公司行动，以及行动所产生的影响，选择具有最大价值的行动作为对策
- C. 李厂长强调工厂的生产不能一味扩张，要立足于工厂发展的现实，面临机遇时要当机立断，把有限的资源和时间投入到重要的环节，在以后的工作中再对生产进行不断地完善
- D. 田主任在提出部门发展决策时，很大程度上受潜意识的支配，许多决策行为常常感情用事，因而作出不明智的安排

78. 前景理论，是指大多数人在面临获得的时候是风险规避的；大多数人在面临损失的时候是风险偏爱的；人们对损失比对获得更敏感的理论。

根据上述定义，下列不符合前景理论的是：

- A. 选择甲肯定赢500元；选择乙有50%的可能赢1000元，50%的可能什么也得不到。这时大部分人会选择甲
- B. 采用甲方案，可以救200人；采用乙方案，有三分之一的可能救600人，三分之二的可能一个人也救不了。人们更愿意选择甲方案
- C. 到达同一目的地，选择熟悉的路将会迟到10小时，选择陌生的路，有三分之二的可能迟到20小时，有三分之一的可能按时到达。人们更愿意选择熟悉的路
- D. 如果选择甲肯定会损失1000元，选择乙50%的可能损失2000元，50%的可能不会损失。人们更愿意选择乙

79. 出口补贴（出口津贴），是指一国政府为降低出口商品的价格，加强其在国外市场上的竞争能力，在出

口某种商品时给予出口厂商的现金补贴或财政上的优惠待遇。

根据上述定义，下列不属于出口补贴行为的是：

- A. 某公司生产的自行车出口享受税收优惠政策
- B. 某出口公司税款被减免
- C. 某彩电出口到非洲时降价销售
- D. 镇政府资助某出口水产集团

80. 回避，是指司法人员因与案件或案件当事人有某种特殊关系而不得办理该案件。目的是防止徇私舞弊或发生偏见，以有利于案件的公正审理。

根据上述定义，下列不属于回避情况的是：

- A. 甲乙丙三兄弟因争夺遗产而诉至法院，法院调解后，乙、丙提出，该院刘审判员是甲的妻兄，而刘审判员与本案张审判员是朋友。乙和丙提出应让张审判员回避
- B. 甲与乙打架，甲将乙打成重伤。负责侦查这个案件的公安干警是甲的舅舅，他一向公正无私，为人所称道。但乙的亲属还是要求甲的舅舅回避
- C. 甲误伤乙，诉到法院，一审判决甲有期徒刑2年，甲不服判决提出上诉，二审法院受理后，组成合议庭，合议庭的书记员是刚调来的，他在该案一审时为受害人作过证。甲向法院提出这个书记员应当回避
- D. 甲与乙因合同纠纷诉讼到法院，负责审理这个案件的审判员是甲的堂兄。乙方提出该审判员应当回避

81. 川菜：素菜：热菜

- A. 格律诗：唐诗：五言诗
- B. 黄金：液体：导体
- C. 电器：通讯工具：电话
- D. 鱼：水生动物：爬行动物

82. 红楼梦：曹雪芹

- A. 三国演义：吴承恩
- B. 隋唐演义：单田芳
- C. 西游记：罗贯中
- D. 水浒传：施耐庵

83. 多多益善：韩信：刘邦

- A. 卧薪尝胆：勾践：西施
- B. 乐不思蜀：刘禅：司马昭
- C. 四面楚歌：张良：项羽
- D. 莫须有：韩世忠：秦桧

84. 刀：锋利：切割

- A. 窗玻璃：透明：挡风

- B . 灯 : 明亮 : 照明
 - C . 床 : 柔软 : 舒适
 - D . 保温杯 : 隔热 : 盛水
85. 面粉 : 面包 : 烤箱
- A . 水彩 : 纸张 : 画笔
 - B . 麦粒 : 油条 : 磨子
 - C . 粮食 : 酒 : 酒壶
 - D . 棉花 : 布 : 织布机
86. 学者 : 物理学家 : 爱因斯坦
- A . 世界 : 亚洲 : 印度
 - B . 诗歌 : 唐诗 : 格律诗
 - C . 河流 : 中国河流 : 长江
 - D . 中国 : 中国城市 : 南京
87. 教师 对于 () 相当于 () 对于 厨房
- A . 课堂 ; 厨师
 - B . 书桌 ; 卧室
 - C . 学生 ; 餐厅
 - D . 学校 ; 顾客
88. 冬装 对于 () 相当于 () 对于 被子
- A . 棉袄 ; 床垫
 - B . T恤 ; 床单
 - C . 棉织品 ; 床上用品
 - D . 服装 ; 被套
89. 苏格拉底 : 人类
- A . 松树 : 植物
 - B . 故宫 : 建筑
 - C . 《唐诗三百首》 : 书籍
 - D . 太阳 : 恒星
90. 青 : 青年 : 青草
- A . 禅 : 参禅 : 禅让
 - B . 信 : 信念 : 书信
 - C . 苏 : 苏打 : 苏加诺

D. 交：交往：交情

91. “同票同权”体现了对农民参政权利的尊重，有利于让更多基层代表反映广大农民真实的心声、愿望，也有利于在建设社会主义新农村的过程中构建和谐城乡格局。

由此可以推出：

- A. “同票同权”是建设和谐社会的必由之路
- B. “同票同权”会提高农民参政的积极性
- C. 政府有加大对于农民参政权利的重视力度
- D. 农民的参政权利需要依靠有效的政策加以保障

92. 说谎话往往比说实话更难，因为说实话只要依据事实进行陈述即可，而说谎话往往想获得赞赏或注意，或为了逃避责骂，以及想表达自己的愿望等，这必须要有较强的想象力和逻辑思维能力。

由此可以推出：

- A. 经常说谎的人比说实话的人有更强的想象力和逻辑思维能力
- B. 说实话的人的想象力和逻辑思维能力不及说谎的人
- C. 善于说谎话的人更善于说实话
- D. 缺乏想象力和逻辑思维能力的人不善于说谎话

93. 某快递公司通过不断改进和更新工具，使得其送快递的效率大为提高，即在单位时间里，用较少的快递员送达了较多的产品。下列哪项为真，一定能支持上述结论？

- I. 和去年相比，今年快递公司的年利润增加了一倍，快递员增加了10%。
- II. 和去年相比，今年快递公司的年送货量增加了一倍，快递员增加了100人。
- III. 和去年相比，今年快递公司的年送货量增加了一倍，快递员增加了10%。

- A. 只有III
- B. 只有I和III
- C. 只有II
- D. 只有I

94. 李某不会开车，所以李某坐地铁上班。得出上述结论的前提是：

- A. 所有坐地铁上班的人都不会开车
- B. 只有不坐地铁上班的人才会开车
- C. 所有不会开车的人都坐地铁上班
- D. 所有会开车的人都不坐地铁上班

95. 合格的教师应该具备三个条件：第一要有责任心；第二要有丰富的知识；第三要有一定的管理水平。现有至少符合条件之一的甲、乙、丙、丁四位大学毕业生报名竞争一个教师岗位，其中一人合格，已知：

- (1) 甲、乙管理水平相当；
- (2) 乙、丙都有责任心；

(3) 丙、丁并非都有责任心；

(4) 四人中三个人责任心强、两人管理能力突出、一人知识丰富。

那么能够胜出的一位是：

- A . 丙
- B . 丁
- C . 甲
- D . 乙

96. 一个纸盒子的6个面的颜色各不相同，分别是红、黄、绿、蓝、黑、白这6种颜色。如果满足：

- (1) 红色的对面是黑色；
- (2) 蓝色和白色相邻；
- (3) 黄色和蓝色相邻。

那么下列结论错误的是：

- A . 红色与蓝色相邻
- B . 黄色与白色相邻
- C . 黑色与绿色相邻
- D . 蓝色的对面是绿色

97. 诚信乃立身之本。然而，当文章抄袭、高考舞弊、民族作假、官员贪污受贿等被屡屡曝光，一旦道德体系坍塌，社会将无法继续正常运转。通过查询信用记录中的信用状况，可以很大程度上缓解社会信息不对称问题，并对失信者实行心理上的威慑。

由此可以推出：

- A . “信用身份证”具有权威的证明力和公信力
- B . 诚信证明并非是保证诚信的关键
- C . 诚信缺失，社会道德体系面临崩溃的边缘
- D . “信用身份证”是维护和重建社会诚信的有益尝试

98. 近年来，随着高校进一步扩招，大学毕业生也日益增多，社会劳动力市场出现了供过于求的局面，就业压力大增，部分地区高校毕业生就业率还不到一半的水平。但同时也出现了另外一种现象，大专生的就业形势普遍好于本科生。

下述选项中，无助于解释上述现象的是：

- A . 大专生就业期望值比本科生低
- B . 本科生理理论知识强但动手能力相对较弱
- C . 社会对技能型人才需求扩大
- D . 大专生不比本科生聪明

99. 按照科学的本义，科学是理性；哲学是高度理性化的，它当然也是科学。所以，在哲学的历史上，它长

期扮演了包罗万象的“科学的科学”这样的角色，直到马克思主义哲学诞生，才正确处理好科学同哲学的关系。但在古老的大学里，哲学博士才是真正的科学博士。

根据这段文字，下列推断正确的是：

- A . 科学一直是哲学的一个分支
- B . 马克思主义哲学科学与哲学完全割裂了关系
- C . 哲学和科学都是理性的
- D . 科学是哲学，哲学是科学

100.如果李锐会英语了，那么王伟、文瑞和张敏也肯定会英语。

由此可以得知：

- A . 如果李锐、文瑞和张敏都会英语，那么王伟也肯定会英语
- B . 李锐如果不会英语，那么王伟、文瑞和张敏中至少有一个不会英语
- C . 如果张敏不会英语，那么李锐和张敏不都会英语
- D . 如果王伟、文瑞不会英语，那么张敏不会英语

资料分析

请根据题目要求，在每个选项中选出一个最恰当的答案。

中国人民银行2015年历次存贷款基准利率调整一览表

时间	存款基准利率(%)		贷款基准利率(%)	
	调整前	调整后	调整前	调整后
3月18日	2.25	2.79	6.12	6.39
5月19日	2.79	3.06	6.39	6.57
7月21日	3.06	3.33	6.57	6.84
8月22日	3.33	3.60	6.84	7.02
9月15日	3.60	3.87	7.02	7.30
12月21日	3.87	4.14	7.29	7.47

101.2015年，贷款基准利率增长比率最高的月份是：

- A . 7月
- B . 9月
- C . 5月
- D . 3月

102.从3月上旬到12月底，存款基准利率增长比率是：

- A . 48%
- B . 35.3%
- C . 1.89%

D . 84%

103.2015年7月底，调整后的存贷款基准利率差额为：

- A . 1.61%
- B . 2.21%
- C . 3.51%
- D . 0.27%

104.2015年8月底，贷款基准利率是存款基准利率的：

- A . 2.05倍
- B . 0.95倍
- C . 1.95倍
- D . 1.05倍

105.下列关于中国人民银行2015年历次调整存贷款基准利率的目的，说法错误的是：

- A . 控制信贷资金过度需求
- B . 引导投资合理增长
- C . 稳定通货膨胀预期
- D . 增加居民消费能力

世界煤储量在世界能源总储量中占90%，按目前规模可持续开采200年左右。据19世纪80年代初世界能源会议等组织的资料，世界煤资源地质储量为14.3万亿吨，其中探明储量为3.5万亿吨，约占24.5%；在总储量中硬煤占75%，褐煤占25%。按硬煤经济可采储量以美国、俄罗斯、中国最为丰富，分别占世界总量的24.8%、21.5%、19.6%，共占三分之二。

106.在世界煤炭资源地质储量中，未探明储量占总储量的：

- A . 25.1%
- B . 74.9%
- C . 75.5%
- D . 25%

107.硬煤经济可采储量占世界总量比例最高的国家是：

- A . 美国
- B . 中国
- C . 俄罗斯
- D . 都不是

108.在世界煤炭总储量中，硬煤大约有：

- A . 9.84万亿吨

- B . 10.73亿吨
- C . 3.58亿吨
- D . 14.3亿吨

109.中国的硬煤占世界能源总储量的：

- A . 19.6%
- B . 16.7%
- C . 13.2%
- D . 14.7%

110.在世界煤炭总储量中，硬煤的储量比褐煤的储量多：

- A . 7.15亿吨
- B . 3.58亿吨
- C . 10.73亿吨
- D . 6.78亿吨

有关股票统计表

有关股票统计表

代 码	名 称	全部机构持股 比例合计 (%)	月涨跌幅 (%)	年涨跌幅 (%)	每股收益 (元)
600276	恒瑞医药	90.04	-8.41	70.58	0.36
600664	S 哈药	89.79	8.84	192.92	0.16
600038	哈飞股份	86.43	-3.18	51.98	0.04
002007	华兰生物	85.71	11.59	172.33	0.29
600533	栖霞建设	83.81	-5.6	161.46	0.40
600585	海螺水泥	82.75	13.32	149.01	0.56
600011	华能国际	82.52	14.7	159.5	0.24
600588	用友软件	81.7	-2.72	72.75	0.67
600761	安徽合力	81.44	-6.9	68.46	0.48
600150	中国船舶	81.42	24.66	634.3	0.76
600694	大商股份	80.13	-7.8	101.18	0.90
600859	王府井	78.07	-9.1	92.43	0.29
600299	星新材料	76.98	3.93	219.62	0.40
600686	金龙汽车	76.67	-2.08	98.56	0.31
000024	招商地产	76.32	1.79	181.03	0.57

111.下列代码中，每股收益最高的是：

- A . 000024
- B . 600150
- C . 600299
- D . 600694

112.下列公司中，月涨跌幅最高的是：

- A . S哈药
- B . 华兰生物
- C . 中国船舶
- D . 华能国际

113.年涨幅与月涨跌幅差别最大的公司是：

- A . S哈药
- B . 华兰生物
- C . 中国船舶
- D . 华能国际

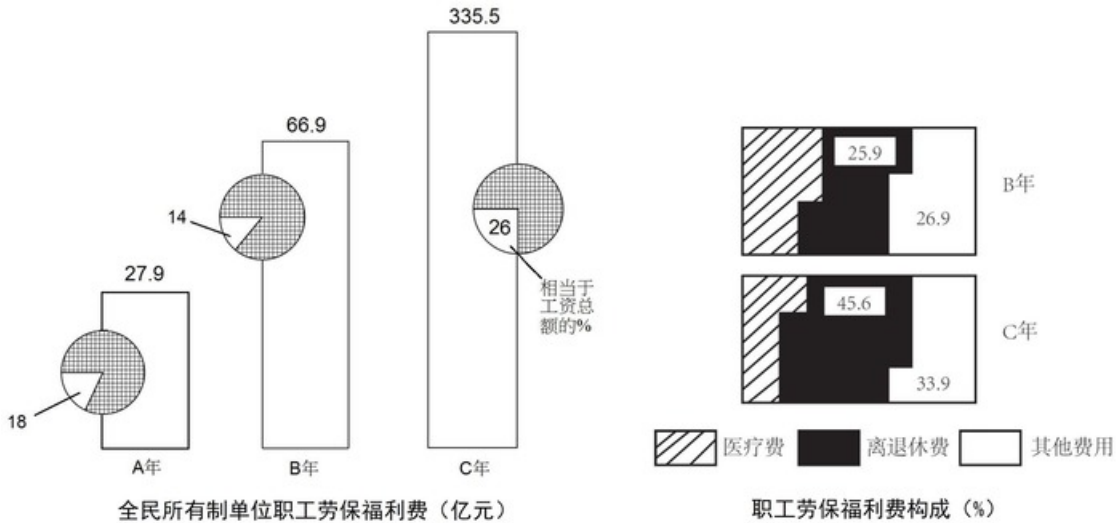
114.栖霞建设每股收益比招商地产少：

- A . 0.56元
- B . 0.28元
- C . 0.17元
- D . 0.52元

115.若有人持有1000股大商股份，那么他需要持有约_____金龙汽车的股份才能与此收益相当。

- A . 3500股
- B . 2000股
- C . 2900股
- D . 3000股

全民所有制单位职工劳保福利费



116. B年全民所有制单位职工劳保福利费比A年增加了：

- A . 279亿元
- B . 669亿元
- C . 49亿元
- D . 39亿元

117. C年全民所有制单位职工医疗费为：

- A . 335.5亿元
- B . 158.4亿元
- C . 68.8亿元
- D . 20.5亿元

118. 全民所有制单位职工B年工资总额比A年上涨了：

- A . 208.3%
- B . 205.2%
- C . 170%
- D . 190.5%

119. 全民所有制单位职工劳保福利费在B年用于医疗费用的支出比用于其他费用的支出多：

- A . 20.3亿元
- B . 14.25亿元
- C . 13.58亿元
- D . 31.8亿元

120. 下列说法中，错误的是：

- A . A年全民所有制单位职工劳保福利费占工资总额的18%
- B . C年全民所有制单位职工工资总额为1290.4亿元

- C . C年全民所有制单位职工劳保福利费中，离退休费所占比重比B年增加了19.7个百分点
- D . 全民所有制单位职工B年工资总额比C年劳保福利费低



如何对答案：打开公考通app
进入历年真题，录入答案后即可评分并查看解析。