

2017年安徽公务员考试行测 真题（联考卷）



打开公考通app
进入历年真题查看解析

言语理解与表达

请根据题目要求，在每个选项中选出一个最恰当的答案。

1. 今天，科技发展极大地改善了人类生活的方方面面，使得人们难以脱离科技成果，退回到现代科技之前的生活状态中。但越来越多的人也意识到，一些科技成果常常携带着_____的后果，可能对人类生活产生负面影响。

填入画横线部分最恰当的一项是：

- A. 昭然若揭
- B. 不言而喻
- C. 难以预测
- D. 毋庸讳言

2. 中国绘画是以庄子哲学为精神宗旨的，其最高境界是在人与对象的双重自然状态下实现物我浑融。《庄子·田子方》载，宋元君招试画师，应试者皆_____，唯有一后至者，“解衣盘礴赢”，任性自然地投身于画作。宋元君称此人为“真画者”。所谓“真画者”，指的是突破规范束缚而进入自由率真的创作状态的画家。这是庄子为后世中国画家塑造的模范。

填入画横线部分最恰当的一项是：

- A. 循规拘礼
- B. 循规蹈矩
- C. 墨守成规
- D. 按部就班

3. 虽然虚拟博物馆如雨后春笋般涌现，但博物馆管理人员依然相信这对实体博物馆而言是机遇，而非冲击。“比如举世闻名的艺术作品《蒙娜丽莎》，一些3D复制品可能将画作精细到连脸部细纹都能看得一清二楚，但大家还是_____地涌入卢浮宫，因为即使复制出一模一样的《蒙娜丽莎》，博物馆里那种神圣、庄严的感觉还是无法复制的。”管理人员如是说。

填入画横线部分最恰当的一项是：

- A. 欢呼雀跃
- B. 如痴如狂
- C. 情有独钟
- D. 欣喜若狂

4. 良好的生态环境，是最公平的公共产品，是最_____的民生福祉，当前，我国资源约束_____，环境污染严重，生态系统退化的问题十分严峻，人民群众对清新空气、干净饮水、安全食品、优美环境的要求越来越强烈。

依次填入画横线部分最恰当的一项是：

- A . 普遍 不力
- B . 重要 紧张
- C . 关键 不够
- D . 普惠 趋紧

5. 礼仪服饰庄重而_____，自生一种威仪。事实上，这种威仪感，来自礼服各个不同部件背后的渊源和寓意。而另一方面，如果将礼服层层剥开来看，就是一部_____的政治史。

依次填入画横线部分最恰当的一项是：

- A . 华美 恢弘
- B . 艳丽 壮阔
- C . 美丽 宏美
- D . 秀美 磅礴

6. 古典农业社会中，人的乡愁和城市没有太大关系。彼时的乡愁大抵是怀才不遇的流荡，以及战争带来的_____和乡土难返。而现在，大多数“乡愁感慨”是具有城市生活经历的人发出的，他们发愁的是城市“工作好不好找，房子买不买得起”等等。过去随时可以返回的家乡，正逐渐消失在城市化运动中。因此，他们对乡愁的_____可能完全不是同一方向，甚至可能是“城愁”。

依次填入画横线部分最恰当的一项是：

- A . 背井离乡 认同
- B . 流离失所 认识
- C . 民不聊生 认可
- D . 饥寒交迫 认知

7. 现实生活中，真正能够平心静气、_____者，似乎为数不多。相反，惯于给灵魂做加法，喜欢抛头露面、彰显自我的人倒是不少。君不见，有的人只要有机会，不是东拉西扯、侃侃而谈，便是谈天说地、_____。不少人喜欢把逛街购物、唱歌喝酒、头疼脑热、感冒鼻塞之类的闲事琐事无聊事，统统发到朋友圈里去。

依次填入画横线部分最恰当的一项是：

- A . 委曲求全 口若悬河
- B . 心如止水 指桑骂槐
- C . 波澜不惊 口诛笔伐
- D . 心无旁骛 津津乐道

8. “一带一路”的宏伟构想，从历史深处走来，融通古今、连接中外，_____和平、发展、合作、共赢的时代潮流，_____丝绸之路沿途各国发展繁荣的梦想，_____古老丝绸之路崭新的时代内涵，契合沿线国家的共同需求，为沿线国家优势互补、开放发展开启了新的机遇之窗。

依次填入画横线部分最恰当的一项是：

- A . 追溯 实现 植入
- B . 顺应 承载 赋予
- C . 遵循 明晰 提出
- D . 适应 承接 蕴蓄

9. 责任心，是创业者_____的品质。经常在生活中磨炼的人一定碰到过困难与荆棘、遇到过挑战与挫折、感受过真情与冷暖、领悟过付出与回报。久而久之，人的内心变得坚强，说话做事更有担当，“责任”二字通过潜移默化的行为训练_____到创业者的血液里，变成人的气节与气质，形成了独有的_____。

依次填入画横线部分最恰当的一项是：

- A . 千金难求 植入 感召力
- B . 不可多得 渗入 亲和力
- C . 难能可贵 融入 竞争力
- D . 绝无仅有 介入 创新力

10. 语言本身就是人类文化长期_____的智慧结晶，一切人类创造的思想文化成果都需要通过语言来深度表达和精彩_____。如果将文化视为人类精神或思维自觉_____的形形色色的神奇“痕迹”，那么，语言就是这种“痕迹”中最鲜活、最深邃和最久远的核心部分。

依次填入画横线部分最恰当的一项是：

- A . 演进 描述 保存
- B . 培育 演绎 留传
- C . 发展 诠释 存留
- D . 积淀 阐释 遗留

11. 成语“刻舟求剑”源自《吕氏春秋》，古人使用这个成语时，更多想到的是时间轴意义，“子在川上曰：逝者如斯夫，不舍昼夜”。但它所讲述的故事，又提示了我们道理与知识是如何“分道扬镳”的。船在运动，河底静止，剑从船上掉落河中，是从运动状态进入静止状态，而船上客人与刻痕处于相对河底与剑而言的运动状态，刻痕如何保持得了与剑相对的位置？由是而知，_____，这才是“刻舟求剑”真正传递的“道理”。

填入画横线部分最恰当的一项是：

- A . 意识是客观世界存在的反映
- B . 要在动态中认识事物的本质
- C . 知识道理在时空里是相对的
- D . 运动和静止是可以相互转化

12. ①更令人震惊的是，这些土著们在语言和文化上表现出超乎想象的统一性。

②他们没有航海设备，只有原始的舟筏，却在占据了地球三分之一面积的大洋中，找到了一个个孤悬海

上的小岛。

③他们有着相似的风俗习惯，在相隔极远、完全陌生的岛上，竟然可以用同一种语言进行简单交流。

④原始的南岛语族，创造了航海奇迹。

⑤这使得许多世纪后，“地理大发现”浪潮中驶入太平洋的西方航海家们惊异地发现，几乎他们每找到一处新的岛屿，都已有了土著们居住过的痕迹。

⑥然后定居其上，传承和发展着自己的文化。

将以上6个句子重新排列，语序正确的是：

A . ④⑤②①③⑥

B . ④②⑥⑤①③

C . ②⑥⑤④③①

D . ③①②⑥④⑤

13. 民众是否爱好学术，直接影响到学术本身的升沉；而学人不唤起国人对学术的自觉，“文德”不能与民分享，则“民德”就会堕落，“文德”本身也会变成无源之水、无根之木，也就没了提升的基础。为了使“文德”更好地转化为“民德”，蔡元培提出了以大学为社会文化中心的主张。

这段文字意在说明：

A . 大学是“文德”的中心

B . “民德”是“文德”的本源

C . “文德”与“民德”的双向关联

D . “文德”对“民德”有提升作用

14. 中国的FAST（500米口径球面射电望远镜）主体的落成为何引起海内外的热烈关注？原因有三。一是看得远。作为目前口径最大的射电望远镜，FAST在理论上可以接收到137亿光年以外的电磁信号。二是很灵活。FAST的索网结构可以随着天体的移动变化，极大提升观测效率。三是高精度。FAST的结构处处都是毫米级的精度要求：用来编织索网手臂般粗细的钢缆，加工精度都被控制在1毫米以内；最终的天线精度是3毫米，小面板的制造精度是1.5毫米。这一切意味着我们将能倾听来自宇宙更深处的声音，观测宇宙更隐蔽的奥秘。

这段文字最适合的标题是：

A . 海内外热烈关注中国的FAST

B . 走近中国FAST走进宇宙深处

C . 中国的FAST有三大过人之处

D . 一起倾听来自宇宙深处的声音

15. 当下，电视节目主打媒体融合和多终端传播的概念并不新鲜，只要在不同终端进行内容投放的节目都自称是媒体融合。技术拓展了媒体类型和渠道，真正的媒体融合要借鉴互联网的用户思维，要以不同渠道用户的多层次“真实需求”为导向定制内容，与用户之间形成相互分享信息关系，形成媒体融合关键点。

这段文字意在强调：

- A. 在不同终端进行相同内容投放成为当下电视节目进行媒体融合的普遍做法
- B. 媒体融合本身不能提升节目的内容品质，但能让节目得到更好的传播与吸收
- C. 要做到媒体融合，就要把各种终端、渠道整合成一个有机体，形成信息传播的“生态圈”
- D. 以用户需求为出发点，内容生产者与用户之间形成相互分享信息关系，是媒体融合的关键

16. 维生素C又叫抗坏血酸，是一种水溶性维生素，溶液显酸性。医学研究表明，人类在不良情绪下，会产生过多氧自由基，损伤细胞和组织，导致皮肤失去弹性，出现皱纹。而维生素C与氧自由基发生反应，从而清除自由基，可有效避免肌肤老化。那么，维生素C又是如何美白皮肤的呢？原来，皮肤的颜色主要取决于肌肤中黑色素的含量。抑制酪氨酸酶的合成是美白的关键之一，而维生素C能抑制此酶的活性，阻断黑色素生成，且可将已形成的黑色素还原成无色的黑色素前质。

下列说法与原文不符的是：

- A. 维生素C能够避免肌肤老化
- B. 酪氨酸酶的合成可以美白肌肤
- C. 维生素C能阻断黑色素生成
- D. 不良情绪容易使人出现皱纹

17. 一位科学家用玻璃板把大鲨鱼和小鱼隔开，大鲨鱼欲捕食小鱼但屡屡撞到玻璃隔板；一段时间后悄悄移开隔板，大鲨鱼却不再攻击小鱼了。

这段文字接下来最可能讲述的是：

- A. 不同种族之间完全可以和谐相处
- B. 因循守旧者，只会一再品味失败
- C. 固化的经验对我们的思维影响不大
- D. 适应新环境，把握新机遇需要新思维

18. 目前，以“文化科技”“文化金融”“文化创意”等为代表的融合模式，已经得到广泛应用。“文化科技”，主要是促使高新技术成果向文化领域转化应用，强化文化对信息产业的内容支撑和创意提升。“文化金融”，重在引导各类社会资本投资文化领域，利用互联网金融模式，发挥金融创新对文化消费的刺激作用。“文化创意”，更多的是以文化为资源，以创意为手段，以产业为目的，发展文化创意产业，同时实现与其他产业的深度融合。

从宏观层面看，以上三个内容同属于“文化”融合趋势的哪一种形态：

- A. 跨平台融合
- B. 跨行业融合
- C. 跨路径融合
- D. 跨要素融合

19. 超过一半的人要求将有意义和创意的网络词汇收入词典，代表的是对网络词汇的肯定与重视。但在今

天，重视网络词汇，是否非得通过将之纳入词典的方式来表现？毕竟，相较于传统词汇的变化速度和路径，网络词汇已有很大的不同。比如，不少网络词汇可能火过一阵就开始被遗忘；比如，传统汉语中的新词一般是通过入选词典而被加以确认，从而逐渐被推广、使用，然而网络词汇更多源自自发式生长。

这段文字意在说明：

- A . 我们对网络词汇需要有开放的态度
- B . 网络词汇相较于传统词汇没有生命力
- C . 将某些网络词汇纳入词典，确有必要
- D . 网络词汇是否纳入词典，无关紧要

20. 植物或许被低估了。它们不仅记得在何时被人触碰过，而且有研究表明，它们不必借助大脑或复杂的神经系统，就能进行复杂程度与人类不相上下的风险决策。面对两个花盆——其中一个营养含量恒定，另一个营养含量变化不定——如果营养条件足够差，植物会偏好神秘莫测的那个花盆。也许，这可以更好地解释为什么赌博输钱的人会继续赌下去，为什么在寒冷夜晚里鸟儿即便不知能找到什么也要四处觅食，而不是待在某处守着数量确定但并不够吃的食物。

以上文字意在说明：

- A . 植物懂得在危机中铤而走险，竭力求生
- B . 植物能进行任何复杂程度与人类不相上下的风险决策
- C . 恶劣条件下放手一搏，希冀求得生机或许是一切有机体的本能选择
- D . 放弃已知的、确定的，选择未知的、神秘莫测的，是有机体的普遍选择

21. 月球是地球唯一的自然卫星，也是人类目前唯一能够抵达的地外星球。在人造卫星之外，利用这颗自然卫星开展对地球的遥感观测，有着诸多的优势和不可替代性。月球表面积远远大于任何人造卫星，因而在月球上布设遥感器，不用考虑载荷多少、大小、重量等，可同时置放很多不同类型的遥感器，形成主被动、全波段同步观测的能力，对于观测大尺度地球科学现象——全球环境变化、陆海气相互作用、板块构造及固体潮、三极对比研究等会有深入的认识，并有可能观测到先前未知的科学现象。

对上述文字概括最准确的一项是：

- A . 月球比人造卫星更适合布设遥感器
- B . 月球对地观测有着天然的综合优势
- C . 月球有望能给空间对地观测带来革命
- D . 月球开辟对地观测科学与技术的新方向

22. 有“明清古建筑博物馆”之称的三坊七巷街区，有人将其比喻为鱼骨与鱼刺，有人则形容为菩提树叶，或直呼为“非”字形。笔者觉得，它倒更像一片优美的棕榈树枝叶，南后街似叶片的主脉，向西伸出的三条支脉为三坊，向东生出的七条细脉是七巷。由北向南的三坊依次为衣锦坊、光禄坊、文儒坊，七巷的顺序依次为杨桥巷、郎官巷、塔巷、黄巷、安民巷、官巷和吉庇巷。

对这段文字的内容概括最恰当的一项是：

- A . 三坊七巷的历史
- B . 三坊七巷的走向
- C . 三坊七巷的建筑
- D . 三坊七巷的格局

23. 我国各地的雾霾，从总的方面来说是各种来源污染排放物经过一系列的化学和物理过程的产物，这里既有一次排放，还有二次化学转化和物理过程。从南到北情况十分复杂，当下的普遍情况既不同于当年伦敦的情况，也不同于洛杉矶的情况，曾有学者讲北京的情况属于“伦敦型”和“洛杉矶型”的复合型，实际上事情绝非是一个“复合型”可以概括。还让人担心的是：眼下从上到下、各省各地，从官员到普通老百姓都认为燃煤是问题的根子，似乎实现了城市燃气化以后，问题就可以大大解决了，其实我们的一次排放物或者说二次过程的出发物质决不只是一个二氧化硫，或者说再加上一个氮氧化合物那么简单。

这段文字概括最恰当的是：

- A . 雾霾形成的原因复杂
- B . 雾霾形成的主要特点
- C . 雾霾类型具有多样性
- D . 雾霾危害具有普遍性

24. 在触屏时代，从倡导多读多写汉字的角度，“汉字听写”无疑是一件好事。但是一旦过度，好事也会变成坏事。比如，比赛偏重冷僻字词，参赛小选手们只能强化记忆，在比赛中展示了“中国式教育”。就连汉字拼音之父周有光先生也认为，现在把通用汉字增加到8000多个，这个数量实在有点太多了。联想到近几年一直没有停歇过的汉字繁简之争以及中高考改革方案的推出，我们不难发现，大家对汉语言文字的关注在日渐深入，民众的母语水平和学习母语的积极性在不断提高。

从这段文字，可以看出作者的态度是：

- A . 新时期的汉字听写比赛应该适度适当导向正确
- B . 触屏时代的汉字听写加快语言教育的步伐
- C . 汉字听写数量过多会引发民众提笔忘字的忧虑
- D . 中国式教育与强化记忆是语文教育的必要手段

25. 能够感知味道的味细胞散布在舌头表面、喉咙、上颚深处名为软腭的部位等处。味细胞感知味道分子后，首先会通过味觉神经将信息传给延髓的孤束核。孤束核将接收到的味觉信息，传给大脑的初级味皮层，从而对味道的强度和性质进行分析。随后，味觉信息会与来自嗅觉、触觉、口感等信息相统合。至此，我们才形成对食物味道的印象。在杏仁核（附着在海马体的末端，呈杏仁状，是边缘系统的一部分），我们会形成对食物的感情判断，下丘脑会分泌负责食欲的激素，海马体则形成我们对味道的记忆。

这段文字旨在说明：

- A . 海马体是形成我们对味道记忆的关键

- B . 味细胞散布广泛使我们有效认知味道
- C . 大脑初级味皮层是信息相统合的关键
- D . 帮我们认识味道的并非舌头而是大脑

数量关系

请根据题目要求，在每个选项中选出一个最恰当的答案。

26. 某单位准备扩建一矩形花圃，若将矩形花圃的长和宽各增加4米，则新矩形花圃的面积比原来的面积增加了40平方米。那么，原矩形花圃的周长是多少：
- A . 12米
 - B . 24米
 - C . 32米
 - D . 40米
27. 小王从编号分别为1，2，3，4，5的5本书中随机抽出3本，那么这3本书的编号恰好为相邻三个整数的概率为：
- A . 3/10
 - B . 2/5
 - C . 1/2
 - D . 3/5
28. 某地举办铁人三项比赛，全程为51.5千米，游泳、自行车、长跑的路程之比为3：80：20。小陈在这三个项目花费的时间之比为3：8：4，比赛中他长跑的平均速度是15千米/小时，且两次换项共耗时4分钟，那么他完成比赛共耗时多少：
- A . 2小时14分
 - B . 2小时24分
 - C . 2小时34分
 - D . 2小时44分
29. 某大学考场在8个时间段内共安排了10场考试，除了中间某个时间段，不安排考试外，其他每个时间段安排1场或2场考试。
- 那么，考场有多少种考试安排方式：（不考虑考试科目的不同）
- A . 210
 - B . 270
 - C . 280
 - D . 300
30. 小张家距离工厂15千米，乘坐班车20分钟可到工厂。一天，他错过班车，改乘出租车上班。出租车出发

时间比班车晚4分钟，送小张到工厂后出租车马上原路返回，在距离工厂1.875千米处与班车相遇。如果班车和出租车都是匀速运动且不计上下车时间，那么小张比班车早多少分钟到达工厂：

- A . 3
- B . 4
- C . 5
- D . 6

31. 某公司销售部拟派3名销售主管和6名销售人员前往3座城市进行市场调研，每座城市派销售主管1名，销售人员2名。那么，不同的人员派遣方案有：

- A . 540种
- B . 1080种
- C . 1620种
- D . 3240种

32. 妈妈为了给过生日的小东一个惊喜，在一底面半径为20cm，高为60cm的圆锥形生日帽内藏了一个圆柱形礼物盒。为了不让小东事先发现礼物盒，该礼物盒的侧面积最大为多少：

- A . 600π 平方厘米
- B . 640π 平方厘米
- C . 800π 平方厘米
- D . 1200π 平方厘米

33. 某机场一条自动人行道长42m，运行速度为0.75m/s。小王在自动人行道的起始点将一件包裹通过自动人行道传递给位于终点的小明。小明为了节省时间，在包裹开始传递时，沿着自动人行道逆行领取包裹并返回。假定小明的步行速度为1m/s，则小明拿到包裹并返回到自动人行道终点共需要时间是：

- A . 24秒
- B . 42秒
- C . 48秒
- D . 56秒

34. 体育彩票22选5中使用的22个彩球除编号不同外，其余完全一样。由于生产过程疏忽，22个彩球中有一个球的重量略重于其他球。现需用天平将该球找出，那么，在最优方案下，最多要使用天平：

- A . 3次
- B . 4次
- C . 5次
- D . 6次

35. 某件刺绣产品，需要效率相当的三名绣工8天才能完成；绣品完成50%时，一人有事提前离开，绣品由剩下的两人继续完成；绣品完成75%时，又有一人离开，绣品由最后剩下的那个人做完。那么完成该件绣

品一共用了多少天：

- A . 10天
- B . 11天
- C . 12天
- D . 13天


36. 小明负责将某农场的鸡蛋运送到小卖部。按照规定，每送到1枚完整无损的鸡蛋，可得运费0.1元；若鸡蛋有损，不仅得不到该鸡蛋的运费，每破损一枚鸡蛋还要赔偿0.4元。小明10月份共运送鸡蛋25000枚，获得运费2480元。那么在运送的过程中，鸡蛋破损了：

- A . 20枚
- B . 30枚
- C . 40枚
- D . 50枚

37. 为规范和平衡进口行业，国家对跨境电商进口施行新的税收政策，因此海外代购的成本大幅上涨，代购商也相应提高了零售价。若某种代购商品国内零售价格上涨的额度是其海外采购成本上涨额度的2倍，这样消费者花6000元所能购买的这种商品数量比之前减少了20件，代购商的利润率则从原先的25%上升到三分之一，那么税改后该代购商出售此种商品每件的利润是多少元：

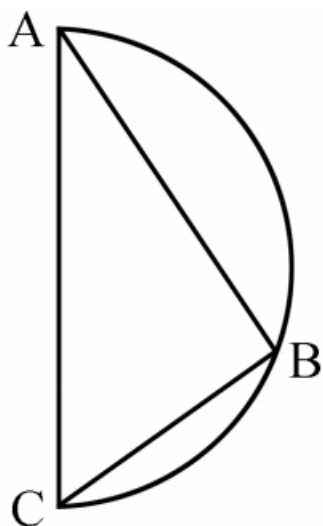
- A . 15
- B . 20
- C . 25
- D . 30

38. 某水库决定对堤坝进行处理。如右图所示，水库大坝的迎水面的坡角为 α ，坝高为10米。现要加高大坝，使坡度为1 : 1（坡度坡角的正切值），那么大坝要加高多少米：



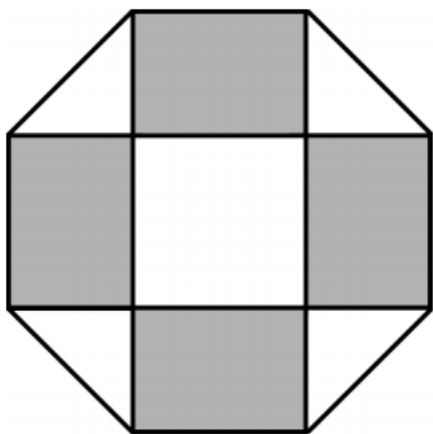
- A . $10 \cot \alpha - 10$
- B . $10 \tan \alpha - 10$
- C . $10 \tan \alpha$
- D . $10 \cot \alpha$

39. 如图所示，甲和乙在面积为 54π 平方米的半圆形游泳池内游泳。他们分别从位置A和B同时出发，沿着直线同时游到位置C，若甲的速度是乙的2倍，则原来甲、乙相距：



- A . $9\sqrt{2}$ 米
- B . 15米
- C . $9\sqrt{3}$ 米
- D . 18米

40. 如下图所示，幼儿园老师用边长10厘米的正八边形纸皮，裁去四个同样大小的等腰直角三角形，做成长方体包装盒。如果用该包装盒存放体积为8立方厘米的立方体积木（不得凸出包装盒外沿），那么这个盒子最多可以放入多少块积木：



- A . 75
- B . 80
- C . 85
- D . 90

常识判断

请根据题目要求，在每个选项中选出一个最恰当的答案。

41. 下列说法错误的是：

- A . 2016年里约热内卢举办了第31届夏季奥林匹克运动会

- B . 河北张家口具有2022年第24届冬季奥运会主办资格
- C . 动漫人物铁臂阿童木出任东京申奥特殊大使开创了先河
- D . 北京是目前唯一获得夏季奥运会和冬季奥运会举办权的城市
42. 下列关于“海上丝绸之路”的说法错误的是：
- A . 是陆上丝绸之路的一种补充形式
- B . 是意大利人马可波罗回国所走之路
- C . 始于秦汉，繁荣于唐宋，衰落于明清
- D . 是古代中外贸易和对外交往的海上通道
43. 随着我国社会逐步进入老龄化，现有的养老模式一般包括家庭养老、机构养老、社区养老和以房养老等。
- 下列关于我国农村老人养老模式的表述错误的是：
- A . 张大爷根据四个儿子之间的协议，每月轮流到其中一个儿子家中生活
- B . 王大娘的两个儿子均没空照顾老人，于是将其送到附近一家养老机构
- C . 李大爷选择将房子抵押给金融机构，由金融机构每月支付其养老费用
- D . 赵大娘不愿离开熟悉的社区和朋友，于是选择在社区服务机构中养老
44. 下列言行体现公民没有自觉履行法定义务的是：
- ①“听说你养母病了？”“与我无关，我是被收养的。”
- ②“听说你生父生病了？”“与我无关，我已经被叔叔收养了。”
- ③“爸，大学催缴学杂费了。”“你都成年了，自己挣钱交去。”
- ④“爸，小学催缴生活费了。”“我与你妈离婚了，找她要去。”
- A . ①③
- B . ①④
- C . ②③
- D . ②④
45. 王某将自家三层楼房的建造工程承包给没有施工资质的包工头李某。双方合同约定，李某“包工不包料”，在施工过程中产生的一切责任由李某承担。李某找来邻居张某帮工，工资100元/天。施工过程中脚手架倒塌，将在地面往上递砖块的张某压成重伤。张某要求包工头李某赔偿医药费、误工费等。李某不允，双方闹至法院。
- 那么，下列说法正确的是：
- A . 李某要承担全部责任
- B . 王某、李某、张某都要承担责任
- C . 李某、张某承担责任，王某没有责任
- D . 王某、李某承担责任，张某没有责任

46. 下列诗句中没有传达出幸福感的是：
- A . 却看妻子愁何在，漫卷诗书喜欲狂
 - B . 两岸猿声啼不住，轻舟已过万重山
 - C . 枝上柳绵吹又少，天涯何处无芳草
 - D . 春风得意马蹄疾，一日看尽长安花
47. 下列我国的世界遗产不属于多省联合申遗的是：
- A . 土司遗址
 - B . 丝绸之路
 - C . 中国丹霞
 - D . 大足石刻
48. “云母屏风烛影深，长河渐落晓星沉”描写的是一天之中的哪一时段：
- A . 黄昏
 - B . 夜半
 - C . 黎明
 - D . 午后
49. 首因效应也叫第一印象效应，是指个体在社会认知过程中，通过“第一印象”最先输入的信息对客体以后的认知产生的影响作用。
- 下列选项符合首因效应的是：
- A . 物以类聚
 - B . 削足适履
 - C . 恶人先告状
 - D . 一俊遮百丑
50. 下列哪一项不属于孔子提倡的教学方法：
- A . 因材施教
 - B . 学而优则仕
 - C . 启发诱导
 - D . 学思行结合
51. 下列关于国际战争的说法错误的是：
- A . 前苏联于1978年入侵阿富汗，持续十余年
 - B . 1990年开始的海湾战争源于伊朗入侵科威特
 - C . 中东战争是以色列与周边阿拉伯国家所进行的五次大规模战争
 - D . 1982年4月~6月，英国和阿根廷爆发了马尔维纳斯群岛海战

52. 下列哪一选项描述的是竞争关系：

- A . 鹬蚌相争
- B . 不见兔子不撒鹰
- C . 螳螂捕蝉，黄雀在后
- D . 鸠占鹊巢

53. 下列关于生活常识的表述错误的是：

- A . 水在真空中先沸腾后结冰
- B . 颜色深的汽车隔热膜，隔热效果好
- C . 纯水（只有水分子）在 0°C 时不会结冰
- D . 天凉时，湿润的地方比干旱的地方使人觉得更冷

54. 近年来，粉尘爆炸事件屡见不鲜。下列粉尘中不容易引起爆炸的是：

- A . 肥皂粉
- B . 水泥粉
- C . 面粉
- D . 奶粉

55. 自来水厂用来进行水消毒处理的常用化学试剂是：

- A . 臭氧
- B . 氯气
- C . 过氧化氢
- D . 碘伏

56. 《黄帝内经》深受诸子百家学术思想的影响，其中有这么一段话：“心者，君主之官也，神明出焉。肺者，相傅之官，治节出焉。肝者，将军之官，谋虑出焉。胆者，中正之官，决断出焉。膻中者，臣使之官，喜乐出焉。”

这段论述受到下列哪一学派思想的影响：

- A . 儒家
- B . 道家
- C . 法家
- D . 墨家

57. 下列哪两种疾病是由细菌引起的：

- A . 手足口病、狂犬病
- B . 麻疹、腮腺炎
- C . 肺结核、破伤风
- D . 非典型肺炎、水痘

58. 下列关于胎儿与母体关系的表述错误的是：

- A . 胎儿与母体具有不同的遗传物质
- B . 胎儿与母体的血液通过脐带相通
- C . 胎儿在母体中的发育场所是子宫
- D . 胎儿与母体通过胎盘进行物质交换

59. 对着电视画面拍照，应关闭照相机闪光灯和室内照明灯，这样照出的照片画面更清晰。

这是因为：

- A . 闪光灯和照明灯在电视屏上的反射光会干扰电视画面的透射光
- B . 闪光灯和照明灯在电视屏上的反射光会干扰电视画面的散射光
- C . 闪光灯和照明灯在电视屏上的透射光会干扰电视画面的散射光
- D . 闪光灯和照明灯在电视屏上的透射光会干扰电视画面的反射光

60. 海绵城市，指城市能够像海绵一样，在适应环境变化和应对自然灾害等方面具有良好的“弹性”，下雨时吸水、蓄水、渗水、净水。需要时将蓄存的水“释放”并加以利用。

下列属于“城市海绵体”的是：

- A . 完善的地下排水管网，绿地、花园、大型写字楼等城市配套设施
- B . 江河、湖、湿地等水系，绿地、花园、可渗透路面等城市配套设施
- C . 完善的地下排水管网，绿地、花园、硬质柏油或水泥等城市配套设施
- D . 江河、湖、湿地等水系，城市花园、硬质柏油或水泥等城市配套设施

判断推理

请根据题目要求，在每个选项中选出一个最恰当的答案。

61. 进士：状元

- A . 河水：海水
- B . 银河：天文
- C . 学位：博士
- D . 宪法：民法

62. 茶树：茉莉花茶

- A . 梅树：梅花糕
- B . 小麦：肉夹馍
- C . 螃蟹：蟹黄包
- D . 冬瓜：冬瓜糖

63. 救援：围魏救赵

- A . 进攻：风声鹤唳

- B . 防守 : 草木皆兵
 - C . 追击 : 穷寇勿追
 - D . 转移 : 斗折蛇行
64. 虚数 : 复数
- A . 法律 : 刑法
 - B . 麦子 : 水稻
 - C . 祥林嫂 : 《祝福》
 - D . 人工智能 : 计算机科学
65. 农家乐 : 农家 : 乐
- A . 一日游 : 一日 : 游
 - B . 广场舞 : 广场 : 舞
 - C . 袋鼠跳 : 袋鼠 : 跳
 - D . 颅内伤 : 颅内 : 伤
66. 中子 : 辐射 : 军事
- A . 货车 : 交通 : 运输
 - B . 电解质 : 物理 : 化学
 - C . 薄膜 : 隔热 : 大棚
 - D . 干冰 : 吸热 : 消防
67. 讨论 : 会议 : 方案
- A . 调研 : 基层 : 实情
 - B . 研究 : 手机 : 销量
 - C . 分析 : 汽车 : 技术
 - D . 合作 : 课题 : 计划
68. 番茄 之于 () 相当于 () 之于 蹴鞠
- A . 美洲 中国
 - B . 炒饭 健身
 - C . 植物 人类
 - D . 白菜 篮球
69. 违约 之于 () 相当于 () 之于 承诺
- A . 法律 : 民俗
 - B . 处罚 : 兑现
 - C . 合同 : 食言
 - D . 赔偿 : 责任

70. () 之于 精当 相当于 固若金汤 之于 ()
- A . 瑕瑜互见 牢靠
 - B . 字字珠玑 防御
 - C . 无懈可击 城池
 - D . 不刊之论 坚实
71. 共享经济指借助网络第三方平台，基于闲置资源使用权的暂时性转移，实现生产要素的社会化，提高存量资产的使用效率以创造更多价值，促进社会经济的可持续发展。
- 根据上述定义，下列经济活动不属于共享经济的是：
- A . 王某从某网络平台订车去飞机场，方便快捷
 - B . 李某从某网络平台贷款炒股，获得了预期收益
 - C . 张某从某网络平台购买外卖美食，在家享受美味
 - D . 马某旅行前从某网络平台预订民宿，抵达后入住
72. 非爱行为，指以爱的名义，对自己亲近的人进行非爱性的掠夺，即违背他人主观意愿，在精神与行为方面强制控制，迫使对方按照施控者的意愿去行为做事，这一行为往往发生在夫妻、恋人、父母与子女等最亲近的人之间。
- 根据上述定义，下列属于非爱行为的是：
- A . 张某按照医嘱，要求女儿每三个小时做一次牵引，以消除疼痛
 - B . 林某强迫儿子每天练琴3小时，争取在钢琴大赛中取得好成绩
 - C . 陈某为防止患精神病的女儿逃跑，将其关在地下室禁止其出入
 - D . 李某按照轮流陪护协议，要求妻子前往医院陪护患重病的母亲
73. 我国《婚姻法》规定，禁止直系血亲和三代以内旁系血亲结婚。直系血亲是指和自己有直接血缘关系的亲属，三代以内旁系血亲是指与己身出自同一父母或同一祖父母、外祖父母，除直系血亲外的所有血亲。
- 根据上述定义，下列选项中的甲和乙可以结婚的是：
- A . 张某是甲（女）的姨父，乙系张某的儿子
 - B . 李某是乙（女）的姑父，甲系李某的儿子
 - C . 甲是林某与前夫的儿子，乙是林某与后夫的女儿
 - D . 王某是张某的舅舅，甲系王某的儿子，乙系张某的女儿
74. 自我效能感是个体对自己能否成功操作某一行为达到某种预期效果的主观预期和推断。当面临困难任务时，低自我效能感的人比高自我效能感的人更集中于问题存在的障碍、失败影响以及个人缺陷上。
- 根据上述定义，下列选项属于低自我效能感表现的是：
- A . 破釜沉舟
 - B . 画饼充饥

C. 心急如焚

D. 睹物兴悲

75. 描写就是用生动形象的语言，把人物或景物的状态具体地描绘出来。从描写的角度分，可分为正面描写和侧面描写。正面描写是指直接展现景物、环境的特点或通过描写人物的外貌、心理和行动来体现人物的个性特征。侧面描写又叫间接描写，是从侧面的角度烘托人物形象、景物特征或相关事态。

根据上述定义，下列选项既有正面描写，又有侧面描写的是：

A. 一道残阳铺水中，半江瑟瑟半江红

B. 大漠风尘日色昏，红旗半卷出辕门

C. 天姥连天向天横，势拔五岳掩赤城

D. 千里莺啼绿映红，水村山郭酒旗风

76. 心理人类学是介于文化人类学与心理学之间的交叉学科，主要研究并了解文化对所属社会成员产生影响的心理机制，发现在个体水平上的心理变量与在总体水平上的文化、社会、经济、生态和生物变量之间的关系。

根据上述定义，下列选项属于心理人类学研究范畴的是：

A. “五四”前后诗歌风格的比较

B. 当代流行话语下的社会主流价值

C. 草原文明与蒙古民族性格的养成

D. 从《背影》看作者对父亲态度的变化

77. 人类增强技术就是利用生物医学技术、智能技术、神经科学技术、信息技术和纳米技术等高新技术手段使健康人类的机体功能或能力超出其正常范围，从而使人类的体貌、寿命、人格、认知和行为等能力发生根本性变化并具有全新能力的一种技术手段。其目的是显著提高人类美好生活的质量。

根据上述定义，下列选项不属于人类增强技术的是：

A. 演员赵某用药剂延缓衰老

B. 医生建议老张去做心脏搭桥手术

C. 医生将传感器植入老陈大脑提高其记忆力

D. 小王为了增加自己的身高服用类增高药物

78. 木椅子效应是指将成绩相等的两组学生分别安排坐在舒适的沙发椅和很不舒服的木椅子上学习，不久之后，坐木椅子的学生学习成绩要比坐沙发椅的学生成绩高出很多。原因是坐木椅子的学生因为不舒服而不断调整坐姿，表面看起来好像不安而好动，实质却因此给脑部供应了更多的血液和营养；而坐沙发椅的学生，由于舒适而一动不动，致使血液循环相对减慢，脑部得到的血液和营养相对减少，学习效果因此就差了一些。

根据上述定义，下列选项最能体现木椅子效应的是：

A. 某学生从小到大饱受责罚，学习成绩一直不理想

- B. 小刚每天步行上学和回家，风雨无阻却学得很好
- C. 某家长为鼓励孩子暑天学习，每天为其提供冷饮
- D. 搬入新书房一个月后，小明的成绩名次一路攀升

79. 随着科学技术的发展，人机交流已经成为现实，这其中的关键是脑机接口技术。所谓脑机接口，就是连接大脑与计算机之间的信息系统，可让大脑直接和计算机沟通。脑机接口可以从大脑传递信息到计算机，又可以从计算机传递信息进入大脑。

根据上述定义，下列应用不属于脑机接口技术的是：

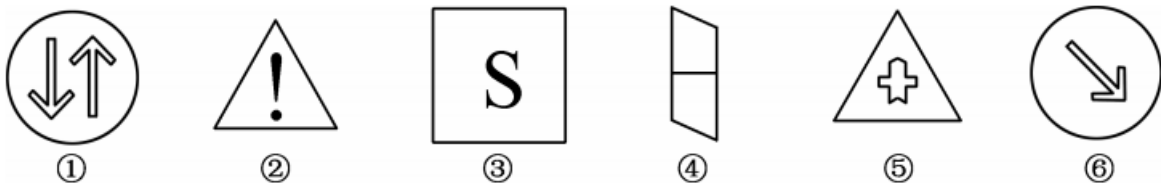
- A. 某游戏玩家的大脑植入一部装置，通过该装置用意念控制机械手，端起杯子喝茶
- B. 某游戏玩家佩戴一套义肢设备，经过多次练习，凭着坚强的意志力实现行走
- C. 某游戏玩家佩戴一种脸部饰品，饰品根据佩戴者的情绪变化做出相应的指示动作
- D. 某游泳玩家戴上一套高科技耳机，集中注意力，通过精神控制小球躲避障碍

80. 数据挖掘（Data mining）是指从大量的存储数据中利用统计、情报检索、模式识别、在线分析处理和专家系统（依靠过去的经验）等方法或技术，发现隐含在其中、事先不知道但又是潜在有用的信息和知识的信息处理过程。

根据上述定义，下列不属于数据挖掘应用的是：

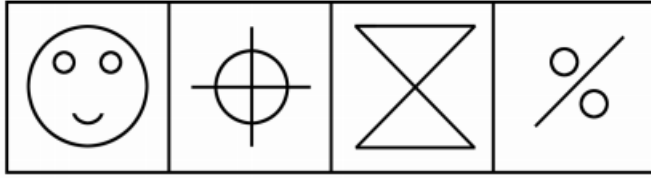
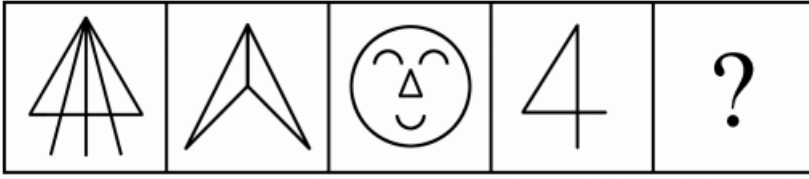
- A. 某全球零售企业在分析上一年度消费者购物行为后，推出“尿布+啤酒”促销举措，使得二者销售量大幅增加
- B. 某国际快递和物流公司使用RFID（无线射频识别）技术在不同时间点跨境全程监控和调整药品装运的温度
- C. 某大型网上书店在客户选购一种图书时，推出“购买该商品的客户还购买了”等栏目，从而增加客观收益
- D. 某高校要求教师使用网上教学管理系统，录入学生的期末考试成绩，以便借助短信群发软件告知学生成绩

81. 把下面的六个平面图形分为两类，使每一类图形都有各自的共同特征或规律，分类正确的一项是：



- A. ①②⑤，③④⑥
- B. ①③⑥，②④⑤
- C. ①②④，③⑤⑥
- D. ①③④，②⑤⑥

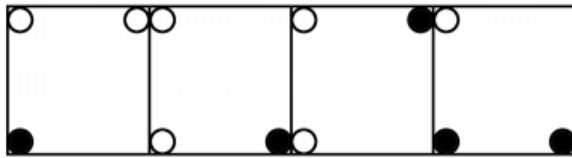
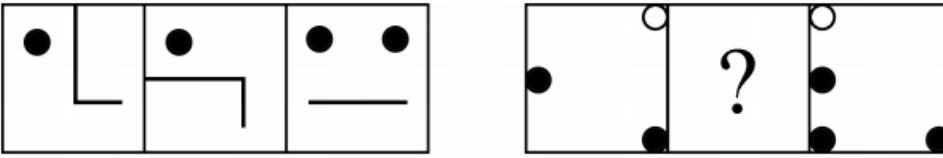
82. 从所给的四个选项中，选择最合适的一个填入问号处，使之呈现一定的规律性：



A B C D

- A . A
- B . B
- C . C
- D . D

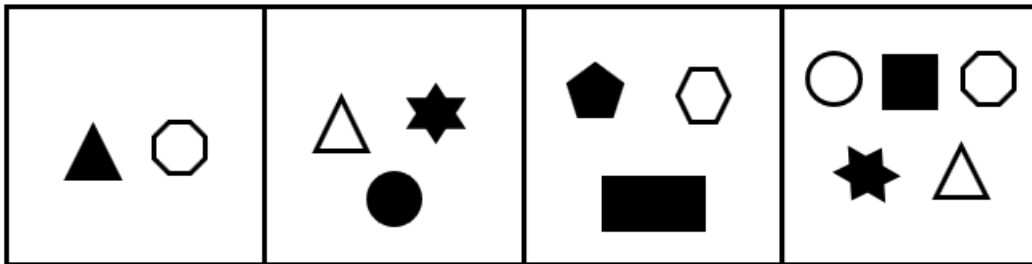

83. 从所给的四个选项中，选择最合适的一个填入问号处，使之呈现一定的规律性：



A B C D

- A . A
- B . B
- C . C
- D . D

84. 从所给的四个选项中，选择最合适的一个填入问号处，使之呈现一定的规律性：



A

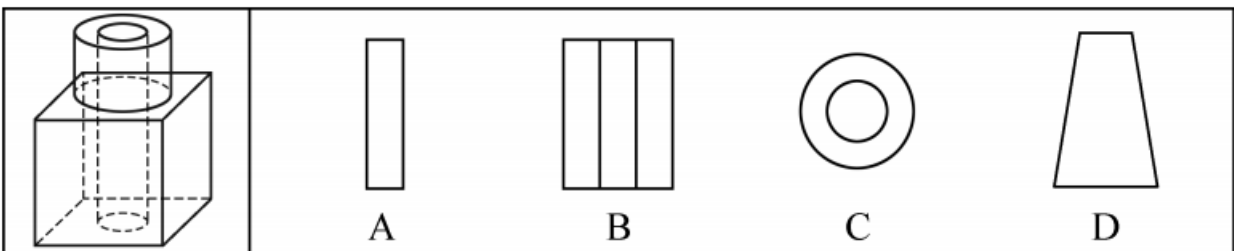
B

C

D

- A . A
- B . B
- C . C
- D . D

85. 如图所示，在立方体上叠加圆柱体，再打通一个圆柱孔，然后从任意面剖开，下面哪一项不可能是该立体图形的截面：



- A . A
- B . B

C . C

D . D

86. 汽车行业作为制造业中技术含量、智能化程度和产业集中度较高的代表，已经成为了德国“工业4.0”的先导阵地。长期处于2.0工业思维中的中国汽车要在全世界占有一席之地，进行技术创新与变革和拥有丰富经验的资深人才必不可少，而高薪和福利成为吸引人才的制胜法宝。

由此可以推出：

- A . 如果能够吸引到资深人才，中国汽车制造业的改革就能成功
- B . 高薪和福利是很多中国职场人士选择职业时的一个重要关注点
- C . 德国汽车制造业在世界汽车行业具有举足轻重的地位和影响力
- D . 不进行技术变革，中国汽车制造业就不能在全世界占有一席之地

87. 很多家长认为，孩子不听话，“打屁屁”惩罚一下，至少能让孩子注意到自己的行为不当，变得更听话一些。还有一些人坚持“不严加管教会惯坏孩子”的传统信念，认为“打屁屁”是为孩子好。研究者对16万名儿童在过去5年里的经历进行研究，通过收集“打屁屁”行为的原数据加以分析，发现：打屁股会在儿童成长过程中造成智商低、攻击性行为高等多种负面影响。

以下哪项如果为真，最能支持上述结论：

- A . 最新调查显示，智商相对较低的孩子大多数经常被家长打屁股
- B . 本身不听话且更容易惹祸的孩子更有可能受到父母的严厉惩罚
- C . 研究报告称全球大约80%的父母都有以打屁股管教孩子的经历
- D . 被打屁股而困惑的孩子只懂得按家长要求去做而不会独立思考

88. 一项研究显示，先让受试者参加消除某项偏见的学习，并给受试者播放该偏见学习相关的声音。之后，让受试者进入深度睡眠状态，同时重复播放那些相关的声音，以重新激活消除该偏见的学习。结果发现，该偏见比睡眠前大大减少，且睡眠质量越高，偏见减少得越多。研究人员据此推测，睡眠干预可减少社会偏见与歧视。

以下哪项如果为真，最能支持上述论证：

- A . 普通民众难以得到消除偏见学习的睡眠干预
- B . 睡眠充足、睡眠质量高的人比其他人更不易产生偏见与歧视
- C . 有身高歧视、相貌歧视的人经过睡眠干预后，歧视程度明显降低
- D . 在接受睡眠干预的受试者中，有一部分人并不存在明显的偏见与歧视

89. 荷兰研究人员一直在试图模拟月球和火星的土壤条件进行农作物栽培试验。他们对该项试验种出的小红萝卜、豌豆、黑麦和西红柿进行初步分析。实验结果令人充满希望，这些产品不仅安全，而且可能比在地球土壤种出的农作物更健康。英国媒体称，能在火星土壤种出可食用作物，移民火星的希望又向前迈进了一步。

如果以下各项为真，不能质疑英国媒体说法的是：

- A. 火星土壤重金属占比和地球不一样
B. 在一个同类实验中土豆的长势很糟糕
C. 从实验到真正付诸实践还有很长的路要走
D. 月球、火星、地球的气候条件有很大不同
90. 柠烯，俗称柠檬精油。它通常被用于制作柑橘香味剂，是很多空气清新剂、身体喷雾剂等芳香剂重要的化学成分之一。柠烯本身并不可怕，因为该化学物质对人体不会形成大的危害，事实上，它可被用于食品的调味剂。然而柠烯一旦被喷入空气中，很快就会有所变化。研究表明，当柠烯暴露于普遍存在于空气的臭氧中时，两个柠烯分子会形成一个单分子化合物——甲醇。当房间中大量的柠烯被转化成甲醇时，其影响将迥然不同。
- 由此可以推出：
- A. 使用空气清新剂，可能会对我们自身有害处
B. 柠烯被用作食品的调味剂时，会对人体产生危害
C. 如果房间中测出甲醇浓度高，则说明使用了太多芳香剂
D. 在生活中，我们应该尽量避免使用含有柠烯成分的物品
91. 如果向大气排放CO₂累积超过32000亿吨，那么到本世纪末，将升温控制在2°C以内的门槛就守不住了。有科学家认为，为了达到将升温幅度控制在2°C以内的目标，仅仅限制CO₂排放量是不够的，必须在全球范围内大规模开展大气CO₂的回收活动，使大气污染程度得到有效控制和缓解。
- 若要使上述科学家的想法成立，最需补充以下哪项作为前提：
- A. 全球范围内普及关于气候变化的科学知识
B. 各国政府推出有效政策来控制CO₂排放量
C. 科学界整合资源来支持发展地球工程技术
D. 各地都建立能有效回收和储存CO₂的机制
92. 作为抗衰老药物，雷帕霉素延长寿命的秘密在于能够阻断mTOR通道——这也是控制着影响细胞生长繁殖流程的“主开关”之一。当食物充足时，这种通道从激素和营养物质中获得信号使细胞吸收营养并生长，但细胞进行新陈代谢和生长的过程中会产生激发细胞老化的副产物；当限制食物热量的摄入时，这个通道可以发出信号使细胞停止生长，借此来延缓衰老。雷帕霉素可能是目前已发现的最有效可靠的抗衰老药物。
- 以下哪项如果为真，不能支持上述结论：
- A. 由于具有抑制细胞生长的作用，雷帕霉素被用于治疗某些癌症
B. 雷帕霉素在延缓衰老的同时，使人更易受到细菌和病毒的侵袭
C. 试验研究已经证明雷帕霉素能够延长酵母、蠕虫和果蝇的寿命
D. 雷帕霉素可以阻断mTOR通道，而不需要限制食物热量的摄入
93. 某机构为研究“轻断食”与人体健康的关系，招募一批志愿者做试验。志愿者分为两组，试验期6个月，饮

食推荐量实行同一标准。第一组志愿者，每个月中有5天连续断食，第1天，热量摄入被减至推荐量的一半，后4天每日仅为推荐量的三分之一。第二组志愿者，在试验期中的每一天都正常饮食。试验结果显示，第一组志愿者的身体状况得到明显改善。由此研究人员得出结论：“轻断食”使志愿者体内产生较多酮体，氧化应激和炎症标志物水平均有所下降。

以下哪项如果为真，最能削弱研究人员的结论：

- A . 所招募志愿者的身体机能和应激反应等本身就有差异
- B . 实行连续断食的某位志愿者的身体炎症得到较大缓解
- C . 试验开始之前志愿者体检显示相关健康指标基本相似
- D . 第二组的某位志愿者在试验结束后健康水平有所下降

94. 提高能源使用效率、鼓励能源灵活利用是英国减少温室气体排放政策的一个必要环节，它需要采用智能技术，包括通过智能表将能源使用信息从需求方面或客户发送到能源公司等。该信息可用于制定和实施更高效的能源使用条例。但英国消费者对此态度不一，因为该技术用于监控和支持能源高效率使用行为时，居民个人及家庭的能源数据不得不被动分享。所以，个人使用能源相关数据的被动分享有可能成为推广智能技术的最主要障碍。

以下哪项如果为真，最能支持上述结论：

- A . 60%的调查者表示，不愿意因数据被动分享而降低个人能源使用比例
- B . 60%的调查者认为，数据的被动分享大大增加个人隐私被侵犯的风险
- C . 60%的调查者表示，那些关心气候变化的人更可能接受数据被动分享
- D . 60%的调查者认为，数据不可能不被分享，否则智能技术不可能应用

95. 某科研机构提出潮湿的沙子是古埃及人在沙漠中搬运巨大石块和雕像的关键。研究人员指出，古埃及人将沉重的石块放上滑撬后，先在滑撬前铺设一层潮湿的沙，再牵引它们，这种搬运方式起到了意想不到的效果。在实验中，研究人员使用流变仪测试沙子的硬度，以证实需要多少牵引力才能使一定数量的沙子变形，并在此基础上设计了牵引力模型，从中发现将沙子铺在滑撬前更容易移动重物，并且沙子所含水分决定了沙子的硬度和牵引力。

以下哪项如果为真，最能支持上述结论：

- A . 在一幅古埃及墓室壁画中，一名男子站在滑撬前方，似乎正在浇水
- B . 滑撬牵引力与沙子的硬度成反比，潮湿沙子的硬度是干燥沙子的两倍
- C . 实验证明，铺设在滑撬前的潮湿沙子容易堆积，形成较大的滑动阻力
- D . 一个实验室版的埃及滑撬被成功建造，能够模拟古埃及工地的实况

资料分析

请根据题目要求，在每个选项中选出一个最恰当的答案。

2015年全国及部分省（市）一般公共预算收入与GDP相关关系

地区	一般公共预算收入				GDP	
	数值(亿元)	同比增长(%)	税收收入		数值(亿元)	同比增长(%)
			数值(亿元)	同比增长(%)		
全国	152217	8.4	124892	4.8	676708	6.9
上海	5519.5	20.4	4858.2	15.1	24965	6.9
江苏	8028.6	11	6610.1	10.1	70116.4	8.5
浙江	4809.5	16.7	4167.7	8.1	42886	8
安徽	2454.2	10.6	1799.8	6.3	22005.6	8.7
福建	2544.1	7.7	1938.6	2.4	25979.8	9
江西	2165.5	15.1	1516.9	9.8	16723.8	9.1
山东	5529.3	10	4203.1	6	63002.3	8

96. 2015年税收收入占一般公共预算收入比重最大的是：

- A . 上海
- B . 江苏
- C . 浙江
- D . 福建

97. 2015年江苏、浙江、江西三省的税收收入平均增速是：

- A . 8.0%
- B . 8.5%
- C . 9.4%
- D . 10.2%

98. 2015年一般公共预算收入与GDP的比值大于10%的省(市)有：

- A . 4个
- B . 5个
- C . 6个
- D . 7个

99. 2014年福建GDP占全国GDP的比重较江苏：

- A . 多6.4个百分点
- B . 少6.4个百分点
- C . 多5.9个百分点
- D . 少5.9个百分点

100.关于一般公共预算收入、税收收入、GDP等指标，下列说法错误的是：

- A . 2015年上海一般公共预算收入占GDP的比值最高
- B . 2015年江苏一般公共预算收入、税收收入、GDP均最高

- C . 2015年山东税收收入占全国税收收入的比重较江西高出2个百分点以上
- D . 2015年全国一般公共预算收入占GDP的比重较2014年有所减少

2015年国家自然科学基金委全年共接收173017项各类申请，同比增长约10%，择优资助各类项目40668项，比上年增加1579项，资助直接费用218.8亿元，平均资助强度（资助直接费用与资助项数的比值）53.8万元，各项工作取得新进展、新成效。

在研究项目系列方面，面上项目资助16709项，比上年增加1709项，占总项数的41%，直接费用102.41亿元，平均资助率（资助项目占接收申请项目的比重）22.9%，同比下降2.5个百分点。重点项目资助625项，同比增长约3.3%，直接费用17.88亿元。重大项目资助20项，直接费用3.18亿元。

在人才项目系列方面，青年科学基金资助16155项，比上年减少266项，占总项数的40%，直接费用31.95亿元，平均资助率24.6%，同比下降0.7个百分点。地区科学基金资助2829项，比上年增加78项，直接费用10.96亿元，有力推进了欠发达区域人才稳定与培养。优秀青年科学基金资助400人，国家杰出青年科学基金资助198人，新资助创新研究群体项目38项，促进了优秀人才和团队成长。

101.2015年地区科学基金资助的直接费用占总额的比重约为：

- A . 3%
- B . 5%
- C . 8%
- D . 10%

102.2015年重点项目的平均资助强度约为：

- A . 213万元
- B . 286万元
- C . 342万元
- D . 398万元

103.2015年面上项目资助项数占总资助项数的比重较上一年增加约：

- A . 4.2个百分点
- B . 3.8个百分点
- C . 3.1个百分点
- D . 2.6个百分点

104.2014年国家自然科学基金委共接收青年科学基金的申请数约为：

- A . 5.1万项
- B . 5.9万项
- C . 6.5万项
- D . 6.9万项

105.能够从上述资料中推出的是：

- A . 2015年重点项目的平均资助强度多于重大项目
- B . 2014年面上项目资助项数多于青年科学基金项目
- C . 2015年面上项目的平均资助率高于青年科学基金项目
- D . 2015年重点项目资助项数的同比增长率高于地区科学基金

2015年全国共建立社会捐助工作站、点和慈善超市3.0万个，比上一年减少0.2万个，其中：慈善超市9654个，同比下降5.1%。全年共接收社会捐赠款654.5亿元，其中：民政部门接收社会各界捐赠款44.2亿元，各类社会组织接收捐赠款610.3亿元。全年民政部门接收捐赠衣被4537.0万件，捐赠物资价值折合人民币5.2亿元。全年有1838.4万人次困难群众受益，同比增长8.5%，增长率较上一年下降27.5个百分点。全年有934.6万人次在社会服务领域提供了2700.7万小时的志愿服务，同比减少10.4万小时。

2011~2014年社会捐赠款和社会捐赠衣被情况

年份	民政部门接收社会捐赠款(亿元)	社会组织接收社会捐赠款(亿元)	民政部门接收捐赠衣被(万件)
2011	96.6	393.6	2918.5
2012	101.7	470.8	12538.2
2013	107.6	458.8	10405.0
2014	79.6	524.9	5244.5

106.2015年，全国建立的慈善超市较2014年约：

- A . 减少519个
- B . 增加519个
- C . 减少686个
- D . 增加686个


107.2015年受益的困难群众较2013年增长约：

- A . 27.6%
- B . 34.5%
- C . 40.4%
- D . 47.6%


108.2012~2015年社会组织接收社会捐赠款占总捐赠款的比重最高的是：

- A . 2012年
- B . 2013年
- C . 2014年
- D . 2015年

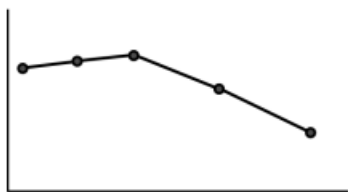
109.下面哪一张图能正确反映2011~2015年民政部门接收捐赠衣被数量的变化情况：




A



B



C



D

- A . A
- B . B
- C . C
- D . D

110.能够从上述资料中推出的是：

- A . 2011~2015年民政部门接收的社会捐赠款在持续增加
- B . 2015年民政部门接收捐赠衣被同比增长率高于2014年的二分之一
- C . 相比2014年，2015年在社会服务领域提供志愿服务的人次有所增加
- D . 2012~2015年社会组织接收社会捐赠款同比增长最快的年份是2012年



如何对答案：打开公考通app
进入历年真题，录入答案后即可评分并查看解析。