

2019年河北公务员考试行测 真题（县级）



打开公考通app
进入历年真题查看解析

常识判断

请根据题目要求，在每个选项中选出一个最恰当的答案。

- 2019年3月4日，习近平参加全国政协十三届二次会议文化艺术界、社会科学界委员联组会，讲话时引用“大鹏之动，非一羽之轻也；骐骥之速，非一足之力也”，强调实现中共十九大描绘的宏伟蓝图，必须紧紧依靠人民。“大鹏之动，非一羽之轻也；骐骥之速，非一足之力也”出自：
 - 《道德经》
 - 《孟子》
 - 《潜夫论》
 - 《论语》
- “四个全面”战略布局，确立了新的历史条件下党和国家各项工作的战略目标和战略举措，是我们党在新形势下治国理政的总方略，是事关党和国家长远发展的总战略。在“四个全面”战略布局中居于引领地位的是：
 - 全面深化改革
 - 全面依法治国
 - 全面从严治党
 - 全面建成小康社会
- 河北省九届六次全会提出，要抓好三件大事，打好六场硬仗，实施八项战略。其中的三件大事不包括：
 - 筹办北京冬奥会
 - 全力实施精准脱贫
 - 规划建设雄安新区
 - 推进京津冀协同发展
- 下列关于自然现象的解释，正确的一项是：
 - 冬天户外用嘴呼气冒“白气”，是气化现象
 - 白炽灯泡用久后玻璃泡壁变黑，是凝华现象
 - 利用干冰进行人工增雨，干冰发生的变化属于液化现象
 - 冬天房顶上的积雪虽没有融化，却逐渐减少，是蒸发现象
- 中央电视台天气预报栏目说，“今天白天晴间多云，最高温度25摄氏度”。这里的“今天白天”所指时间段是：
 - 6:00到18:00
 - 7:00到19:00
 - 8:00到20:00

- D . 9:00到21:00
6. 关于京杭大运河，下列说法不正确的是：
- A . 2014年入选世界文化遗产名录
 - B . 世界上里程最长、工程最大的古代运河
 - C . 沟通海河、黄河、淮河、长江、钱塘江五大水系
 - D . 途经今浙江、江苏、山东、河北、河南五省及天津、北京两市
7. 2019年4月27日，第二届“一带一路 ” 国际合作高峰论坛在北京举行。这次峰会的主题是：
- A . 深化合作，共创“一带一路”新发展
 - B . 推进互联互通，共创经济发展新未来
 - C . 共建“一带一路”，开创美好未来
 - D . 携手共进，展望未来，推动“一带一路”新发展
8. 十八大以来，我国实施了多项重大改革。按照时间先后排序，正确的一项是：
- ①设立上海自贸区
 - ②设立河北雄安新区
 - ③实施全面两孩政策
 - ④实施乡村振兴战略
- A . ①④②③
 - B . ②③①④
 - C . ②①③④
 - D . ①③②④
9. 在中国古代社会，“西席”这一称谓指的是：
- A . 客人
 - B . 老师
 - C . 女婿
 - D . 医生
10. 以下情况中，没有违反公务员法中需要任职回避规定情形的是：
- A . 小张和他的妻子在同一个厅级机关分别任不同处的处长
 - B . 老李是某厅级机关处长，其女儿是该处某科室的科员
 - C . 小刘是某厅级机关财务处科员，其妻小梁是该厅老干部处科员
 - D . 老周是某厅副厅长，其妻老钱是该厅人事处主任科员
11. 某县委办公室主任吴某，吩咐其下属孙某，利用举办会议的机会，通过虚开发票冒领会议经费44860元。孙某自己留下9860元，将其余的35000元交给吴某，吴某据为己有，此事被监察部门发现并移交司法机

关，吴某涉嫌的罪名是：

- A . 贪污罪
- B . 职务侵占罪
- C . 受贿罪
- D . 私分国有资产罪

12. 下列名词与内容对应不一致的是：

- A . BRICS/金砖国家
- B . 马歇尔计划/欧洲复兴方案
- C . “一带一路”/丝绸之路经济带和海上丝绸之路
- D . 《中美上海联合公报》/中美正式建交

13. 下列说法正确的是：

- A . 长白山地属暖温带的湿润地区
- B . 我国夏季气温分布的特点是：全国大多数地方普遍高温，南北方气温相差不大
- C . 农作物能够生长的时间被称为生长期，生长期一般比当地的无霜期要短十五天左右
- D . 河北的天气特点是：春季温暖，常有风沙；夏季炎热，雨量充沛；秋季凉爽，天气晴朗；冬季寒冷，有时下雪

14. 世界上蓄水量最大的淡水湖是：

- A . 贝加尔湖
- B . 里海
- C . 维多利亚湖
- D . 苏必利尔湖

15. 电影《流浪地球》反映了人类生存与太阳密不可分。下列现象与太阳辐射无关的是：

- A . 火山的喷发
- B . 风的形成
- C . 煤炭的形成
- D . 植物的生长

16. 一个国家的文化精华，称之为“国粹”。中国的三大国粹是：

- A . 国画、京剧和中医
- B . 儒学、国画和针灸
- C . 瓷器、书法和儒学
- D . 茶艺、昆曲和武术

17. 下列诗词与所描写节令不相符的是：

- A . 东风夜放花千树，更吹落，星如雨。宝马雕车香满路，凤箫声动，玉壶光转，一夜鱼龙舞。——元宵

节

B. 十轮霜影转庭梧，此夕羁人独向隅。未必素娥无怅恨，玉蟾清冷桂花孤。——七夕节

C. 冷食方多病，开襟一忻然。终令思故郡，烟火满晴川。杏粥犹堪食，榆羹已稍煎。唯恨乖亲燕，坐度此芳年。——寒食节

D. 无云世界秋三五，共看蟾盘上海涯。直到天头天尽处，不曾私照一人家。——中秋节

18. 关于下列体育项目，不正确的说法是：

A. 体操比赛男子有六个单项，女子有五个单项

B. 中国足球“要从娃娃抓起”是邓小平同志首次提出的

C. 乒乓球混双比赛是2020年东京奥运会正式比赛项目

D. 举重、跳水、体操、游泳项目，都是我国运动员在奥运会比赛中的优势项目

19. 某局长驾驶私家车与一辆接送孩子的人力三轮车剐蹭，导致三名小学生轻微擦伤，该局长亲自将孩子们送到县医院检查治疗后，又把孩子们送到学校正常上课。事故发生时，某企业职工杨某路过并用手机录制了一段视频，视频中虽未出现该局长的画面，但在视频中插入文字“局长驾车撞上三轮车，五名孩子严重受伤，局长态度嚣张，驾车扬长而去”等严重失实信息。杨某将该视频发到朋友圈后，又被广为转发，造成了不良社会影响。

对此事件，下列说法正确的是：

A. 杨某严重扰乱社会公共秩序，由检察机关提起公诉

B. 杨某不遵守社会公德，由所在企业进行处理和教育

C. 杨某违反治安管理处罚法，由公安机关予以相应处罚

D. 杨某的行为属于严重诽谤，由法院受理并判处刑罚

20. 我国到了明朝已形成完备的四级科举考试制度，由低到高的排列顺序是：

A. 院试-会试-乡试-殿试

B. 乡试-会试-院试-殿试

C. 乡试-会试-殿试-院试

D. 院试-乡试-会试-殿试

言语理解与表达

请根据题目要求，在每个选项中选出一个最恰当的答案。

21. 将一门技术掌握到_____绝非易事，但工匠精神的内涵远不限于此。倘若没有发自肺腑的热爱，怎有废寝忘食的付出？没有超今冠古的追求，怎有_____的卓越？没有物我两忘的境界，怎有脚踏实地的淡定？工匠精神所深藏的，有格物致知的生命哲学，也有超然达观的人生信念。

依次填入画横线部分最恰当的一项是：

A. 出神入化 遥遥领先

- B. 炉火纯青 出类拔萃
- C. 融会贯通 更胜一筹
- D. 尽善尽美 脱颖而出

22. 每一条河流都是一曲古老的赞歌，唱出了远古文明的_____，从未看过巨浪翻滚的人，难以想象万马奔腾、_____的壮丽景象。让我们迈开脚步，打开心扉，投入大自然的怀抱。

依次填入画横线部分最恰当的一项是：

- A. 辉煌 一泻千里
- B. 繁荣 一碧万顷
- C. 兴盛 一往无前
- D. 光芒 一望无际

23. 中国人对春天有着_____的感情，春季的节日也格外多，如春节、元宵节、寒食节、清明节等。人们对春天的希望，对人生的_____全在这些岁令时节中_____地表达出来。

依次填入画横线部分最恰当的一项是：

- A. 浓郁 遐想 酣畅淋漓
- B. 浓厚 追求 一览无余
- C. 非凡 寄语 毫无保留
- D. 深厚 畅想 淋漓尽致

24. 人们所肯定和赞赏的血性，应当属于性格评价和审美取向的范畴。血性是个_____而又朴拙的词汇，本身就具有张力和亢奋色彩。因此在理解和使用上应该有所_____，否则就会混淆粗犷与_____、豪壮与莽撞、文明与野蛮、人性与兽性。

依次填入画横线部分最恰当的一项是：

- A. 中性 限制 粗鲁
- B. 原始 界定 粗野
- C. 古老 区分 粗放
- D. 野性 取舍 粗疏

25. 成熟的麦穗在阳光下低垂着头，那是在教我们_____；忙碌的蜜蜂在田野里采集花粉，那是在教我们_____；柔弱的水珠在四季轮回中穿透顽石，那是在教我们_____。

依次填入画横线部分最恰当的一项是：

- A. 谦逊 辛劳 坚守
- B. 谦让 辛勤 坚持
- C. 谦卑 勤奋 执着
- D. 谦虚 勤劳 坚韧

26. 真正的诗意，不应只是优雅时光里读书弄茶的闲情逸致，更应是纵使身处_____，依然不忘抬头看那柳

梢的月、檐角的星。诗意不能带你渡过所有现实的难关，却能_____智慧，_____心灵，让平凡的生命，身在井隅，心向璀璨，追寻属于自己的不平凡。

依次填入画横线部分最恰当的一项是：

- A . 困境 启迪 抚慰
- B . 困顿 彰显 慰藉
- C . 困惑 启发 抚恤
- D . 困难 增益 安抚

27. 大部分的自然环境，若非人类加工_____，根本不适合人类生存，更谈不上美丽，更多的是荒凉与危险。就像一个看上去_____的美人，你不知道她为了保养成这样，_____了多少气力呢。

依次填入画横线部分最恰当的一项是：

- A . 整理 天生丽质 浪费
- B . 改造 完美无瑕 花费
- C . 整修 素颜天然 耗费
- D . 修理 魅力十足 付出

28. 全面依法治国，必须从我国_____出发，突出中国特色、实践特色、时代特色，既不能罔顾国情、超越阶段，也不能因循守旧、_____。

依次填入画横线部分最恰当的一项是：

- A . 国情 冥顽不化
- B . 实际 墨守成规
- C . 现状 食古不化
- D . 现实 茕茕子立

29. 紫荆花的叶子有一种韧性，无论风吹雨打，那叶子从不轻易飘落，在风雪中挺立，有着傲雪斗霜的性格，从来没有在寒冷中退缩，难道我们的学习不该有这种_____的精神吗？绿叶虽然没有紫荆花的芬芳，但却_____地为花输送养料，吸收阳光雨露，衬托那美丽的花朵，使其更加芬芳，我们做人不该有绿叶这样的奉献精神么？

依次填入画横线部分最恰当的一项是：

- A . 坚韧不拔 默默无闻
- B . 持之以恒 心甘情愿
- C . 百折不挠 风雨无阻
- D . 坚定不移 尽心竭力

30. 花开是常有的事，花开的香气更是_____。但是在这个只有我一个人的世界里，我就觉得很不_____。有花香慰我寂寥，我甚至有点因花香而_____了。

依次填入画横线部分最恰当的一项是：

- A . 见怪不怪 单纯 迷乱
- B . 唾手可得 简单 沉迷
- C . 习以为常 平凡 陶醉
- D . 司空见惯 寻常 沉醉

31. 东瓯的泥土与水色与魏晋名士的_____清俊之风最是相契。山水诗鼻祖谢灵运留给东瓯的“山水含清晖，清晖能娱人”，正暗合了“缥瓷”的_____。

依次填入画横线部分最恰当的一项是：

- A . 孤傲 风骨
- B . 隐逸 气质
- C . 脱俗 内涵
- D . 飘逸 风格

32. 所谓书卷气，是一种饱读诗书后形成的_____气质。书卷气来自读书，在幽幽书香的熏陶之下，浊俗可以变为清雅，奢华可以变为_____，促狭可以变为开阔，偏激可以变为_____。捧起书来吧，你会发现里面的风景美不胜收！

依次填入画横线部分最恰当的一项是：

- A . 高贵 淡然 谦和
- B . 儒雅 低调 平静
- C . 高雅 淡泊 平和
- D . 文雅 质朴 温顺

33. “神舟七号”航天团队_____的团结精神，是“嫦娥”成功奔月的强大动力；他们求真务实的工作作风，让“嫦娥”的舞姿_____完美；他们“一切为了祖国，一切为了成功”的航天精神，永恒地_____在浩瀚无垠的太空。

依次填入画横线部分最恰当的一项是：

- A . 同舟共济 精准 镌刻
- B . 众志成城 近乎 飘荡
- C . 休戚与共 典雅 刻画
- D . 同心协力 准确 凝聚

34. 一湾清清的沱江水穿城而过，一条条砖红的石板街_____，一排排_____的吊脚楼屹立在沱江两岸，一道饱经风雨的古城墙守护着淳朴的湘西人民……这些，构成了这座_____而美丽动人的古城。

依次填入画横线部分最恰当的一项是：

- A . 饱经沧桑 错落有致 历经风雨
- B . 曲折蜿蜒 饱经沧桑 淳朴厚重
- C . 纵横交错 小巧玲珑 饱经沧桑

D . 井然有序 参差错落 古朴厚重

35. 一般地说,“智慧”不同于“知识”的最大特点在于“智慧”具有原创性。“知识”要求“广”,“智慧”要求“新”。但两者又非绝对_____ ;“智慧”必须有“知识”作基础,反之,只死读书,而无己见,无创意,那就容易成为_____,也不算是“智慧”。

依次填入画横线部分最恰当的一项是 :

A . 对立 学究

B . 矛盾 古董

C . 等同 桎梏

D . 排斥 束缚

36. 在我们赖以生存的绿色星球上,_____着几块色彩斑斓的陆地,那是地球上的五大洲,在陆地之间_____着辽阔的蓝色水域,那是地球的四大洋。这里有生命存在,生物活跃在多彩的生态系统中,它们_____这个星球以绿色的情调和生命的意义。

依次填入画横线部分最恰当的一项是 :

A . 嵌入 布满 呈献

B . 勾画 覆盖 给予

C . 勾勒 填充 馈赠

D . 镶嵌 充盈 赋予

37. 著名教学论专家杨启亮先生的话震撼心灵:“每每看到越来越多的学生不喜欢写字,不喜欢汉语言文学,不喜欢千古传诵的诗词歌赋,_____无知于中国传统文化,就像看到黄河断流一样,会_____感慨却欲哭无泪,这真是令人_____的语文教学的命运……”

依次填入画横线部分最恰当的一项是 :

A . 茫然 凄然 心急

B . 茫然 凄然 心碎

C . 凄然 茫然 心烦

D . 凄然 茫然 心焦

38. 生命,是来自上天的馈赠。在父母_____的期盼中,我们呱呱坠地。因而,生命承载了太多希冀的目光和绵绵情谊。沐浴着老师_____般的教诲,我们逐渐成长。在生命的旅途中,尽管会遭逢坎坷或失败,但同时,我们收获更多的却是愉悦与成功。因此,我们应该善待自己的生命,要以自信、乐观、积极的人生态度来珍爱这_____的礼物。

依次填入画横线部分最恰当的一项是 :

A . 望穿秋水 和声细语 贵重

B . 令人神往 润物无声 厚实

C . 望眼欲穿 春风化雨 厚重

D. 百感交集 耳提面命 独特

39. 每种植物都有自己_____的气味。植物和动物也可以利用这些气味进行复杂的_____。比如花的香气可以吸引授粉者，果实的香气可以吸引采摘者，这些都有利于种群的_____。

依次填入画横线部分最恰当的一项是：

A. 独特 交际 壮大

B. 特有 对话 延续

C. 独到 沟通 发展

D. 特殊 交流 繁衍

40. 法国巴黎圣母院日前发生大火，近百米高的尖塔烧毁坠落，举世震惊。雨果笔下“石头的交响乐”_____，人类文明的瑰宝，差点_____。

依次填入画横线部分最恰当的一项是：

A. 偃旗息鼓 毁于一旦

B. 前功尽弃 烟消云散

C. 戛然而止 付之一炬

D. 曲终人散 黯然凋零

41. “晒”与“炫”之间并没有明确的界限，往往只是一步之遥。如果说有人晒孩子生活中的点点滴滴，比如一个可爱的动作，一句逗人发笑的话，还只是一种对孩子成长的纪念的话，那么晒孩子的成绩单、考试名次、各种竞赛奖状，就成了一种“炫”。为什么“晒娃”能够赢得祝福，而高调“炫娃”却往往让人反感呢？除了高调炫耀自己所拥有的东西会招致厌恶是大家的一种普遍心理之外，“炫娃”还会给朋友圈的亲朋好友带来很多意外的伤害。比如，你的孩子这次期末考试成绩优秀，被评为“三好学生”等等，如果你在朋友圈晒出孩子的成绩和奖状，并且把其视为自己教育的成功，而对于朋友圈里其他人来说，可能他们的孩子考试成绩不佳，也没有得到什么表彰和奖励，你的“晒娃”就会让他们充满了挫败感。

下列表述最符合作者意图的是：

A. 过度“晒娃”弊大于利

B. 在朋友圈里“晒娃”就是“炫”

C. 晒自己的娃，与其他人无关

D. “晒娃”要注意其他人的感受

42. 新媒体快速崛起，并以其快捷方便、信息海量、不受时间地点限制、受众门槛低等优势吸引了大众的眼球。传统媒体不得不重新定位自己的角色，寻求转型之路，但传统媒体的权威性不可替代。因此，二者的融合迫在眉睫。媒体融合不仅可以实现优势互补、取长补短，优化资源配置，还可以使正能量的传播方式多样化，传播效果达到最大化。

这段文字意在说明：

A. 新媒体迅速崛起，传统媒体日渐衰落

- B. 媒体融合时代，新闻工作者需要保持个性
- C. 传统媒体要增强活力，以更好地适应新形势
- D. 媒体融合不仅势在必行，而且具有多重优势

43. 考古学家戈登·柴尔德认为，我们应该像重视“工具制造”一样，重视人类“控制用火”的历史。人类漫长历史演进，无处不有“火烧过的痕迹”——火覆灭历史的信息，也产生新的信息。对这一点，木构建筑传统悠远的中国，最有痛切而真实的体会。比如中国重要建筑物上方常有“藻井”构造，其上还多用荷、莲、菱、藻等水生植物纹式作修饰，就足证我国建筑史上对预防火灾与建筑安全之间的联系，认识是相当清醒和科学的。

根据这段文字，我们可以推知：

- A. 人类“控制用火”的历史源远流长
 - B. 中国是被火烧毁木结构建筑最多的国家
 - C. 从“火烧过的痕迹”中可以考证历史遗存
 - D. “藻井”上的水生植物纹饰用来护佑木构建筑的安全
44. 我国贫困区域大都处于深山、高原、沙漠等地区，水资源缺乏、土地贫瘠、生态脆弱、灾害频繁。其主要特征：一是土地资源总量少，土地零星破碎、贫瘠，不宜农耕，耕地质量不高，产出量低。二是旱涝灾害并存、水土流失和石漠化严重，风灾、雨雪冰冻、滑坡、泥石流、农业病虫害等时有发生。三是贫困地区大多数处于生态敏感地带，易遭破坏且难于恢复。

这段文字意在说明：

- A. 我国贫困地区大都交通条件欠佳
 - B. 我国贫困地区大都自然条件恶劣
 - C. 我国贫困地区大都基础设施薄弱
 - D. 我国贫困地区大都生态环境脆弱
45. 随着信息技术和人类生产生活交汇融合，互联网快速普及，全球数据呈现爆发增长、海量集聚的特点，对经济发展、社会治理、国家管理、人民生活都产生了重大影响。世界各国都把推进经济数字化作为实现创新发展的重要动能，在前沿技术研发、数据开放共享、隐私安全保护、人才培养等方面做了前瞻性布局。

这段文字旨在说明：

- A. 安全问题将成为大数据应用的瓶颈
 - B. 大数据的政策选择要考虑发展与安全
 - C. 大数据应用对人们生活的影响利大于弊
 - D. 世界各国都把经济数字化作为创新发展的动能
46. 翻看中外思想经典，一些宗教文化中不乏“无我”“无私”“奉献”“牺牲”的提法，都有导人向善的美好意图。与此不同，习近平主席讲的“无我”是忘我，是随时牺牲一切为了人民、全心全意为人民服务的宝贵精神，表

达了对人民的深厚情怀。从人民性的角度说，共产党人所讲的“无我”是远远高于宗教文化当中“牺牲”意义的，是对“无我”一词的新解、新用。

最适合做这段文字标题的是：

- A. “无我”与“忘我”
- B. “忘我”的境界
- C. “无我”的新诠释
- D. 共产党人的情怀

47. 《京津冀协同发展规划纲要》明确指出：北京为全国政治中心、文化中心、国际交往中心和科技创新中心；天津为全国先进制造研发基地、北方国际航运核心区、金融创新运营示范区和改革先行示范区；河北为全国现代商贸物流重要基地、产业转型升级试验区、新型城镇化与城乡统筹示范区、京津冀生态环境支撑区。

《京津冀协同发展规划纲要》的以上内容，意在阐述：

- A. 京津冀三地的具体功能定位
- B. 京津冀三地产业应沿着不同的方向发展
- C. 顶层设计是实现京津冀一体化的重要途径
- D. 京津冀一体化的核心是疏解北京的非首都功能

48. 城市首先是人的聚集，也来自人的聚集；城市的特质从来就是特定城市中人的群落性文化和精神的体现，它们是城市的活力之源，是城市的灵魂与核心。以城市主体人群的文化特质为核心的城市精神，其“现代性”关系着城市现代化的质量。

这段文字意在说明：

- A. 城市现代化必须增强城市成员对城市文化的认知和认同
- B. 城市现代化最终落实于人的现代化、市民精神的现代化
- C. 城市精神以城市文化为基础，表现为一种价值取向，一种城市主流追求
- D. 城市建设必须体现依靠人民、尊重人民、造福人民的“以人为本”的态度

49. 中外文学艺术史上的许多个案证明，一位作家、艺术家，只有立足于自己的生命体验，捕捉生命意识，又能以超越性的襟怀，以大生命意识的视野，透视人性，观照人生，体察万物，才能创作出境界最为高超，具有久远而又强劲的生命活力的作品。

这段文字中提及的“大生命意识”是指：

- A. 艺术家要加强修养，要有大格局、大智慧
- B. 拥有超人类的生命襟怀，向往人与人、人与自然之间的和谐
- C. 生命是可贵的、神圣的，人类所有正常的生命本能都应得到尊重
- D. 以政治的、道德的、法律的尺度，对笔下人物予以是非好坏的明确判定

50. 从新中国成立后各个历史阶段的流行语，我们可以清晰地看到时代的镜像。“抗美援朝，大跃进，大炼钢

铁，上山下乡，样板戏”等从政治、经济、文化角度反映建国初到文革结束的时代特征。“下海，商品经济，摸着石头过河，特区”等词语的出现反映了改革开放初期经济思想的大转变。进入90年代后，“OK！酷，粉丝”等外来词汇的音译或直接使用充分体现了外来文化对本土文化的影响，“郁闷，杯具，给力，蓝瘦香菇”则表达了人们复杂多元的情绪倾向。

这段文字主要说明了：

- A. 社会结构调整提供了流行语的发展空间
- B. 流行语往往是可变的，流行是短暂的，影响面是广泛的
- C. 流行语既是对真善美的追求，也是逃避和猎奇的强烈表现
- D. 流行语是时代价值观的表征，反映着社会群体的普遍心态

51. 这两天，“95后说完晚安在干吗”的话题登上了微博热搜榜。网友的一致答案是：反正不是睡觉。道晚安以后，很多人只是进入了独自享受的夜生活。正如网友所说：“晚安的意思就是‘我今天打烊了’，只是不对外营业了而已，跟睡不睡觉没关系。”晚安对于年轻人来说，不再是睡前与亲友的告别，他们躲在自己的小世界里不愿进入梦乡。

这段文字意在强调：

- A. 年轻人对晚安有不同的理解
- B. 年轻人说完晚安后并未睡觉
- C. 年轻人喜欢享受宁静的夜晚
- D. 年轻人偏向用微博表达意愿

52. 不能说辱骂学生的老师是好老师，但我要告诉大家，在今天的中国校园里，肯为学生着急的老师恐怕不多了。为什么呢？一方面，现有的教育机制并没有给严师提供保障。有句话说，“没有教不好的学生，只有不会教的老师”，这实际上把所有教学管理中的风险都转嫁给了老师。一旦老师严厉管教，学生出了问题，老师不管有理没理，总是遭遇舆论千夫所指。久而久之，很多老师也都感觉到多一事不如少一事。另一方面，今天的学生也真的不好“管”了。对老师有所不满，截屏上网，甚至录音录像的情况新闻里也都曝光过。你觉得严师出高徒是为学生好，学生也许想的是舒舒服服躺成人生赢家。

通过这段文字，作者最想表达的意思是：

- A. 舆论环境不利于老师对学生严格管理
- B. 学生经常利用舆论表达对老师的不满
- C. 现在的学生越来越难以严加管理
- D. 当前的舆论导向过度保护学生

53. 在大家眼中“挣钱多，说话少，疯狂加班”的程序员们，终于发声，通过这场“996.ICU”运动表达了抵制姿态。“996”作为一句玩笑，迅速被互联网企业员工、即将踏入互联网行业的高校人才以及关注该领域的人们“吵”成话题，这本身就表明了问题的严重性和紧迫性。某些互联网企业如还不肯觉醒，及早调整，也许会失去更多宝贵的发展资源与进步良机。

这段文字意在强调：

- A . 加班成为程序员们无奈的选择
- B . 互联网企业员工开始抵制加班
- C . 互联网企业应高度重视加班问题
- D . “996”成为了当前的热门话题

54. 把下列句子组成一段语意连贯的话，排序最恰当的是：

- ①缺少书籍的滋养，我们的精神世界会是一片荒芜和狼藉。
- ②读书是门槛最低的高贵举动。
- ③我们的文化也会缺乏不断向前发展的动力。
- ④读书不仅仅是为了生存，更是为了充实我们的精神世界，提升我们的生命质量。
- ⑤我想，这是对读书意义的深刻体悟和精辟总结。
- ⑥我们的社会难以传承深邃的智慧、伟大的精神。

- A . ①⑥③④②⑤
- B . ②④⑤①③⑥
- C . ②⑤④①⑥③
- D . ④⑤②①③⑥

55. 把下列句子组成一段语意连贯的话，排序最恰当的是：

- ①为解决人类问题贡献了中国智慧和方案。
- ②拓展了发展中国家走向现代化的途径。
- ③从人类文明进程看。
- ④给世界上那些既希望加快发展又希望保持自身独立性的国家和民族提供了全新选择。
- ⑤意味着中国特色社会主义道路、理论、制度、文化不断发展。
- ⑥中国特色社会主义进入新时代。

- A . ③⑥⑤②④①
- B . ③⑥①⑤②④
- C . ⑥③④②⑤①
- D . ⑥③②④⑤①

据《中国青年报》报道，2018年中国社会科学院“中国大学生追踪调查（PSCUS）”研究结果近日公布。对全国18所高校在校大学生的调查发现，大学生平均每天玩网络游戏的时间约为2小时，22.95%的大学生基本每天都玩网络游戏。游戏不只是男生的偏好，47.7%的女生表示玩网络游戏，14%的女生基本每天都玩。_____，高职院校学生玩游戏者近七成，普通本科高校玩游戏者超五成，双一流高校玩游戏者超六成。

中国新闻出版研究院近日公布的第十六次全国国民阅读调查数据显示，2018年我国成年国民人均每天手

机接触时长为84.87分钟，比2017年增加4.44分钟；2018年人均每天读书时间为19.81分钟，比2017年减少0.57分钟，人均每天读报时长为9.58分钟，比2017年减少2.42分钟，人均每天阅读期刊时长为5.56分钟，比2017年减少1.32分钟；2018年人均纸质图书阅读量为4.67本，与2017年基本持平。

从以上数据可以看出，我国大学生玩游戏的时间，大致是我国成人阅读时间的6倍。大学生花这么长时间在网络游戏中，已经超出了“适当乐于其中”的范畴，显得颇不正常。提高我国大学生培养质量，需要引导大学生控制上网玩游戏的时间，培养大学生更广泛的兴趣。

大学生花这么多时间在网游之中，有多方面原因。有的大学生从小就是“宅男”“宅女”，除学习之外，休闲时间就用电子产品打发时间。以前由于学习任务重，玩游戏的时间被家长严格控制，到了大学，学习任务变得相对轻松，加之老师平时管得不严，不少学生就宅在宿舍玩游戏，甚至通宵达旦不能自拔。调查显示，31.97%受访大学生有熬夜玩游戏的经历，其中3.52%经常熬夜，28.45%偶尔熬夜。

一些大学生进大学之后，缺乏进一步努力学习的动力，感到十分迷茫，这也是玩游戏多、读书少的重要原因。而进大学后变得迷茫，又和基础教育的升学导向有关——升学导向主要以考大学作为学习的终极目标，不少老师和家长还以“进大学之后就轻松了”“可以好好玩了”“想玩什么就玩什么”，来激励学生在中学时苦读备考。因此，一些学生考上大学后，也就彻底“放松”下来，有人以前几乎不玩游戏，现在也天天玩游戏，仿佛要把之前的“损失”补回来。

此外，与以前中小学被老师、家长管着的学习生活不同，大学更强调学生的自主管理和自主规划。然而不少大学生不具备充分的自主管理和自主规划能力，不知道如何自主安排时间，如果周围其他同学大多以打游戏度日，他们也就“随大流”跟着玩游戏了。

针对大学生花太多时间玩游戏甚至沉迷网游的问题，我国大学也进行了治理，有的治理手段还很严厉，甚至引发了争议。比如，禁止新生配个人电脑，学生宿舍晚上10点断电断网，对大学生采取高中管理方式统一早自习、晚自习，但效果有限。鉴于此，大学首先必须从严教育管理，让大学生平时就不敢松懈。在发达国家大学留学的中国学生，大多感慨读大学特别忙、特别累，这是因为学校要求特别严。其次，要对学生进行生涯规划教育，培养本应该在基础教育阶段就培养的自主管理和自主规划能力，鼓励学生开展社团活动，进行自我教育和自我管理，在大学发展多方面的兴趣。

我国基础教育需要真正为每个学生的人生发展打好基础，不能灌输给孩子功利的读书观，不能让学生形成“不考试、不升学、派不上晋升用场，就不必读书”的偏见。建立终身学习社会，把读书作为一种生活方式，需要淡化读书的功利价值，让学生真正培养起读书的兴趣与乐趣。

56. 填入文中画横线处，最恰当的一项是：

- A. 按学校进行分类
- B. 大学生的家长们可能无法想到
- C. 不同院校学生玩游戏的比例有所差异
- D. 不同层次院校学生玩游戏的比例均超过一半

57. 下列表述不符合文意的一项是：

- A . 我国超过三成的大学生熬夜玩游戏
 - B . 我国大学里每天玩游戏的男生比例高于女生
 - C . 我国大学生玩游戏的时间远远超过成人阅读的时间
 - D . 2018年我国成人每天接触手机的时间和每天阅读期刊的时间比2017年均有所增长
58. 为防止大学生玩游戏，作者最可能反对的做法是：
- A . 增强社团活动对大学生的吸引力
 - B . 周一到周五午夜学生宿舍断电断网
 - C . 加大必修课的作业量和作业难度
 - D . 引导学生们花更多的时间进行体育锻炼
59. 以下哪项不是大学生玩网游的主要原因：
- A . 大学生的自主管理能力较差
 - B . 从小就宅在家里用电子产品打发时间
 - C . 大学普遍缺乏对学生的生涯规划教育
 - D . 上高中时玩游戏的时间被家长严格控制
60. 最适合做这段文字标题的是：
- A . 让读书替代游戏
 - B . 游戏：大学是否应禁止
 - C . 大学生为何热衷玩游戏
 - D . 沉溺于游戏的当代大学生

数量关系

请根据题目要求，在每个选项中选出一个最恰当的答案。

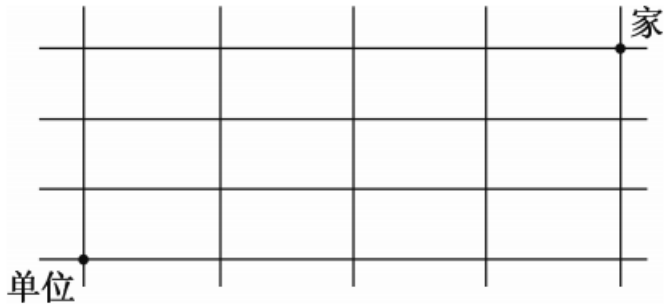
61. 三个自然数分别是一位数、两位数和三位数，其积为3930，其和最小为多少：
- A . 144
 - B . 146
 - C . 148
 - D . 162
62. 将300克浓度95%的酒精与若干浓度60%的酒精，混合成浓度75%的酒精，需要浓度60%的酒精多少克
- ()
- A . 225
 - B . 240
 - C . 380
 - D . 400

63. 甲、乙、丙三人均每隔一定时间去一次健身房锻炼。甲每隔2天去一次，乙每隔4天去一次，丙每7天去一次。4月10日三人相遇，下一次相遇是哪天：
- A . 5月28日
B . 6月5日
C . 7月24日
D . 7月25日
64. 集贸市场销售苹果5元/个和火龙果3元/个，花光61元最多可购买这两种水果共多少个：
- A . 13
B . 16
C . 18
D . 19
65. 小贾骑行从起点出发向东骑行3公里后，折向南骑行7公里，又向东骑行5公里后，再向北骑行1公里。现在，小贾距离起点的直线距离是多少公里：
- A . 6
B . 8
C . 10
D . 16
66. 甲、乙两队单独完成某项工程分别需要10天、17天。甲队与乙队按天轮流做这项工程，甲队先做，最后是哪队第几天完工：
- A . 甲队第11天
B . 甲队第13天
C . 乙队第12天
D . 乙队第14天
67. 某新建高速公路中间隔离带绿化时，顺次种植2株蜀桧、3株刺柏、5株小叶女贞、3株大叶黄杨，按此循环，第2019株树木是什么：
- A . 蜀桧
B . 刺柏
C . 小叶女贞
D . 大叶黄杨
68. 某班参加学科竞赛人数40人，其中参加数学竞赛的有22人，参加物理竞赛的有27人，参加化学竞赛的有25人，只参加两科竞赛的有24人，参加三科竞赛的有多少人：
- A . 2
B . 3

C . 5

D . 7

69. 小赵从家出发去单位上班要经过多条街道（如下图），假如他只能向西或向南行走。则他上班有多少种不同的走法：



A . 6

B . 24

C . 32

D . 35

70. 甲、乙二人沿环形跑道从同一地点同时背向开始跑步，35秒后两人相遇。已知甲跑一圈需要60秒，乙跑一圈需要多少秒：

A . 77

B . 84

C . 91

D . 96

71. 某单位需要搬家，可以使用甲、乙、丙三个搬家公司。单独完成该搬家任务，甲需要3天，乙需要4天，丙需要12天；搬家费用分别为甲1000元/天，乙850元/天，丙350元/天。要求在2天内搬完，最少需要花费多少元（搬家不足一天按一天计算）：

A . 3200

B . 3400

C . 3550

D . 3700

72. 某次考试小明全对的概率为80%，小宁全对的概率为70%，那么这次考试只有一人全对的概率为多少：

A . 0.24

B . 0.38

C . 0.56

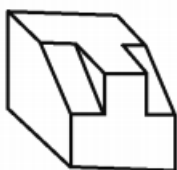
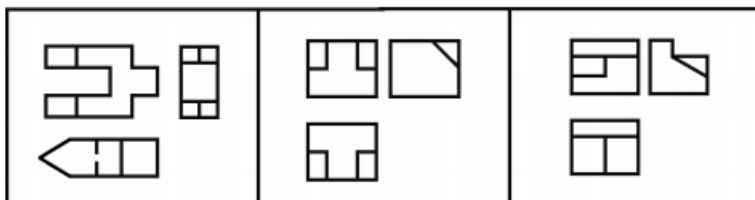
D . 0.94

73. 一个暗箱装有12个编号从1到12的乒乓球，甲、乙、丙三人轮流从暗箱中摸球，每人每次摸一个球且不放回。将所有球摸完后，三人所摸出的球上的编号之和相等，并且甲摸出了1号球和3号球，乙摸出了6号球和11号球。丙摸出的球编号最大为多少：
- A . 7
B . 8
C . 9
D . 10
74. 将1000个边长为1cm的小正方体组合成一个实心的大正方体后，将该正方体的5个面涂满色后再全部分开，那么至少有一面涂色的小正方体有多少个：
- A . 424
B . 488
C . 512
D . 576
75. 长、宽、高分别为12cm、4cm、3cm的长方体 $ABCD - A_1B_1C_1D_1$ 上，有一个蚂蚁从A出发沿长方体表面爬行到 C_1 获取食物，其路程最小值是多少cm：
- A . 13
B . $\sqrt{193}$
C . $\sqrt{241}$
D . 17

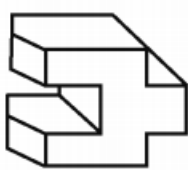
判断推理

请根据题目要求，在每个选项中选出一个最恰当的答案。

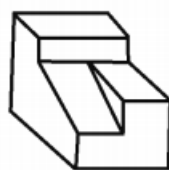
76. 下面三个三视图依次与三个几何体相对应，三个几何体的正确对应顺序是：



①



②



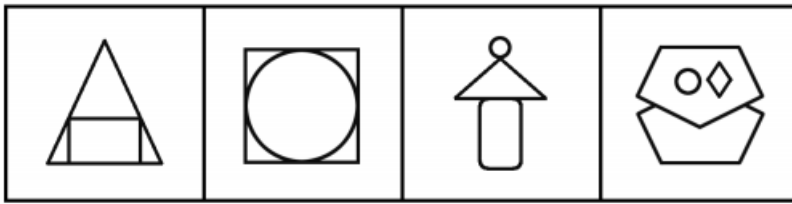

③

- A . ②①③
B . ②③①

C . ①③②

D . ③①②

77. 从所给四个选项中，选择最合适的一个填入问号处，使之呈现一定的规律性：



A

B

C

D

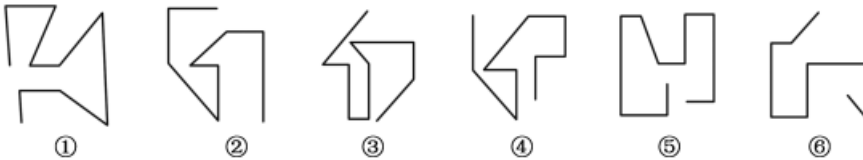
A . A

B . B

C . C

D . D

78. 把下面的六个图形分为两类，使每一类都有各自的共同规律或特征，分类正确的一项是：



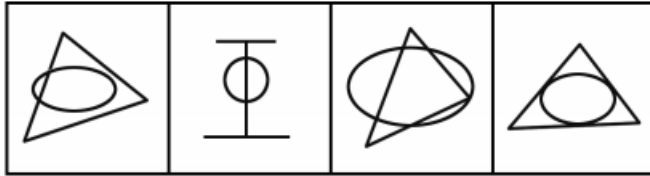
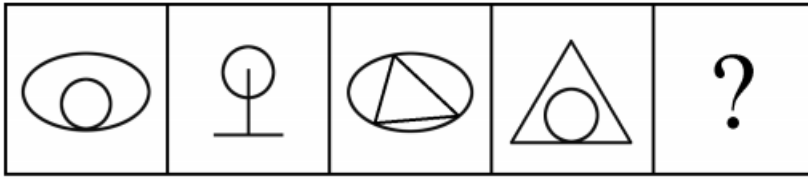
A . ①②④ , ③⑤⑥

B . ①④⑤ , ②③⑥

C . ①③④ , ②⑤⑥

D . ①②⑥ , ③④⑤


79. 从所给的四个选项中，选择最合适的一个填入问号处，使之呈现一定的规律性：



A B C D

- A . A
- B . B
- C . C
- D . D

80. 从所给的四个选项中，选择最合适的一个填入问号处，使之呈现一定的规律性：



A B C D

- A . A
- B . B
- C . C
- D . D

81. 对比效应是指评价一个人或一件事时，受最近接触的其他人或事的影响，导致对这个人或这件事的评价发生偏差，作出不客观的评价。

根据上述定义，下列属于对比效应的是：

- A. 受父亲的影响，小潘也认为家庭中就应该“男主外，女主内”
- B. 小张和小李同时任科长，小张认为自己靠的是能力，而小李靠的是人际关系
- C. 选购化妆品时，小丽因为售货员的形象一般就认为该品牌的化妆品较差，放弃购买
- D. 演讲比赛时，小王和小吴先后出场，如果小王表现优秀，裁判给小吴的分数会偏低

82. 网络暴力是一种危害严重、影响恶劣的暴力形式，它是在网络上发表具有伤害性、侮辱性和煽动性的言语、图片、视频的行为。

根据上述定义，下列不属于网络暴力的是：

- A. 某影视网站发布大量充满暴力和血腥场景的视频
- B. 小刘给身材消瘦的同学小马起绰号“竹竿”，并在班级微信群里用“竹竿”称呼小马
- C. 小王追求某女生被拒，便使用该女生头像P裸体图片发在微信朋友圈，被同学们转发
- D. 小柯因乱丢垃圾与宾馆服务员发生口角的视频被发到网上，网友对小柯进行“人肉搜索”，并将其个人隐私公布于网络

83. 让渡资产使用权是指资产的所有者将资产的使用权暂时转移给他人，以取得相关收益，但不转移资产所有权的行爲。

根据上述定义，下列不属于让渡资产使用权的是：

- A. 某家政公司以每月每平米30元的价格承包某写字楼的保洁
- B. 某城市商业银行向某公司以6.8%的年利率发放2亿元的贷款
- C. 某高校将闲置的办公楼以每年50万元的价格出租给某职业技能培训学校
- D. 某企业以每年五千万的价格利用自主研发的操作系统负责某市的智慧城市建设

84. 口红效应是指在经济危机时消费者更愿意购买相对廉价的非必需品。经济不景气时，口红的销量反而会直线上升，这是因为在不景气的情况下，人们仍然会有强烈的消费欲望，而口红作为一种“廉价的非必需之物”，可以对消费者起到一定的“安慰”作用。

根据上述定义，下列符合口红效应的是：

- A. 张三现在收入很高，但生活简朴的他还是喜欢购买100元左右的衣服
- B. 李四近半年基本没有收入，但他用父母的积蓄购买了一辆35万元的轿车
- C. 王五还房贷压力很大，单位食堂饭菜价格较高，他经常到路边摊吃10元的盒饭
- D. 赵六最近业绩不好，收入较低，为释放压力，每周六晚上都喝50元1瓶的白酒半斤

85. “鱼缸法则”是指成长需要自由的空间，要使人成长得更快，就一定要给他活动的自由，而不是将他拘泥在一个小小的鱼缸中。

根据上述定义，下列符合“鱼缸法则”的是：

- A. 为吸引优秀人才，河北省持续实施“英才入冀”计划
- B. 国际贸易专业的小邓为拓展知识面，经常旁听汉语言文学的课程

- C. 某市委组织部选派一批85后优秀年轻干部担任常务副县长，让他们勇挑重担
- D. 小欧本可以留在上海，但父母以需要陪伴为名，让小欧回到县城工作
86. 动物权利论认为动物与人类有平等的权利地位，两者有相同的心理特质——需求、记忆、智力等等。因此，所有动物都与人类一样享有平等的权利，这些权利是不应该被人类剥夺的。
- 根据上述定义，下列符合动物权利论的是：
- A. 老夏经常购买鸡胗喂养小区里的流浪猫
- B. 李大娘从来不给自家圈养的猪喂剩饭剩菜
- C. 老周认为把鸡关在笼子里大面积集中饲养是不人道的行为
- D. 老赵认为杀牛之前应先用高压电将牛瞬间电死，以减轻牛的痛苦
87. 正态分布需求曲线，中间突起的部分是“头”，两边相对平缓的部分叫“尾”，集中在“头”部的是大多数需求，分布在“尾”部的是个性化、小量的需求。长尾效应是指将所有分布在“尾”部的市场累加起来就会形成一个比“头”部市场还大的市场，强调“个性化”和“小利润大市场”，即只赚每个人很少的钱，但要赚很多人的钱。
- 根据上述定义，下列属于长尾效应的是：
- A. 很多人不会挑选礼物，小任创办了一个挑选礼物的网站，根据不同客户的要求挑选相应的礼物，每单收取5元服务费。半年后，每月收益超十万元
- B. 年轻人网购潮愈演愈烈，老赵的服装店生意日渐萧条，转行经营生鲜产品超市。半年后，每月利润超过原来服装店
- C. 小高2010年开了一家网店，主要销售运动鞋，2017年开始帮朋友销售山区物美价廉的土特产，2018年土特产的销售额超过运动鞋
- D. 小翟经营一家美术培训学校，生源充足，半年前应广大家长的要求，新增少儿英语培训，目前英语培训收入超过了美术
88. 角色紧张是指某人因为接受外界提出的不同要求而产生的冲突，导致自己承受巨大的心理压力。
- 根据上述定义，下列属于角色紧张的是：
- A. 五年级学生小芳期末考试成绩很差，她的父母相互指责对方没有尽职尽责，吵得不可开交。第二天冷静下来后，小芳的父母都觉得孩子成绩不好，责任主要在自己
- B. 某研究所崔研究员获得了一项汽车核心技术专利，某知名汽车厂商欲高薪聘请，而研究所领导许诺为他建设国家级重点实验室，让他陷入深深的纠结之中
- C. 老颜老来得子，对孩子百依百顺，结果孩子长大后骄横跋扈，一事无成，这让老颜懊悔不已
- D. 老梁得知监察机关正在对自己所犯错误进行调查，到监察机关投案自首，主动交代所犯错误后，感觉压在胸口的石头终于消失了
89. 健康传播是一种将医学研究成果转化为大众的健康知识，并通过大众生活态度和行为方式的改变来降低患病率和死亡率，有效提高一个社区或国家生活质量和健康水准的行为。

根据上述定义，下列不属于健康传播的是：

- A. 某高中举办预防春季传染病讲座
- B. 某小区进行小儿手足口病防治宣传
- C. 某省级电视台播出预防白内障的药品广告
- D. 某医院举办心脑血管疾病治疗技术学术会议

90. “饥饿营销”是指商品提供者有意调低产量，以期达到调控供求关系、制造供不应求“假象”、维持商品较高售价和利润率的目的。饥饿营销比较适合一些单价较高、不容易形成单个商品重复购买的行业。

根据上述定义，下列属于饥饿营销的是：

- A. 某矿泉水公司宣称，由于产品供不应求，每瓶售价从2元提高到3元
- B. 某户外用品公司向灾区捐赠了十万顶帐篷，提高了该公司的声誉，帐篷销量大增，供不应求
- C. 某厂家推出新款汽车，售价高达百万元，消费者疯狂抢购，但厂家宣称由于配件所限无法扩大生产规模，只能限量销售
- D. 近期某品牌进口轮胎滞销，经销商主动减少进口量，调高售价，销售额未出现明显下滑

91. 网上购物：现金

- A. 高速铁路：钢铁
- B. 网络歌曲：光盘
- C. 电子政务：公文
- D. 电脑游戏：软件

92. 打印机：扫描仪：外部设备

- A. 鲸鱼：鲨鱼：鱼类
- B. 火车：动车：列车
- C. 阴天：下雨：天气
- D. 茄子：茼蒿：蔬菜

93. 法律法规：起草：颁布

- A. 新闻稿件：采访：选题
- B. 购销合同：签订：履行
- C. 自由恋爱：结婚：生子
- D. 学历学位：硕士：博士

94. 猎豹：猫科：动物

- A. 西裤：裤子：服装
- B. 细菌：病毒：微生物
- C. 玛瑙：石头：宝石
- D. 助教：讲师：副教授

95. 发动机：汽车

- A . 墨汁：毛笔
- B . 月光：天空
- C . 帆船：大海
- D . 翅膀：蝴蝶

96. 语言：交流

- A . 颜料：绘画
- B . 衣服：装饰
- C . 电视：电影
- D . 玫瑰：爱情

97. 如履薄冰：谨慎

- A . 集腋成裘：节俭
- B . 卧薪尝胆：坚持
- C . 一尘不染：干净
- D . 经天纬地：高度

98. 鸡蛋：蛋糕

- A . 铅芯：铅笔
- B . 水泥：水泥路
- C . 鞋子：鞋带
- D . 榆钱：榆钱饼

99. () 对于 小说 相当于 () 对于 软件

- A . 诗歌 硬件
- B . 作家 工程师
- C . 创作 应用
- D . 素材 计算机

100. 清洁工 对于 () 相当于 医生 对于 ()

- A . 马路 医院
- B . 清扫车 手术台
- C . 保洁 治病
- D . 工作服 听诊器

101. 对某市第二中学初中部学生的调查发现，拥有数学学习机人数最多的班也是数学成绩最好的班。因此，利用数学学习机可以提高数学成绩。

以下哪项如果为真，最能加强上述结论：

- A．拥有数学学习机的学生学习数学的积极性和主动性明显提高
- B．拥有数学学习机人数最多的班也是最利用数学学习机的班
- C．随着数学学习机性能的不断改善，对提高学生数学成绩的作用越来越明显
- D．拥有数学学习机人数最多的班里的同学，更多地利用数学学习机学习数学

102.某村庄南北两块小麦地里，南面的地施用了生物复合肥，北面的地则没有。收割完小麦测算后发现，南面的地亩产450公斤，北面的地亩产200公斤。由此可见，施用生物复合肥是南北两块地小麦亩产差异较大的原因。

以下哪项如果为真，最能削弱上述结论：

- A．南北两块小麦地均由老杨管理
- B．南北两块小麦地的土壤质量不同
- C．村南小麦地里施用的生物复合肥已过保质期
- D．村西的小麦地里也施用了该生物复合肥，亩产只有230公斤

103.只要抢救及时并且方法得当，这头大象就不会死亡，但目前这头大象死亡了。

根据以上论述，下列哪项一定为真：

- A．对这头大象的抢救不及时，但方法得当
- B．对这头大象的抢救很及时，但方法不得当
- C．如果对这头大象的抢救是及时的，那么大象死亡的原因肯定是方法不得当
- D．如是这头大象的死因是抢救不及时，那么方法不得当就不会是大象的死因

104.今年4月18日，某城市日报刊发消息称，目前大部分西红柿使用催熟剂，而过量使用催熟剂会给人体带来较大危害。该消息刊发后，对该城市消费者产生的影响极其有限，几乎没有消费者想改变购买西红柿的习惯。但到了五月中旬，该城市生鲜食品超市的西红柿销量大幅度下降了。

以下哪项如果为真，能最好地解释上述现象：

- A．4月25日，该城市的电视台也播出了这则消息
- B．5月份时，很多消费者选择在家门口的菜摊上购买西红柿
- C．5月份时，大部分生鲜食品超市为树立自身良好形象，不再销售西红柿
- D．该城市周边的菜农们认为这条消息会使西红柿的销量大幅度萎缩，主动降低了产量

105.今年“五一”期间，某品牌服装店进行促销活动，根据顾客身份证上的出生年份打折，如1986年出生的，打86折，1999年及以后出生的统一打99折。该活动由于宣传到位，备货充足，顾客盈门，“五一”假期销售额同比增长40%。该服装店老板认为此次促销活动非常成功。

以下哪项如果为真，最能反驳该服装店老板的结论：

- A．1986年到1996年出生的顾客占比超过80%
- B．今年“五一”假期全国服装销售额同比增长45%

- C. 今年“五一”假期比去年多一天，消费者有更多的购物时间
- D. 另一个街区该品牌服装店没有促销活动，“五一”假期销售额也增长了40%
- 106.甲、乙、丙、丁四人的生活水平一共有三种：富裕、小康、贫困。甲和丁的生活水平一样，乙和丙的生活水平不是小康。
- 根据以上条件，以下哪项不可能为真：
- A. 甲是富裕
- B. 乙是贫困
- C. 乙是富裕
- D. 丁是小康
- 107.近三年来，某市文化产业的年利润基本稳定在两亿元左右。据估算，扣除物价上涨因素，未来几年利润总额不会随着新的文化产业场所的出现而扩大。因此，随着电影院数量的增多，KTV的收入会随之减少。
- 以下哪项如果为真，能对上述论证提出最大质疑：
- A. 电影院数量虽然逐渐增长，但其数量仍少于KTV
- B. 由于电影院的增多，人们花在电影院和KTV以外文化场所的消费明显减少
- C. 大部分KTV为适应新形势，重新进行装潢，树立新形象并提高服务质量
- D. 电影院的人均消费高于KTV，而且大部分人认为电影院的环境不太好，缺乏吸引力
- 108.如果狗患有行为焦虑症，则狗血液里镁离子的含量要高于正常狗。通过口服一种名叫因菲他命的药物，可以有效清除狗血液里的镁离子。因此，口服因菲他命可以用来治疗狗的行为焦虑症。
- 上述论证基于以下哪项假设：
- A. 正常狗的血液里没有镁离子
- B. 口服因菲他命对狗不会产生任何副作用
- C. 患行为焦虑症不同阶段的狗需要口服不同剂量的因菲他命
- D. 行为焦虑症不会使患病狗的血液里产生比正常狗更多的镁离子
- 109.所有的艺术家都懂音乐，有些懂音乐的写诗歌，你不写诗歌，所以你不是艺术家。
- 以下哪项的推理结构与上述推理的形式最为类似：
- A. 所有的羊都吃草，有些吃草的吃田螺，牛不吃田螺，所以牛不是羊
- B. 所有工业设计专业的学生都会画图，有些会画图的爱好书法，小明不会画图，所以小明不是工业设计的学生
- C. 所有的教授都承担过国家级课题，有些承担国家级课题的是名教授，老范是普通教授，所以老范没承担过国家级课题
- D. 所有的女士都爱美，有些爱美的还喜欢健身，小丽不喜欢健身，所以小丽不是爱美的女士
- 110.最近，某市城管局整理档案资料时，发现了马六的两份资料，且两份资料中的马六是同一个人。第一份

资料的落款时间是1992年8月28日，是马六占道经营被处罚的记录。第二份资料是马六宣称他已经断断续续占道经营10年的声明，没有落款时间。

根据以上叙述，可以推出的是：

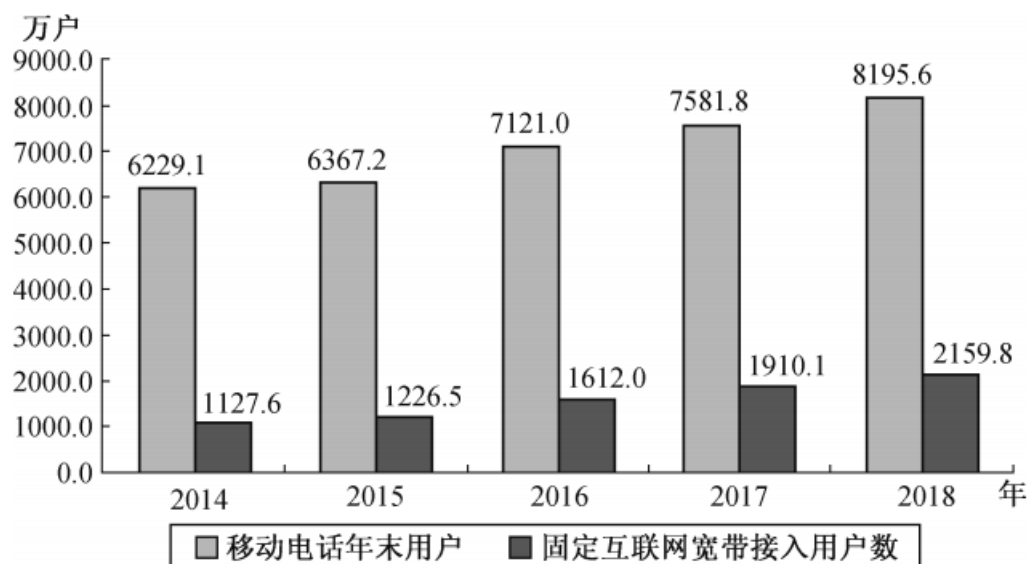
- A . 马六因为占道经营经常被处罚
- B . 第二份资料的时间早于第一份资料
- C . 第二份资料的书写时间早于2005年
- D . 马六在1982年9月份左右开始占道经营

资料分析

请根据题目要求，在每个选项中选出一个最恰当的答案。

2018年末，河北省电话用户总数8865.6万户，其中移动电话用户8195.6万户。

2014~2018 年年末移动电话用户和固定互联网宽带接入用户数



111.与2015年相比，2018年固定互联网宽带接入用户约增长了：

- A . 76.1%
- B . 75.9%
- C . 34.0%
- D . 13.1%

112.与2017年相比，2018年移动电话用户净增数比固定互联网宽带用户净增数多多少万户：

- A . 364.1
- B . 486.7
- C . 526.8
- D . 531.0

113.2015~2018年固定互联网宽带接入用户增长率超过10%的年份有多少个：

A . 1

B . 2

C . 3

D . 4

114.2015~2018年，移动电话用户增速最快的年份是：

A . 2015年

B . 2016年

C . 2017年

D . 2018年

115.能够从上述资料中推出的是：

A . 2015~2018年移动电话用户年净增数逐年增加

B . 2015~2018年固定互联网宽带接入用户年净增数逐年增加

C . 2015~2018年中移动电话用户数量增速超过10%的年份有两个

D . 2015~2018年移动电话用户数量同固定互联网宽带接入用户数量之比逐年降低

2019年1~2月份，全国规模以上工业企业实现利润总额7080.1亿元，同比下降14.0%。

2019年1~2月份规模以上工业企业主要财务指标

分组	营业收入		营业成本		利润总额	
	1~2月 (亿元)	同比增长 (%)	1~2月 (亿元)	同比增长 (%)	1~2月 (亿元)	同比增长 (%)
总计	147858.1	3.3	124507.6	3.9	7080.1	-14.0
其中:采矿业	6308.4	3.8	4578.2	7.0	701.5	-12.6
制造业	129086.2	3.0	108848.0	3.6	5681.9	-15.7
电力、热力、燃气及水生产和供应业	12463.5	5.9	11081.4	5.7	696.7	0.9
其中:国有控股企业	42275.0	0.9	34080.0	1.9	2223.7	-24.2
其中:股份制企业	105200.6	4.9	88126.9	5.6	4936.9	-13.5
外商及港澳台商投资企业	33900.6	-1.2	28783.6	-0.6	1773.7	-14.5
其中:私营企业	43802.7	7.1	38059.4	7.4	1889.5	-5.8

注：经济类型分组之间存在交叉，故各经济类型企业数据之和大于总计。

1~2月份，部分行业利润情况如下：专用设备制造业利润总额同比增长14.0%，电气机械和器材制造业增长10.9%，电力、热力生产和供应业增长4.2%，非金属矿物制品业增长3.1%，通用设备制造业增长0.8%，汽车制造业下降42.0%，化学原料和化学制品制造业下降27.2%，煤炭开采和洗选业下降23.2%，纺织业下降11.3%，石油和天然气开采业下降5.7%，农副食品加工业下降5.5%。

1~2月份，规模以上工业企业实现营业收入14.8万亿元，同比增长3.3%；发生营业成本12.5万亿元，增

长3.9%。

2月末，规模以上工业企业资产总计109.7万亿元，同比增长6.4%；负债合计62.4万亿元，增长6.0%；所有者权益合计47.3万亿元，增长7.0%；资产负债率为56.9%，同比降低0.2个百分点。

1~2月份，规模以上工业企业每百元营业收入中的成本为84.21元，同比增加0.52元；每百元营业收入中的费用为9.12元，同比增加0.29元。

2月末，规模以上工业企业每百元资产实现的营业收入为80.9元，同比减少2.4元；人均营业收入为119.4万元，同比增加7.6万元；产成品存货周转天数为19.3天，同比增加0.4天；应收票据及应收账款平均回收期为57.5天，同比增加4.6天。

116.2018年1~2月，规模以上工业企业实现利润总额约为多少亿元：

- A . 6210.6
- B . 7312.8
- C . 8232.7
- D . 9012.6

117.2019年1~2月规模以上工业企业中，股份制企业实现利润所占份额约为多少：

- A . 70.1%
- B . 69.7%
- C . 67.6%
- D . 31.4%

118.2019年1~2月，采矿业营业收入利润率约为多少：

- A . 11.1%
- B . 12.3%
- C . 13.2%
- D . 15.3%

119.2019年1~2月，规模以上工业企业中行业利润总额同比增长幅度从高到低，以下排列正确的是：

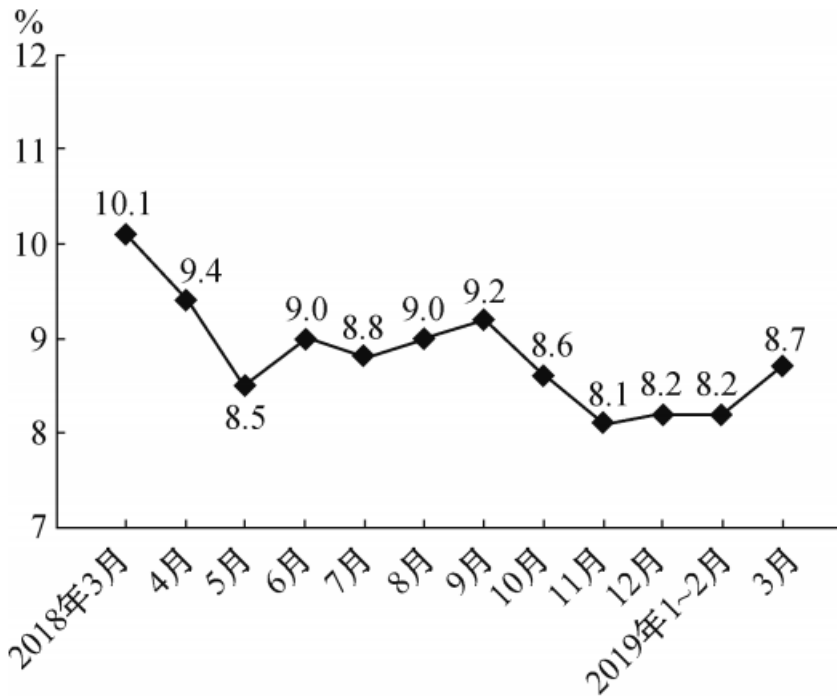
- A . 非金属矿物制品业、通用设备制造业、纺织业、农副食品加工业
- B . 通用设备制造业、农副食品加工业、汽车制造业、煤炭开采和洗选业
- C . 专用设备制造业、农副食品加工业、纺织业、非金属矿物制品业
- D . 专用设备制造业、非金属矿物制品业、石油和天然气开采业、纺织业

120.能够从以上资料中推出的是：

- A . 2018年2月末，规模以上工业企业资产负债率为56.9%
- B . 2019年2月，采矿业利润总额高于电力、热力、燃气及水生产和供应业
- C . 2018年2月末，规模以上工业企业每百元资产实现的营业收入为83.3元
- D . 2019年1~2月，规模以上工业企业利润总额中国有控股企业所占份额超过35%

2019年一季度，社会消费品零售总额97790亿元，同比名义增长8.3%（扣除价格因素实际增长6.9%，以下除特殊说明外均为名义增长）。其中，3月份社会消费品零售总额31726亿元，同比增长8.7%。

社会消费品零售总额分月同比增长速度



按经营单位所在地分，一季度城镇消费品零售额83402亿元，同比增长8.2%；乡村消费品零售额14388亿元，增长9.2%。其中，3月份城镇消费品零售额27192亿元，同比增长8.5%；乡村消费品零售额4534亿元，增长9.4%。

按消费类型分，一季度餐饮收入10644亿元，同比增长9.6%；商品零售87146亿元，增长8.2%。其中，3月份餐饮收入3393亿元，同比增长9.5%；商品零售28333亿元，增长8.6%。

按零售业态分，一季度限额以上零售业单位中的超市、百货店、专业店零售额同比分别增长7.5%、0.9%、3.9%，专卖店同比下降0.9%。

一季度，全国网上零售额22379亿元，同比增长15.3%。其中，实物商品网上零售额17772亿元，增长21.0%，占社会消费品零售总额的比重为18.2%；在实物商品网上零售额中，吃、穿和用类商品分别增长24.6%、19.1%和21.3%。

2019年一季度社会消费品零售总额主要数据

指 标	3 月份		1~3 月份	
	绝对量 (亿元)	同比增长 (%)	绝对量 (亿元)	同比增长 (%)
社会消费品零售总额	31726	8.7	97790	8.3
其中:限额以上单位消费品零售额	11953	5.1	35078	4.1
其中:实物商品网上零售额	—	—	17772	21.0
按经营地分				
城镇	27192	8.5	83402	8.2
乡村	4534	9.4	14388	9.2
按消费类型分				
餐饮收入	3393	9.5	10644	9.6
其中:限额以上单位餐饮收入	726	7.5	2226	7.9
商品零售	28333	8.6	87146	8.2
其中:限额以上单位商品零售额	11227	5.0	32852	3.8
粮油、食品类	1081	11.8	3628	10.6
烟酒类	287	9.5	1061	5.9
金银珠宝类	218	-1.2	725	2.6
日用品类	471	16.6	1410	16.1
中西药品类	502	11.8	1440	10.8
文化办公用品类	249	-4.0	692	3.8
通讯器材类	365	13.8	1093	10.0

注：1．此表速度均为未扣除价格因素的名义增速；

2．此表中部分数据因四舍五入的原因，存在总计与分项合计不等的情况。

121.按照2018年一季度价格计算2019年一季度社会消费品零售总额约为多少亿元：

- A . 85065
- B . 96526
- C . 99283
- D . 114000

122.下列月份中，社会消费品零售总额同比增长速度最快的是：

- A . 2018年4月
- B . 2018年6月
- C . 2018年9月
- D . 2018年11月

123.2019年3月，城镇消费品零售额比乡村消费品零售额多几倍：

- A . 3.8
- B . 4.8

C . 5.0

D . 6.0

124.2018年1~3月，限额以上单位烟酒类、日用品类、中西药品类及通讯器材类零售总额最高的是：

A . 烟酒类

B . 日用品类

C . 中西药品类

D . 通讯器材类

125.根据以上资料，下列说法不正确的是：

A . 2019年3月，限额以上单位文化办公用品类零售额同比下降

B . 2019年一季度，实物商品网上零售额同比增长超过20%

C . 2019年1~2月，限额以上单位金银珠宝类零售额同比增加

D . 2019年一季度，限额以上零售业单位中百货店与专卖店零售额同比增长速度相同

2019年1~2月份，全国固定资产投资（不含农户）44849亿元，同比增长6.1%，增速比2018年全年提高0.2个百分点。其中，民间固定资产投资26963亿元，同比增长7.5%。分产业看，第一产业投资950亿元，同比增长3.7%，增速比2018年全年回落9.2个百分点；第二产业投资13864亿元，增长5.5%，增速回落0.7个百分点；第三产业投资30035亿元，增长6.5%，增速提高1个百分点。

2019年1~3月份，全国固定资产投资（不含农户）101872亿元，同比增长6.3%，增速比去年同期回落1.2个百分点。其中，民间固定资产投资61492亿元，同比增长6.4%。

分产业看，第一产业投资2408亿元，同比增长3%，增速比1~2月份回落0.7个百分点；第二产业投资33224亿元，增长4.2%，增速回落1.3个百分点；第三产业投资66240亿元，增长7.5%，增速提高1个百分点。

第二产业中，工业投资同比增长4.4%，增速比1~2月份回落1.4个百分点；其中，采矿业投资增长14.8%，增速回落26.6个百分点；制造业投资增长4.6%，增速回落1.3个百分点；电力、热力、燃气及水生产和供应业投资增长0.7%，1~2月份为下降1.4%。

第三产业中，基础设施投资（不含电力、热力、燃气及水生产和供应业）同比增长4.4%，增速比1~2月份提高0.1个百分点。其中，水利管理业投资下降5.5%，降幅扩大3.7个百分点；公共设施管理业投资下降0.6%，降幅收窄2.3个百分点；道路运输业投资增长10.5%，增速回落2.5个百分点；铁路运输业投资增长11%，增速回落11.5个百分点。

分地区看，东部地区投资同比增长4.3%，增速比1~2月份提高1个百分点；中部地区投资增长9.6%，增速提高0.2个百分点；西部地区投资增长7.8%，增速提高0.2个百分点；东北地区投资增长2.9%，增速回落2.8个百分点。

分登记注册类型看，内资企业投资同比增长6.4%，增速与1~2月份持平；港澳台商投资增长2.8%，增速提高2.8个百分点；外商投资增长8.7%，增速提高5.3个百分点。

126.2018年1~2月，全国固定资产投资（不含农户）约为多少万亿元：

- A . 2.51
- B . 3.87
- C . 4.23
- D . 4.79

127.2019年1~2月，全国固定资产投资（不含农户）中第三产业投资所占比重约为多少：

- A . 67.0%
- B . 65.0%
- C . 33.4%
- D . 30.9%

128.2019年3月民间固定资产投资额约为多少亿元：

- A . 19360
- B . 34529
- C . 36205
- D . 57022

129.2019年1~2月，分地区看，投资同比增速最快的地区是哪个：

- A . 东部地区
- B . 中部地区
- C . 西部地区
- D . 东北地区

130.根据以上资料，下列说法中不正确的是：

- A . 2018年，第一产业固定资产投资增长12.9%
- B . 2019年1~3月，采矿业投资比道路运输业基础设施投资增速快
- C . 2019年1~3月，分产业看，第三产业投资同比增速最快
- D . 2019年1~2月，从登记注册类型看，外商投资同比增速最快



如何对答案：打开公考通app
进入历年真题，录入答案后即可评分并查看解析。