

2017年江苏省公务员考试行 测真题（B类）



打开公考通app
进入历年真题查看解析

常识判断

请根据题目要求，在每个选项中选出一个最恰当的答案。

1. 党的十八大以来，习近平总书记在强调不断增进中国特色社会主义道路自信、理论自信、制度自信的同时，多次提到文化自信。下列对文化自信理解正确的是：
 - ①文化自信具有鲜明的民族特色和价值色彩
 - ②文化自信是对自身文化传统的深刻认知和高度自觉
 - ③文化自信是对自身文化生命力和影响力所持有的坚定信心
 - ④文化自信是对自身文化身份与价值的充分肯定和积极践行
 - A . ①②
 - B . ②③④
 - C . ①②④
 - D . ①②③④

2. 2017年1月1日，葡萄牙人安东尼·奥古特雷斯接替已经任满10年的韩国人潘基文，成为新一任的联合国秘书长。

下列关于联合国秘书长的说法错误的是：

 - A . 联合国秘书长的每届任期为5年，可以连选连任
 - B . 联合国秘书长的人选由各大洲轮换产生
 - C . 联合国秘书长人选可以在五大常任理事国中产生
 - D . 联合国秘书长由安理会提名并通过大会票选后确认

3. 下列古文中能够体现领导者榜样效应的是：
 - A . 止宿公署，夜则祷于天，昼则出赈饥民，终日无少怠
 - B . 为政以德，譬如北辰，居其所而众星共之
 - C . 其身正，不令而行；其身不正，虽令不从
 - D . 乐民之乐者，民亦乐其乐；忧民之忧者，民亦忧其忧

4. 达尔文观察到，养猫越多的地方，羊也可以养的越多，原因在于“猫—田鼠—花蜂—三叶草—羊”之间存在着生物食物链。这体现的哲学原理是：
 - A . 矛盾具有普遍性和客观性，矛盾是事物发展的源泉和动力
 - B . 联系具有普遍性和多样性，任何事物都处在普遍联系之中
 - C . 真理具有绝对性和相对性，绝对真理包含在相对真理之中
 - D . 认识具有反复性和无限性，认识是一个辩证运动的过程

5. 我国先秦诸子提出了许多重要主张。下列对应正确的是：
 - A . 孔子——道法自然

- B. 墨子——兼相爱，交相利
- C. 老子——夫子之道，忠恕而已矣
- D. 韩非——阴阳者，天地之道也
6. 欧洲一位伟人曾说过：“我的光荣不在于取得四十个战役的胜利，滑铁卢会摧毁这一切，能够永世长存的是我的民法典。”这里所说的“我的民法典”是：
- A. 法国民法典
- B. 德国民法典
- C. 瑞士民法典
- D. 奥地利民法典
7. 下列不符合我国《居民身份证法》规定的是：
- A. 甲是大陆投资、定居的台商，不能申请领取居民身份证
- B. 乙到派出所办理常住户口登记变更手续，应当出示居民身份证
- C. 丙遗失了居民身份证，可办理户籍证明来证明身份并乘坐火车
- D. 丁在码头候船遇警察查验身份时，应向警察出示居民身份证
8. 机场、银行等服务窗口实行“一米线”制，要求等候服务的顾客必须与正在接受服务的顾客之间保持一米的距离。这一制度的主要功能是：
- A. 维持服务秩序
- B. 保护顾客隐私
- C. 提升服务质量
- D. 提高道德水准
9. 下列诗句描写的地方都位于长江流域，按照从上游到下游排序正确的是：
- ①猿愁鱼踊水翻波，自古流传是汨罗
- ②白帝城中云出门，白帝城下雨翻盆
- ③昔登江上黄鹤楼，遥爱江中鹦鹉洲
- ④钟山如龙独西上，欲破巨浪乘长风
- A. ①②③④
- B. ①④③②
- C. ②①③④
- D. ①②④③
10. 下列有关世界地理的说法错误的是：
- A. 俄罗斯横跨欧亚大陆，是世界上面积最大的内陆国家
- B. 亚洲是世界上面积最大的洲，也是世界上人口最多的洲
- C. 澳大利亚大陆是最小的大陆，也是只有一个国家的大陆

- D . 南极洲是世界上海拔最高的洲，北冰洋是世界上最小的大洋
11. 我国传统文化中某些行业有特定的别称。下列别称指代的行业错误的是：
- A . “杏坛”指代教育
 - B . “梨园”指代戏曲
 - C . “杏林”指代木匠
 - D . “调鼎”指代烹饪
12. 党在新民主主义革命时期形成了很多富有时代特色的革命精神，按照形成时间先后排序正确的是：
- ①延安精神
 - ②西柏坡精神
 - ③井冈山精神
 - ④古田会议精神
- A . ①②③④
 - B . ②③④①
 - C . ③④①②
 - D . ④②①③
13. 鲨鱼皮泳衣能够明显提高游泳运动员的成绩，但很快被国际奥委会禁止使用，其根本原因是：
- A . 发展中国家运动员买不起昂贵的鲨鱼皮泳衣
 - B . 鲨鱼皮泳衣按照白色人种的体型和特点设计
 - C . 鲨鱼皮泳衣模糊了技术极限和体能极限差别
 - D . 鲨鱼皮泳衣污染泳池对运动员身体造成伤害
14. 某厂发生粉尘爆炸事故，造成人员伤亡和财产的严重损失。下列条件的组合会引起粉尘爆炸的是：
- ①粉尘有可燃性且达到一定浓度
 - ②天气持续高温
 - ③存在火源和助燃物
 - ④空间受限
- A . ②③
 - B . ③④
 - C . ①③④
 - D . ①②③
15. 下列现象对应的光学原理错误的是：
- A . 汽车后视镜扩大驾驶员视野——折射
 - B . 雨夜路灯出现一圈圈的光环——色散
 - C . 看立体电影需戴上特殊眼镜——偏振

- D. 使用闪光灯拍照时出现红眼——反射
16. 小张在某航空公司购买飞机票时发现，无论是同一航班的不同等级座位，还是不同时间段的航班，机票都存在一定的差价。
- 对此，下列说法错误的是：
- A. 实行机票差价的做法符合供给侧结构性改革的精神
 - B. 实行机票差价的做法能增加航班飞行次数
 - C. 实行机票差价的做法可满足乘客的个性化需求
 - D. 实行机票差价的做法反映了定价机制逐步适应市场
17. 中国加入世界贸易组织以来，价廉物美的“中国制造”走入国外亿万家庭，走向海外的中国企业贡献卓著，规模庞大的中国市场充满吸引力，数以亿计的中国游客出境旅游。
- 对此，下列说法错误的是：
- A. 中国的发展给全球经济提供巨大动力源泉
 - B. 中国与世界各国开始共同分享发展红利
 - C. 中国在世界经济体系中拥有绝对的话语权
 - D. 中国入世后所作贡献得到了国际社会认可
18. “学然后知不足，教然后知困，知不足，然后能自反也；知困，然后能自强也。”这段话体现的教育理念是：
- A. 教学相长
 - B. 教育公平
 - C. 因材施教
 - D. 循序渐进
19. 五禽戏是依据中医基础理论创编的一种传统养生健身拳法。下列关于五禽戏的说法错误的是：
- A. 五禽戏的创编者是华佗
 - B. 五禽戏对后世医学的发展有重要的影响
 - C. 五禽戏模仿的是虎、鹿、熊、猿、鸟的动作
 - D. 五禽戏已经获批国家级物质文化遗产项目
20. 在日常生活和工作中，人们遭受挫折后有时会找理由自我安慰，以降低挫折感，恢复心理平衡，这是心理防御机制中的“合理化”方法。
- 下列不属于采用这种方法进行心理防御的是：
- A. 小朱上班途中发现包裹被盗，笑着说破财免灾
 - B. 小邢的请求被同事拒绝，认为同事肯定有自己的难处
 - C. 小范竞争上岗未能如愿，心想这个辛苦的岗位不干也罢

D. 小马因工作失误受到批评，感觉领导在利用职权公报私仇

言语理解与表达

请根据题目要求，在每个选项中选出一个最恰当的答案。

21. 国家机关、政党组织和其他社会成员必须按照特定的规则运行和活动，这是法治的应有之义。在当代中国，规范国家权力运行和社会成员活动的各类规则可谓浩如烟海，但国家法律体系和党内法规体系显然是最有影响力和最为重要的规则体系。十八届四中全会审议通过的《中共中央关于全面推进依法治国若干重大问题的决定》将“形成完备的法律规范体系和完善的党内法规体系”纳入建设中国特色社会主义法治体系，确立了全面推进依法治国的总目标。

这段文字之后作者最有可能阐述的是：

- A. 中国特色社会主义法治体系的建构
 - B. 依法治国建设全面小康社会的构想
 - C. 党内法规与国家法律的衔接和协调
 - D. 建立健全党内法规体系的对应措施
22. 大多数桥梁是向公众开放的。尽管一些桥梁要收取通行费，但是对于绝大多数车辆来说并不禁止通行。然而，多数网络系统对公众却是不开放的。原因显而易见——这些网络系统是用来储存和处理个人通信、财务数据、医疗记录和商业秘密等敏感信息的，这些信息都跟个人和机构密切相关。

这段文字重在说明：

- A. 大多数桥梁向公众开放的事实依据
 - B. 桥梁和网络在开放程度方面的差别
 - C. 网络系统的存储功能及其基本特点
 - D. 多数网络系统对公众关闭的合理性
23. 在日益开放的市场经济活动中，无论是来自城市还是来自农村的市场参与者，都被抛进不断更新的陌生空间中。市场的交易主体、交易行为、交易制度和交易商品，都在日新月异地变化着。尤其是考虑到经济生活信息化和网络化，市场经济的陌生关系就呈现出更为复杂的状态。

这段文字重在说明：

- A. 市场经济活动中人们面对的是陌生关系
 - B. 市场经济的主要特点就是信息不断更新
 - C. 市场经济生活变得越来越信息化网络化
 - D. 市场经济使得人与人之间的关系复杂化
24. 研究发现，人们看待互联网的方式，就像看待交换记忆系统的人类伙伴。人们把记忆分摊给“云端”，就像分摊给家人、朋友一样轻而易举。但是，互联网又跟交互记忆系统的人类伙伴不一样——云端知道得更多，而且能更快提取信息。现今几乎所有信息都能轻易通过快速的网络搜寻取得。互联网不只降低了把

信息分享给人类伙伴的必要性，或许也减低了人们想把刚学到的重要事情存进自己大脑记忆库里的渴望。

这段文字意在说明：

- A . 互联网和我们的关系近于亲友伴侣
- B . 互联网正成为我们的外部记忆资源
- C . 互联网带来了云端这样的信息大全
- D . 互联网使得人类不再认为记忆重要

25. 晨练是一种好习惯，但未必人人适合。从人的生理特点来看，早上6点左右，人体的血压开始升高，心率逐渐加快，上午10点左右达到峰值，如果有冠心病、高血压的人此时锻炼，尤其是进行剧烈运动就有可能发生意外。清晨6点到8点，人体血小板的凝聚力明显增强，血液相对黏稠，这段时间运动可能会使心脑血管梗塞率增大。

这段文字意在强调：

- A . 晨练总的来说还是弊大于利
- B . 晨练不宜选在6至8点之间
- C . 晨练应尽可能避免剧烈运动
- D . 晨练时间和强度要因人而异

26. 2016年初，诺贝尔经济学奖得主、美国经济学家约瑟夫·斯蒂格列茨在达沃斯年会上强调，过去15年，尤其是过去7年以来，中国一直是全球经济的发动机，包括非洲和拉丁美洲等地区都受益于中国经济的增长。中国经济的快速发展导致其对自然资源的需求快速上升，很显然，这种模式不可能持续，中国必须转变增长模式，从过去注重量的增长转变到注重质的提升，降低资源消耗。

这段文字主要强调的是：

- A . 十几年来中国一直在带动全球经济的发展
- B . 快速发展的中国经济对自然资源需求增长
- C . 中国经济快速发展惠及了非洲和拉美地区
- D . 中国经济增长模式面临挑战必须加快转型

27. 劳动力总量大、成本低，曾是“中国制造”的比较优势，但随着人口结构的变化，这一优势正在不断消减，按照联合国的标准，65岁以上的人口比率超过总人口的7%，就被称为老龄化社会；超过14%，就是老龄社会，中国实际上在2001年就已经进入了老龄化社会。近年来东南沿海中小型制造企业的“用工荒”，已经凸显出这一人口结构变化带来的问题。

这段文字重在说明：

- A . 老龄化社会与老龄社会的标准如何确定
- B . 老龄化社会将使中国企业劳动力供给不足
- C . 中国东南沿海地区已首先步入了老龄社会

D. 人口结构变化会影响“中国制造”竞争力

28. 在将中国文学作品译介给国外读者时，中国媒体与公众往往因文化焦虑及传播压力，过于强调译者对中国本土文化的熟悉知晓程度，对译者在翻译过程中未能再现文学作品中原汁原味的中国元素心存芥蒂。事实上，不同语言的文学之间具有某种审美的和人性的通约性，使得作家们能以各自的方式抵达文学的人性殿堂。

下列表述不符合文意的是：

- A. 媒体和公众自身的文化焦虑会影响到对译者资质的考量
- B. 译者对中国本土文化的了解程度并不必然影响翻译质量
- C. 能否保留纯正中国元素是考量翻译作品质量的关键因素
- D. 不同语言的文学作品之间具有通约性有助于跨语种翻译

29. ①西汉时期的扬雄就提出了“书为心画”，这个观念深入人心。

②明代汤显祖写的《牡丹亭》里面，柳梦梅则透过自画像上的题字风格来想象杜丽娘的灵心慧性。

③元代王实甫的戏剧《西厢记》中，张君瑞曾通过书信的字迹揣摩崔莺莺的心态。

④在中国，自古以来人们普遍认为字迹就是心迹。

⑤这两个戏剧情节反映了社会大众对于字迹的普遍认识。

将以上5个句子重新排列，语序正确的是：

- A. ①③②⑤④
- B. ④①③②⑤
- C. ④②③①⑤
- D. ①②③⑤④

30. 城市移民化潮流的背后，更是中国农村的巨大变迁，人口迁移的潮流将中国大片尚未都市化的乡村地区与移民城市的发展紧密联系在一起，从最初开始的以谋生为目标的打工赚钱，到今天迁移已经成为人们的一种生活方式，中国农村农业生产与再生产的社会关系，农业结构及其变化过程中的财产与权力关系都发生了深刻的变化。

下列说法不符合文意的是：

- A. 农民向城市的流动已成大趋势
- B. 多年的城乡二元结构已经解体
- C. 城乡的发展息息相关休戚与共
- D. 移民潮引发了农村的重大变迁

31. 我们知道，各种物质都有气体、液体、固体三种状态，在适当的温度和压力下，这三种状态可以互相转化。但是，如果温度超过374℃，那么无论把压力增加到多大，水蒸气也无法变成水，如果压力是足够高的话，它的密度会大大高于气体而接近水的密度。这样的状态与气体、液体、固体都不同，被称为物质的第四种状态——超临界态，而374℃被确定为“超临界温度”。处于超临界状态的物质，就被称为“超临界

流体”。

这段文字之后作者最有可能说明的是：

- A . 物质达到第四种状态的化学途径
- B . 哪些物质不会进入“超临界状态”
- C . “超临界流体”的性质及相关特点
- D . “超临界温度”对物质形态的影响

32. 有学者认为，应该将个人数据信息作为公共物品来规制，对个人数据信息使用进行治理的主体应该是政府专门机构，因而治理的法律性质应该是公法而不是私法，治理的目的是为了公共利益和公共安全而促进个人数据信息的自由共享。这种治理方式并不影响和损害已经存在的私权，例如隐私权和其他财产权等。

这段论述中未涉及的一项是：

- A . 个人数据信息治理的措施程序
- B . 个人数据信息治理的法制属性
- C . 个人数据信息治理的意义目的
- D . 个人数据信息治理的行政主体

33. 木器和石器代表了人类历史上的两大类型材料——有机材料和无机材料。但历史的发展很不均衡，数千年中，有机材料除了木器以外，就是毛皮、秸秆这些可以从生物中直接获取的材料，没有什么大的变化。但无机材料发展出了陶瓷、瓷器、金属、玻璃等人造材料，除了石器之外，全是依靠人类智慧使已知物发生化学变化之后创造出的新材料。即使是游离状态的金、银、汞等，人们也都开发了一些利用化学反应进行的提纯方法。

以下概括不符合文意的是：

- A . 有机材料几乎都是直接取之于生物
- B . 石器是无机材料家族的原生态成员
- C . 陶瓷、金属是人类创造的无机材料
- D . 人造材料未来将全面取代有机材料

34. 结核病是由结核分枝杆菌引起的慢性传染病，可侵及许多脏器，以肺部结核最为常见。世界上约有1/3的人口感染了结核菌，其中有大约5%~10%会发展成结核病。对于艾滋病毒携带者、营养不良或糖尿病等免疫系统受损的人，或者烟草使用者，结核病容易在体内大量复制，患病风险就会高很多。

下列说法不符合文意的是：

- A . 绝大多数人感染结核菌后并不发病
- B . 身体虚弱者患结核病的可能性较高
- C . 结核病可能发生在肺部或其他脏器
- D . 身体健康的人一般不会携带结核菌

35. 说到食品安全的治理，人们首先想到的是，中国依然是一个发展中国家，各个方面的制度建设不够完善。面对现实，人们自然而然地将问题引向法律法规制度、政府监管体系、社会治理机制的完善。这一指向当然是正确的，政府也沿着这些方向做了许多努力。但是这类治理方案的一个问题是，“远水解不了近渴”。

作者引用“远水解不了近渴”想要表达的意思是：

- A . 中国短时期之内无法真正解决食品安全问题
- B . 相关法律及机制建设不是短时间内可以完成的
- C . 作为发展中国家要解决食品安全问题难度极大
- D . 想解决食品安全问题必须做好长期工作的准备

从大蒜、生姜，到香蕉、菠萝，在农产品价格的暴跌中，农民很受伤。订单农业作为以销定产的重要手段，对稳定农产品价格、确保农民合理收益、抵御市场价格风险具有一定的作用。然而，经调查发现，订单农业在实际运行过程中却因为部分农民契约意识差、恶意违约而变得难以推行，这反过来又伤害了商户和农民。

作为抵御农产品价格周期波动的重要机制，订单农业一度被各方寄予厚望。然而近些年的实践表明，这一理想化的风险平抑工具，远远未能发挥预想中的作用。不少农民契约意识_____，动辄毁约，一次次使得一纸购销合同_____。轮番上演的单方面毁约事件，不仅让相关企业蒙受了巨大损失，也让农民群体本身付出了惨痛代价。

众所周知，农业生产天然存在着滞后性和长周期性，这决定了农民很难及时、准确地安排生产过程。也正因此，农产品价格才会出现“周期怪圈”的现象。而所谓订单农业，其核心逻辑就在于“以销定产”。倘若严格执行，这一模式将有效实现供需平衡，避免由生产能力不足或过剩而引发价格巨震。令人遗憾的是，现实中一些农民受眼前利益驱动，往往会选择性执行购销合同，这无异于亲手解除了“自我保护”的机制。

现如今，订单农业所面临的困境，很大程度上还是源于“小农心理”作祟。农民群体中的很大一部分人，并不熟悉商品社会的那套契约体系和交易方式，而且对违约行为的性质和后果也缺乏完整的认知。再加上大多数的涉农购销合同，都不具备必要的担保机制和强制执行的可能。一旦农民单方面撕毁合同，企业顾忌于超高的催收成本，往往也只能听之任之。

没有“履约保证金”作保，没有追责索赔渠道兜底，订单农业以及相关产销合同，当然没有任何约束力可言，对此已有学者提出，要加强农村征信体系建设。可是在此之前，我们最先应该做的，还是改变分散化、个性化的农业生产模式：将孤立的农业生产者，吸收进组织化的专业生产合作社中，吸收进金融惠农和科技惠农的扶持体系之内——只有让他们处于更为紧密的人际网络和利益结构之内，其才会更为重视个人诚信的价值。

当反思订单农业所面临的尴尬遭遇时，我们往往将矛头指向农民契约精神的缺失。试问，有没有一套合理的议价机制，能够保证农民可以获得一个相对实惠的合同收购价？又有没有一种动态的博弈平台，来

回应农民由短期市场行情所产生的利益关切？相较于培育农民的信用意识，建立真正公平合理的市场定价和交易体制，对于发展订单农业同样至关重要。

36. 依次填入文章第二段画横线部分最恰当的是：

- A . 薄弱 形同虚设
- B . 孱弱 灰飞烟灭
- C . 缺乏 化为乌有
- D . 缺少 徒有虚名

37. 订单农业一度被各方寄予厚望的根本原因是：

- A . 订单农业可使农民与商户谈判时确保收益
- B . 订单农业能帮助解决农业生产不可预期性
- C . 订单农业可使农民预先知道农产品价格
- D . 订单农业可使农产品供需平衡价格平稳

38. 关于订单农业购销合同缺乏约束力的原因，作者特别强调的是：

- A . 农民不熟悉商品社会的契约体系和交易方式
- B . 农民对违约行为的性质和后果没有充分认识
- C . 大部分农民的合同没有保障执行的担保机制
- D . 企业因索赔代价太高放弃追究违约行为

39. 下列选项在文中未涉及的是：

- A . 应将订单农业与金融惠农科技惠农对接
- B . 加强相关培训提升订单农户的契约意识
- C . 破解订单农业困局应该加强农村征信体系建设
- D . 改变现有农业生产模式有助于破解订单农业困局

40. 下列最适合做文章标题的是：

- A . 订单农业困局伤害了谁
- B . 订单农业发展面临多重困难
- C . 订单农业困局的真相
- D . 如何走出订单农业困局

41. 北京有大量历史文化保护区，它们是古都北京的文化_____，而位于北京历史城区中轴线西侧的什刹海区域，更是以宁静而优雅的环境、自然与人文的和谐_____。

依次填入画横线部分最恰当的一项是：

- A . 特色 举世闻名
- B . 特征 远近闻名
- C . 标志 著称于世

D. 指标 为人称道

42. 人口迁移改变了中国城乡的人口格局，以最_____的方式推动了移民城市的形成，这一城市形态与传统的_____城市在性质上有着本质的区别。

依次填入画横线部分最恰当的一项是：

A. 直接 地域

B. 一般 地方

C. 简单 地区

D. 基本 区域

43. 媒体要做好规范和专业的科学传播并不容易。媒体既要保持代替社会对科学进行监督的职能，又要有一种本能的、_____代言弱势群体的道义感。作为媒体人有道义感当然是好事，但在科学问题上_____因为这种正义感而被处于弱势的反主流科学一方利用。

依次填入画横线部分最恰当的一项是：

A. 匡扶正义 切忌

B. 扶危济困 谨记

C. 劫富济贫 谨防

D. 扶正祛邪 切莫

44. 现代白话文与文言文的区别只是语体的不同，但它们使用的象形表意的方块字，作为中华民族文化的独特创造，其中_____的民族精神、民族生命是血脉_____的。

依次填入画横线部分最恰当的一项是：

A. 蕴含 贯通

B. 沉积 相通

C. 呈现 流通

D. 体现 连通

45. 和西方的《荷马史诗》《圣经》一样，中国历史上早期的一些典籍获得了备受_____的地位。当然，这些典籍之后无一例外地经受了历史时代的文本筛选、价值_____的复杂过程。

依次填入画横线部分最恰当的一项是：

A. 尊崇 阐释

B. 膜拜 诠释

C. 拥戴 注释

D. 青睐 解释

46. 其实，物理学家探测引力波的尝试一直_____地进行着，然而因为长期没有突破，这方面的工作逐渐被边缘化，颇受_____。

依次填入画横线部分最恰当的一项是：

- A . 时有时无 冷遇
- B . 时断时续 冷落
- C . 时强时弱 冷淡
- D . 时快时慢 冷眼

47. 统计学家告诉我们，买一张彩票正好中大奖的概率_____——比如说，英国国家彩票的中奖概率大概就只有1400万分之一，相当于你连续投24次硬币全是正面朝上，远远低于被_____的陨石砸中的可能性。

依次填入画横线部分最恰当的一项是：

- A . 微不足道 祸从天降
- B . 绝无仅有 不期而至
- C . 不可多得 不期而遇
- D . 微乎其微 从天而降

48. 以和为贵、_____的精神，贯穿中华民族发展的全部历史，渗透在社会生活的方方面面，使我们不同族群、不同地域的不同文化，不断地相互吸取、相互融合，形成了_____、丰富多彩的中华文化。

依次填入画横线部分最恰当的一项是：

- A . 和睦相处 无与伦比
- B . 谦顺礼让 不绝如缕
- C . 和而不同 博大精深
- D . 守望相助 兼收并蓄

49. 对大多数人来说，逻辑学是一门_____的学问。但是思想史上的重大事件无一不是_____人们在自己的思维和研究方法上所作的改进。

依次填入画横线部分最恰当的一项是：

- A . 神秘 处于
- B . 枯燥 基于
- C . 神奇 源于
- D . 繁琐 由于

50. 多名全国人大代表提出议案，建议修订我国土地管理法，兼顾土地的资源与资产双重_____，坚持物权平等保护_____，提高_____补偿标准。

依次填入画横线部分最恰当的一项是：

- A . 特征 规定 征用
- B . 要素 法案 征调
- C . 标准 措施 征集

D. 属性 原则 征收

51. 他们笔下的中国古建筑测绘图，一方面_____了西方建筑学制图手法的西方古典主义美学精神，另一方面又创造性地_____了中国传统工笔和白描的技巧，更好地呈现出中国古建筑独特的美感，这在世界建筑史经典著作的插图中也可谓_____。

依次填入画横线部分最恰当的一项是：

- A. 秉承 融入 独树一帜
- B. 沿袭 引进 绝无仅有
- C. 接受 发扬 别具一格
- D. 承袭 发挥 可圈可点

52. 近百年来，由于过度使用照明工具而导致光污染的_____，全球很多城市已看不到银河和主要的星座，人与生物圈的夜间环境遭到日益严重的_____，天文科学观测也受到干扰，人类共同的星空资源正在逐渐“_____”。

依次填入画横线部分最恰当的一项是：

- A. 蔓生 侵袭 消解
- B. 蔓延 侵蚀 消亡
- C. 浸溢 侵吞 消弭
- D. 漫卷 侵入 消散

53. 读者通过文学接触到自身存在以外的种种可能性经验，借助他者经验_____了自己的存在问题，通过_____他者的生活丰富了生存体验，_____了自己有限生命的宽度。

依次填入画横线部分最恰当的一项是：

- A. 探究 虚构 扩展
- B. 反思 想象 拓展
- C. 察觉 窥视 扩大
- D. 印证 涉猎 拓宽

54. 哲学涉及我们日常生活的方方面面。它不只是艰深晦涩、让人_____的玄学，不只是教人安邦定国、_____的谋略，哲学更_____我们的人生。

依次填入画横线部分最恰当的一项是：

- A. 夙兴夜寐 决胜千里 关联
- B. 青灯黄卷 修齐治平 关系
- C. 呕心沥血 仕途经济 关怀
- D. 皓首穷经 经世致用 关乎

55. 卫星与地球保持相对静止，能定点_____在空间凝视目标地区，“_____”并全时段持续侦察，_____地获取变化信息。

依次填入画横线部分最恰当的一项是：

- A . 悬挂 心无旁骛 绵绵不绝
- B . 悬置 虎视眈眈 不离不弃
- C . 悬停 目不转睛 源源不断
- D . 悬浮 全神贯注 不声不响

数量关系

请根据题目要求，在每个选项中选出一个最恰当的答案。

56. 1 , 1.2 , 1.8 , 3.6 , 9 , ()

- A . 12
- B . 16.2
- C . 25.2
- D . 27

57. 36 , 45 , 70 , 119 , 200 , ()

- A . 321
- B . 341
- C . 421
- D . 441

58. $\sqrt{2}$, $3-\sqrt{2}$, 2 , 3 , $4+\sqrt{2}$, ()

- A . $5+2\sqrt{2}$
- B . $6+5\sqrt{2}$
- C . $7+3\sqrt{2}$
- D . $9+6\sqrt{2}$

59. $\frac{2}{5}$, $\frac{11}{18}$, $\frac{16}{21}$, $\frac{7}{8}$, $\frac{26}{27}$, ()

- A . $\frac{31}{30}$
- B . $\frac{31}{32}$
- C . $\frac{61}{60}$
- D . $\frac{63}{64}$

60. 2 , 6 , 15 , 28 , 55 , ()

- A . 72
- B . 78
- C . 86

- D . 160
61. 某公司将一款自行车3次折价销售，第二次在首次打折的基础上打相同的折扣，第三次在第二次打折的基础上降价三分之一。已知该款自行车3次打折后的价格是原价的54%，则首次的折扣是：
- A . 7.5折
B . 8折
C . 8.4折
D . 9折
62. 若将一项工程的 $\frac{1}{6}$ 、 $\frac{1}{4}$ 、 $\frac{1}{3}$ 和 $\frac{1}{4}$ 依次分配给甲、乙、丙、丁四家工程队，分别需要15天、15天、30天和9天完成，则他们合作完成该项工程需要的时间是：
- A . 12天
B . 15天
C . 18天
D . 20天
63. 一个圆盘上按顺时针方向依次排列着编号为1到7的七盏彩灯，通电后每个时刻只有三盏亮着，每盏亮6秒后熄灭，同时其顺时针方向的下一盏开始亮，如此反复。若通电时编号为1，3，5的三盏先亮，则200秒后亮着的三盏彩灯的编号是：
- A . 1，3，6
B . 1，4，6
C . 2，4，7
D . 2，5，7
64. 某公司管理人员、技术人员和后勤服务人员一月份的平均收入分别为6450元、8430元和4350元，收入总额分别为5.16万元、33.72万元和5.22万元。则该公司这三类人员一月份的人均收入是：
- A . 6410元
B . 7000元
C . 7350元
D . 7500元
65. 某一楼一户住宅楼共17层，电梯费按季交纳，分摊规则为：第一层的住户不交纳；第三层及以上的住户，每层比下一层多交纳10元。若一季度该住宅楼某单元的电梯费共计1904元，则该单元第7层住户一季度应交纳的电梯费是：
- A . 72元
B . 82元
C . 84元

D . 94元

66. 甲、乙、丙三个单位各派2名志愿者参加公益活动，现将这6人随机分成3组，每组2人，则每组成员均来自不同单位的概率是：

A . $\frac{1}{3}$

B . $\frac{5}{12}$

C . $\frac{1}{4}$

D . $\frac{8}{15}$

67. 一艘游轮在海上匀速航行，航向保持不变。上午8时在游轮的正东方30海里处有一灯塔。上午10时30分该灯塔位于游轮的正南方40海里处，则在该时段内，游轮与灯塔距离最短的时刻是：

A . 8时45分

B . 8时54分

C . 9时15分

D . 9时18分

68. 小王去超市购物，带现金245元，其中1元6张、2元2张、5元3张、10元2张、50元2张、100元1张，选购的物品总计167元，若用现金结账且不需要找零，则不同的面值组合方式有：

A . 6种

B . 7种

C . 8种

D . 9种

69. 玩具厂原来每日生产某类玩具560件，用A、B两种型号的纸箱装箱，正好装满24只A型纸箱和25只B型纸箱。扩大生产规模后该类玩具的日产量翻了一番，仍然用A、B两种型号的纸箱装箱，则每日需要纸箱的总数至少是：

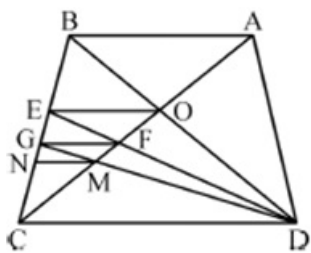
A . 70只

B . 75只

C . 77只

D . 98只

70. 如图，在梯形ABCD中，AB=2，CD=3，AC交BD于O点，过O作AB的平行线交BC于E点，连结DE交AC于F点，过F作AB的平行线交BC于G点，连结DG交AC于M点，过M作AB的平行线交BC于N点，则线段MN的长为：



- A. $\frac{2}{3}$
- B. $\frac{5}{6}$
- C. $\frac{6}{11}$
- D. $\frac{16}{25}$

判断推理

请根据题目要求，在每个选项中选出一个最恰当的答案。

71. 汉字：符号

- A. 海豚：海鱼
- B. 大米：粮食
- C. 高管：女性
- D. 法学：国学

72. 西湖：太湖

- A. 都会：议会
- B. 电脑：人脑
- C. 男生：女生
- D. 加法：除法

73. 生产：销售

- A. 收入：支出
- B. 起草：修改
- C. 救灾：抗灾
- D. 闭幕：开幕

74. 中山陵：金陵

- A. 城隍庙：寺庙
- B. 青海湖：青海
- C. 碧云天：青天

D . 钱塘江 : 长江

75. 《大学》 : 《中庸》 : 四书

A . 泰山 : 华山 : 五岳

B . 物欲 : 财欲 : 六欲

C . 朝夕 : 除夕 : 七夕

D . 春风 : 秋雨 : 四季

76. 买票 : 乘机 : 抵达

A . 生产 : 流通 : 消费

B . 相识 : 相恋 : 结婚

C . 调研 : 调查 : 总结

D . 申报 : 评审 : 得奖

77. 作家 之于 作品 相当于 () 之于 ()

A . 蜜蜂 蜂蜜

B . 货币 货物

C . 鸡蛋 母鸡

D . 园丁 园林

78. 丝绸之路 之于 () 相当于 万里长征 之于 ()

A . 敦煌 遵义

B . 骆驼 草鞋

C . 沙漠 海洋

D . 贸易 解放

79. sTT889CCb655

A . bCC233Qpp455

B . jKK677xYY122

C . uVv667YYz988

D . eFF334NNm877

80. WTgg我28K


A . V&gg国99k

B . RFnn民36Y

C . GcDc泰28K

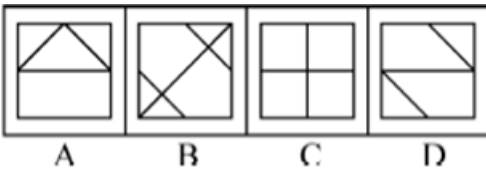
D . ☆&ee安55K

81. 从四个图中选出唯一的一项，填入问号处，使其呈现一定的规律性：



- A . A
- B . B
- C . C
- D . D

82. 从所给的四个选项中，选择最合适的一个填入问号处，使之呈现一定的规律性：



- A . A
- B . B
- C . C
- D . D

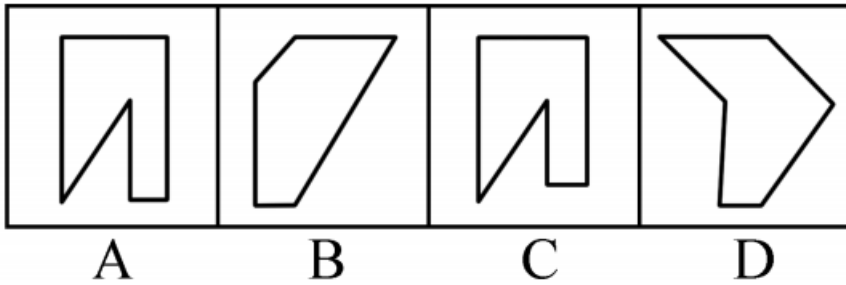
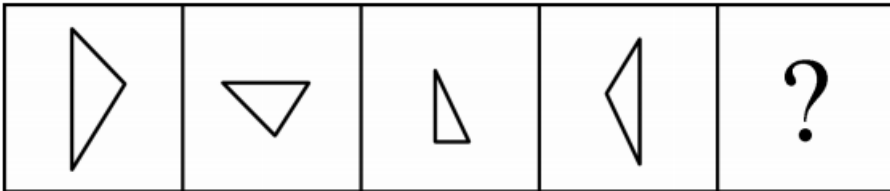
83. 从所给的四个选项中，选择最合适的一个填入问号处，使之呈现一定的规律性：



- A . A

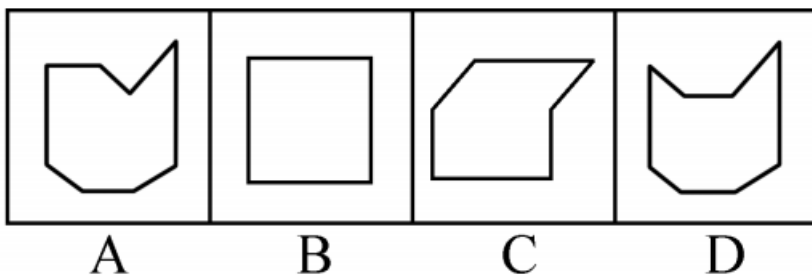
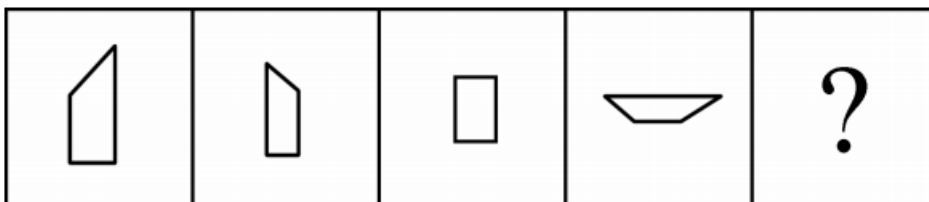
- B . B
- C . C
- D . D

84. 右边四个图形中，只有一个是 由左边的四个图形拼合（只能通过上、下、左、右平移）而成的，请把它找出来：



- A . A
- B . B
- C . C
- D . D

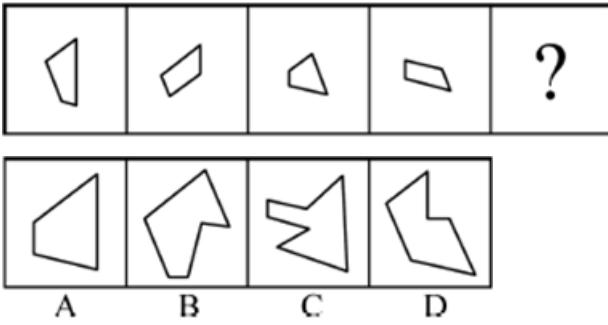
85. 右边四个图形中，只有一个是 由左边的四个图形拼合（只能通过上、下、左、右平移）而成的，请把它找出来：



- A . A
- B . B

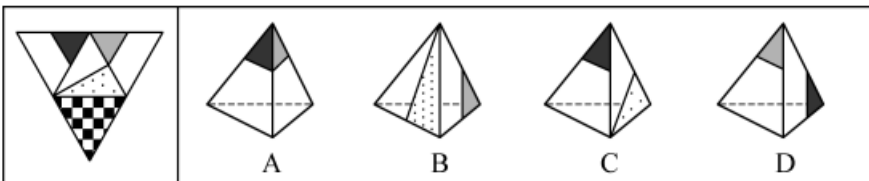
- C . C
- D . D

86. 右边四个图形中，只有一个是 由左边的四个图形拼合（只能通过上、下、左、右平移）而成的，请把它找出来。



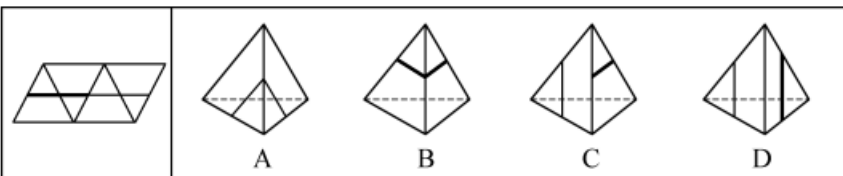
- A . A
- B . B
- C . C
- D . D

87. 左边给定的是纸盒外表面的展开图，右边哪一项能由它折叠而成？请把它找出来：



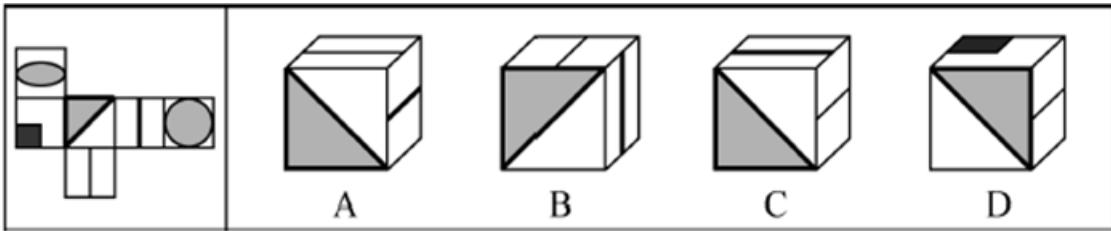
- A . A
- B . B
- C . C
- D . D

88. 左边给定的是纸盒外表面的展开图，右边哪一项能由它折叠而成？请把它找出来：



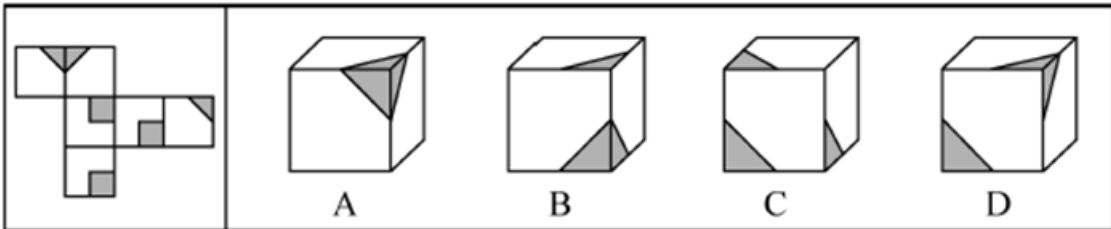
- A . A
- B . B
- C . C
- D . D

89. 左边给定的是纸盒外表面的展开图，右边哪一项能由它折叠而成？请把它找出来。



- A . A
- B . B
- C . C
- D . D

90. 左边给定的是纸盒外表面的展开图，右边哪一项能由它折叠而成？请把它找出来。



- A . A
- B . B
- C . C
- D . D

91. 近日国外一项调查研究发现，肥胖与较差的社会经济地位之间存在着内在的关系，那些社会经济地位较差的人大多比较肥胖，甚至越穷越胖。研究者解释，这是因为社会经济地位较差的人更容易选择高热量低营养的快餐食品，而摄入这些食品很容易导致肥胖。

下列哪项如果为真，最能削弱研究者的上述解释：

- A . 高热量低营养食品的摄入虽是一些人的饮食习惯，但却容易造成营养不良
- B . 刚富起来的人更容易沉迷于高热量食品，而有些穷人对快餐食品只能偶尔尝鲜
- C . 穷人没有足够的金钱和时间去锻炼身体，富人却更有能力在身体健康上投入
- D . 现在高热量低营养的快餐食品变得越来越廉价，而健康的低卡路里食品变得越来越昂贵

92. 某厅级机关计划选派1人前往海外进修公共管理，最合适的人选应具有如下条件：男性；通晓1门外语；熟悉当地文化。有4位业务水平较高的处长甲、乙、丙、丁最后进入面试环节。4人中有3名男性，2人通晓1门外语，1人熟悉当地文化，每位面试者都至少符合1项条件。已知：

- (1) 甲、乙的外语能力相同；
- (2) 乙、丙的性别相同；
- (3) 丙、丁并非都是男性。

通过考察，只有1人符合全部条件，被成功派往海外。

根据以上信息，可以得出被派往海外进修的人是：

- A . 甲
- B . 乙
- C . 丙
- D . 丁

93. 某高速路段管理处决定招聘10名道路辅助管理人员，以解决正式管理人员不足的问题，但是这一建议招致某人士的反对。该人士认为，增加这10名道路辅助管理人员后，将会有更多的道路违规、违纪行为被发现，而后期处理这些问题需要占用更多的正式管理人员，这将导致本已紧张的正式管理人员更加不足。

以下哪项如果为真，最能削弱该人士的观点：

- A . 新招聘的道路辅助人员工作起来未必能尽心尽职
- B . 有许多道路违规、违纪行为问题当场就可解决，不需要拖到后期处理
- C . 道路辅助管理人员也可以对道路违规、违纪行为进行后期处理
- D . 增加道路辅助管理人员将有效减少该路段道路违规、违纪行为的发生

94. 老张：你在这儿摆摊设点属于占道经营！

小王：这儿是中山北路又不是中山北道，我占的什么道？

以下哪项与上述对话方式最为相似：

- A . 甲：你这种执法行为一点人情味都没有！ 乙：我严格执法是为了保障人民群众的生命财产安全。
- B . 甲：你成天打游戏是在虚度年华！ 乙：我只有在游戏中才觉得年华没有虚度。
- C . 甲：你工作时间不能抽烟！ 乙：我抽烟时从不工作。
- D . 甲：你这种说法是栽赃陷害！ 乙：你这种说法是血口喷人！

95. 老张、老张的妹妹、老张的儿子和老张的女儿4人进行乒乓球比赛。比赛后发现，第1名与第4名的年龄相同，但第1名的孪生同胞（上述4人之一）与第4名的性别不同。

根据以上信息，可以推出第1名是：

- A . 老张
- B . 老张的女儿
- C . 老张的妹妹
- D . 老张的儿子

96. 近来，有科学家研究了历史上气候变化对人类社会的影响。他们发现，全球超过80%的国家及地区在气候寒冷时期爆发的战争次数是温暖时期的两倍；在中国过去的1000多年里，战争、大范围动乱和朝代更替大都对应着特别漫长的寒冷时期；欧洲1550年到1850年的“小冰期”与欧洲历史上发生过的猎巫事件甚至法国大革命之间都存在紧密的联系。由此，他们得出结论：气候变冷会导致社会冲突和朝代更替的发生。

以下哪项如果为真，最能质疑上述科学家的观点：

- A . 气候变化总在发生，社会冲突、朝代更替也总在发生，共同发生变化的东西不一定存在因果联系
- B . 气候变暖是引发人类冲突与战争的重要原因，例如，在1981年到2002年间的温度升高期间，撒哈拉以南非洲国家内战的次数比平时有所增加
- C . 2003年，由于印度洋升温影响季风活动，导致苏丹达尔富尔地区降水大幅度下降，引发粮食和水资源严重短缺，继而引发武装冲突
- D . 气候变冷比气候变暖更可怕，气候变冷意味着农作物收成下降，粮食、能源供应紧张，人们的日常生活受到更为严重的影响

97. 对于小李、小王和小苗能否考取研究生，有以下4种猜测：

- (1) 小李能考取；
- (2) 要是小王能考取，那么小苗也能考取；
- (3) 或者小王能考取，或者小李能考取；
- (4) 小王能考取。

事后证实，这4种猜测中只有一种是对的。

根据以上信息，可以得出以下哪项：

- A . 小李考取了
- B . 小苗没有考取
- C . 小苗考取了
- D . 小李没有考取

甲、乙、丙、丁、戊5位摄影专业大学生为参加毕业摄影大赛分赴黑龙江、西藏、云南、福建、江苏5地摄影采风。他们5人各有偏爱的摄影题材：人物、花卉、风景、野生动物、古建筑，这次采风他们相约就上述题材每人各拍一种。已知：

- (1) 如果甲去黑龙江，乙就去江苏；
- (2) 只有丙去福建，丁才去云南；
- (3) 或者乙去江苏拍古建筑，或者戊去福建拍人物；
- (4) 去江苏拍古建筑的大学生临行前曾与乙、丁话别。

98. 根据以上信息，可以得出以下哪项：

- A . 甲不去江苏
- B . 乙不去西藏
- C . 丙不去黑龙江
- D . 丁不去云南

99. 如果丙去西藏，则可以得出以下哪项：

- A . 甲去江苏

- B. 乙去福建
- C. 丁去云南
- D. 戊去黑龙江

100.如果乙去黑龙江拍风景，而去云南的只拍花卉，则可以得出以下哪项：

- A. 甲去云南拍花卉
- B. 丙去江苏拍古建筑
- C. 丁去西藏拍野生动物
- D. 戊去福建拍古建筑

101.斜杠青年：指不满足于从事单一职业，追求拥有多重职业身份及多元生活方式的年轻人。他们在自我介绍时往往喜欢用斜杠来区分自己的不同身份，如：张三，金牌律师/企划师/专栏作家。

下列属于斜杠青年的是：

- A. 最近两三年，八零后导演黄某某先后出演了10多次男配角，去年在一个著名的国际电影节上斩获了最佳男配角奖
- B. 小丁在国外获得博士学位后，任职于国内一所著名高校，因科研成就突出，被破格聘为教授，并入选省“双百”人才计划
- C. 某公司程序员小陈爱好广泛，性格温和，人际关係融洽，节假日常邀上三五个好友一起登山、打球、游泳
- D. 李总做过保安，送过快递，当过安装工，开过小杂货店，他经常自豪地向员工讲述自己30多年来丰富的职业经历

102.影子工作：指消费者使已购商品变为可用物品所付出的任何劳动。

下列属于影子工作的是：

- A. 小孙到饭店就餐，老板告诉他，这几天大部分服务员都已经放假，顾客需要自己点餐，并递给他一支笔和一张菜单
- B. 小李的儿子快出生了，他赶紧抽时间将同事老王给的婴儿车拿出来修理一番，车子焕然一新，十分好用
- C. 经不住软磨硬泡，爸爸终于答应给小明买两条金鱼，小明高兴坏了，连夜在网上收集了十几页的金鱼养殖攻略
- D. 将拼板餐桌从商场运回家后，老冯忙乎了半天，对照安装说明，拆了装，装了拆，终于组装成功，中午就派上了用场

103.权力暗示：指基于职务地位、业务能力、人格魅力而产生的对组织机构外部成员的影响力。

下列不属于权力暗示的是：

- A. 张教授是微电子领域的专家，不少企业遇到相关问题，都会向他请教解决的方法
- B. 五年级的小聪，电子游戏玩得特别顺溜，学校组队参加各级比赛时总请他协助指导

- C. 退伍军人老赵处事公平，街坊邻居遇到大小纠纷，首先想到的就是请他来主持公道
- D. 教育局李主任长期研究教师的专业发展，亲友们却常常向他求教孩子的教育问题

104.随机试验：指在同一条件下会出现多种可能结果且可以重复进行的试验；试验的所有可能结果虽预先可知，但每次具体试验的结果却无法预知。

下列属于随机试验的是：

- A. 将一壶淡水加热到沸腾，观察其状态变化的试验
- B. 在狮子身上安装定位设备了解其生活习性的试验
- C. 为检测某辆新款汽车的安全性能所做的撞击试验
- D. 抛一枚硬币观察带有数字的一面朝上次数的试验

105.临时救助：指家庭或个人遭遇突发事件、意外伤害、重大疾病等变故，基本生活陷入困境时，政府有关部门提供的应急性、过渡性救助。

下列属于临时救助的是：

- A. 80岁的李大爷无儿无女，独自生活，社区工作人员定期到他家中探望，把每月的养老金交到他手上，还时不时地送来一些生活用品
- B. 老张患上了强直性脊柱炎，巨额医疗费花光了积蓄，夫妻名下的房子也变卖了，一家三口只得暂住在街道办为他们租来的小房子里
- C. 地震发生后，社会各界积极响应市政府号召，通过多种渠道捐款捐物，很快就筹集了大批物资并分发到了灾民手中
- D. 老赵在几年前的一次车祸中失去了左腿，从那以后再也不能外出工作，每月数百元的低保金就成了家里主要的经济来源

106.渐进式退休：指员工到了法定退休年龄，用人单位根据实际工作需要对部分人员灵活确定退休时间。

下列属于渐进式退休的是：

- A. 马教授临近退休年龄，因为他是国内最具影响力的学者之一，对学科发展作出了重大贡献，学校决定聘任他为终身教授
- B. 赵先生已经到了退休年龄，但是他主持的重大攻关项目还没有结题，他所在的研究所决定聘用他继续工作，直到项目完成
- C. 近年来，李工程师的身体状况越来越糟糕，还患上了轻度的抑郁症，无法坚持工作，公司领导经过研究，决定让他提前退休
- D. 某研究机构决定，从下半年开始，本单位申请提前退休的职工，初、中级职称不低于54岁，高级职称不低于58岁

107.订单式培养：指用人单位提出用人申请后，由劳动保障部门委托培训机构根据用工需求组织实施的明确就业岗位去向的人才培养模式。

下列属于订单式培养的是：

- A. 某职业技术学院调研后发现，烹饪即将成为未来数年的紧俏职业，当年就开设了烹饪专业，果不其然，毕业生很抢手，很多餐饮名店都登门签约
- B. 某民办托儿所急需几名保育员，主管部门接到申请后马上找到一家资深代培机构组织培训，几名合格的保育员很快到岗
- C. 某市每年都会根据各乡镇上报的用人需求，在全省高校中聘请一批科研人员，然后分派到各地担任科技副镇长
- D. 某物业公司最近被多个小区选中，需要补充大批保安，为了顺利接手各个小区的安保工作，公司急招了数十名新手，正委托专业保安公司强化培养

108. 创伤后成长：指一个人在经历重大的生活挫折之后发生的积极性改变。

下列属于创伤后成长的是：

- A. 一名车祸幸存者说，事故之后她能更主动地掌控自己的生活
- B. 在多次丢失手机以后，小张照看自己的随身物品比以前细心多了
- C. 在同事突然撒手人寰后，小刘深感生命脆弱，开始坚持健身锻炼
- D. 赴震区考察归来后，王工程师对建筑物防震设计有了更深刻的认识

109. 小众经济：指面向小众人群的个性化定制模式，即采用个性化生产加工方式为用户提供独一无二的产品，实现精准服务，以满足消费者需求。

下列不属于小众经济的是：

- A. 某食品公司推出的特色月饼，价格虽然比传统月饼高出30%，但仍大有市场，不到一周就收到了数十万元的订单
- B. 某知名服装集团生产的每件西装都是根据用户的量体数据专门设计，保证衣服合体，西装里面还绣着用户名字
- C. 某科技园将3D打印技术应用于特色食品的生产，可以按照用户要求制作带有新郎、新娘卡通形象的巧克力喜糖
- D. 某知名家电企业为一对外国新婚夫妇提供了唯一的采用外文标识的电冰箱，并将她们的婚纱照打印在电冰箱面板上

110. 劳动碰瓷：指个别劳动者利用企业的管理漏洞，促使企业发生违法行为，进而索要双倍工资或经济补偿等经济利益。

下列属于劳动碰瓷的是：

- A. 林某应聘到某公司后，以种种借口未与公司签订劳动合同。三个月后，林某以公司拒绝与他订立劳动合同为由向劳动仲裁部门提出申请，要求公司赔偿未签订合同期间的双倍工资
- B. 工作满一年后，丁女士发现公司没有为她缴纳养老保险，经过多次交涉都没有得到满意的结果，她向劳动仲裁部门提出申请，要求公司为她补交养老保险
- C. 洪女士生下二胎后，厂里把她怀孕期间的工资扣掉了一半，并劝她辞职，洪女士最终决定告上法庭，

要求厂里补足她的工资奖金，并给予赔偿

D. 某公司招聘的10余名工人均未签订书面劳动合同，因为不断要求增加工资被集体辞退，几天后，他们以公司拒签劳动合同，过错在先为由申请劳动仲裁，要求同意他们回公司继续工作

111. 评论式营销：指商家借助对商品、服务的评论引导客户消费倾向，推动产品推广和销售的营销模式。

下列属于评论式营销的是：

A. 某中药研究所举办了中药膏方的系列公益讲座，许多膏方受益者现身说法，引起了很多市民关注，药店膏方热销

B. 某购物网站建立起对买家的信誉评价机制，帮助卖家筛选恶意差评的顾客并列入黑名单，很快提高了店铺的营业额

C. 某饭店推出“集赞换龙虾”活动后，有近两千粉丝对它的活动规则和龙虾品质提出质疑，营业额急剧下滑

D. 某知名家电企业推出了一款新产品，外包装上醒目地印着行内专家的专业评价，该产品一投放市场就很抢手

112. 错峰就业：指大学毕业生在求职高峰时，主动选择短时间游学、实习、创业考察或志愿服务，推迟个人就业，以寻找更合适的就业岗位。

下列属于错峰就业的是：

A. 小林大学毕业后正碰上“史上最难的就业季”，他没有急着找工作，而是到多个非营利性社团、咖啡厅体验生活。半年后与两个志同道合的朋友创办了一家科技咨询公司

B. 小高毕业后一直没有找到合适工作，每次有人问起工作的事情，他一点也不着急，心里盘算着再过几年，自己设法开个网店，照样能够过上舒舒服服的小日子

C. 虽然已被推荐保研，但考虑到家中久病的父亲和尚在读书的弟弟，小李还是到人才市场投递了简历。在等待消息的过程中，她又到老家附近的餐馆找了一份零工

D. 又到毕业季，与忙着投简历的其他同学不同，小金大二时就创办了一家共享办公租赁服务公司，只等一毕业，就可以全身心地投入到公司的经营管理上

113. 覆盖竞争：指在行业内部竞争已经十分激烈的阶段，行业外部的生产经营者强势介入该行业领域，导致业内竞争进一步加剧的现象。

下列属于覆盖竞争的是：

A. 从事电子产品设计与开发的某公司进入刚刚开始兴起的无人机研制领域

B. 鉴于去年各个分公司的销售业绩都实现了快速增长，公司高层经研究决定今年再成立几家分公司

C. 某房地产公司在市区中心地带的大型购物广场开业后，周边五六家大型商场的客流量明显减少

D. 某汽车零部件销售商为了进一步满足客户需求，决定新增汽车维修保养业务

114. 新乡贤：指长期扎根农村，利用自己的知识、技术、财富为村民热心服务并作出突出贡献，在当地社会生活及民众心目中具有较高威望和影响力的乡村人士。

下列属于新乡贤的是：

- A . 10多年来，老李虽然一直在外经商，但他时时惦念着家乡，每年都会捐出大量资金为家乡修桥铺路，资助家乡的特困大学生完成学业，乡亲们经常千里迢迢地跑来看望他
- B . 小张复员后回到家乡，两三年就成了远近闻名的“养殖大王”，为了带动乡亲们共同致富，他开办了多期培训班，免费传授实用养殖技术和经验，受到了大家的称赞
- C . 20多年来，某市商会会长孙先生利用自己长期积累的丰富经验，为经营各种农副产品的家乡村民牵线搭桥，指导他们寻找商机，被乡亲们誉为贴心的“诸葛亮”
- D . 某乡村小学校长程某退休后，利用自己学生多、关系广的优势，为挖掘家乡历史文化资源、发展乡村文化旅游业积极谋划、东奔西走，被乡亲们传为佳话

115.零优势意识：指一种危机意识和忧患意识，即能够看到自身优势的相对性，从而带着危机感把比较优势转化为竞争优势，以防止自身优势无法发挥甚至逐渐丧失。

下列属于零优势意识的是：

- A . 以色列是世界上自然资源最贫乏的国家之一，水和耕地资源尤为短缺，但以色列人不断创新农业技术，通过滴灌技术和光热网膜技术把沙漠变成绿洲，创造出资源节约型农业典范，甚至成为重要的农产品出口大国
- B . 田忌与齐王赛马，每次都输，原来马分上、中、下三等，进行三场比赛，无论用哪一等级的马，田忌都比不过齐王。孙膑知道后指导田忌用下等马对齐王的上等马，再用上等马对中等马，用中等马对下等马，结果只输了第一场，赢了后两场
- C . 某古城以保留众多清代建筑物闻名于世，旧城改造中，市政府吸取外地教训，避免“拆了值钱的，盖了不值钱的”，全力保护和开发旅游资源。如今，已彻底改变了过去旅游资源丰富而旅游消费水平低的状态，形成了稳固的行业优势
- D . 某公司在制造感光材料时，需要有人长时间在暗室工作，但员工大多无法适应长时间黑暗，效率很低。针对这种情况，该公司将暗室内的工作人员全部换成盲人，极大地提高了工作效率

资料分析

请根据题目要求，在每个选项中选出一个最恰当的答案。

在以2015年11月1日零时为标准时点进行的全国1%人口抽样调查中，江苏最终样本量占全省常住人口总数的0.94%。调查显示：2015年11月1日零时江苏常住人口为7973万，同以2010年11月1日零时为标准时点进行的第六次全国人口普查相比，增加107万，增长1.36%。

全省常住人口中，0~14岁人口为1064万，占13.35%；15~64岁人口为5910万，占74.13%；65岁及以上人口为999万，占12.53%。同第六次全国人口普查相比，0~14岁人口的比重上升0.34个百分点，15~64岁人口的比重下降1.97个百分点，65岁及以上人口的比重上升1.64个百分点。

全省常住人口中，大专及以上文化程度人口为1230万，高中（含中专）文化程度人口为1356万；初中文

文化程度人口为2741万；小学文化程度人口为1744万。

116.以2015年11月1日零时为标准时点进行的1%人口抽样调查中，江苏最终样本量为：

- A . 75万人
- B . 79万人
- C . 82万人
- D . 86万人

117.2010年第六次全国人口普查时，江苏0~14岁人口比重比65岁及以上人口：

- A . 少0.48个百分点
- B . 少2.12个百分点
- C . 多0.48个百分点
- D . 多2.12个百分点

118.两次调查的5年间，江苏常住人口中65岁及以上人口增加：

- A . 142万人
- B . 107万人
- C . 116万人
- D . 99万人

119.2015年11月1日零时江苏常住人口中，高中（含中专）及以上文化程度人口占：

- A . 15.43%
- B . 17.01%
- C . 32.43%
- D . 41.66%

120.下列说法不正确的是：

- A . 两次调查的5年间，江苏常住人口年平均增加21万人
- B . 两次调查的5年间，江苏常住人口中15~64岁人口下降了1.97%
- C . 两次调查的5年间，江苏常住人口中65岁及以上人口的增长率高于其他年龄段
- D . 2015年11月1日零时江苏常住人口中，小学文化程度以下（不含小学）人口为902万人

2016年第一季度全国星级饭店数量及其营业收入情况

星级	饭店数量(家)	营业收入(亿元)	餐饮收入占比(%)	客房收入占比(%)
一星级	87	0.3	44.4	52.5
二星级	2342	27.2	31.3	36.7
三星级	5354	121.4	45.1	41.8
四星级	2438	162.9	44.2	41.7
五星级	816	184.7	43.7	45.2
全国	11037	496.5	43.5	42.8

121.2016年第一季度,全国星级饭店餐饮收入比客房收入多:

- A . 4.8亿元
- B . 3.5亿元
- C . 3.1亿元
- D . 2.6亿元

122.2016年第一季度,全国五星级饭店的平均营业收入是四星级饭店的:

- A . 1.8倍
- B . 2.6倍
- C . 3.4倍
- D . 4.1倍

123.2016年第一季度,全国一、二星级饭店总数占星级饭店总数的比重是:

- A . 22.0%
- B . 25.6%
- C . 28.3%
- D . 32.6%

124.2016年第一季度,全国星级饭店中取得其他收入(除餐饮、客房收入外)最高的是:

- A . 二星级饭店
- B . 三星级饭店
- C . 四星级饭店
- D . 五星级饭店

125.下列说法正确的是:

- A . 2016年第一季度,全国星级饭店餐饮总收入为248.3亿元
- B . 2016年第一季度,全国三星级饭店数量占星级饭店数量的比重大于50%
- C . 2016年第一季度,全国二星级饭店的餐饮与客房收入都低于其他星级饭店
- D . 2016年第一季度,全国三星级及以下星级饭店的营业收入占全国星级饭店的比重不足三分之一

某市调查总队随机抽取2000名市民开展媒体需求调查,受访市民按文化程度分为小学及以下、初中、高

中/中专、大专、大学本科、研究生六类，所占比重分别为0.8%、17.6%、35.4%、19.5%、25.4%、1.3%，调查结果见下表。

受访市民每天在主要媒体平均花费时间（单位：小时）

文化程度	电视		广播		报纸/杂志		网络	
	工作日	双休/节假日	工作日	双休/节假日	工作日	双休/节假日	工作日	双休/节假日
小学及以下	4.33	4.47	0.54	0.58	0.54	0.54	1.25	1.50
初中	2.81	3.16	0.54	0.53	0.60	0.62	1.28	1.45
高中/中专	2.26	2.86	0.49	0.51	0.67	0.72	2.23	2.75
大专	1.69	2.29	0.47	0.45	0.67	0.73	3.22	4.03
大学本科	1.24	1.93	0.37	0.31	0.71	0.78	3.84	4.88
研究生	0.85	1.21	0.16	0.12	0.65	0.73	3.60	4.37

126.文化程度为“高中/中专”及以下的受访市民比“大专”及以上的多：

- A . 148人
- B . 150人
- C . 152人
- D . 154人

127.受访市民工作日平均花费时间最少的主要媒体是：

- A . 电视
- B . 广播
- C . 报纸/杂志
- D . 网络

128.“大专”类受访市民一周（有5个工作日和2个双休日）内平均每天看电视的时间为：

- A . 1.69小时
- B . 1.86小时
- C . 1.99小时
- D . 2.15小时

129.在不同文化程度的受访市民中，工作日在主要媒体平均花费时间最多的类别是：

- A . 小学及以下
- B . 高中/中专
- C . 大专
- D . 大学本科

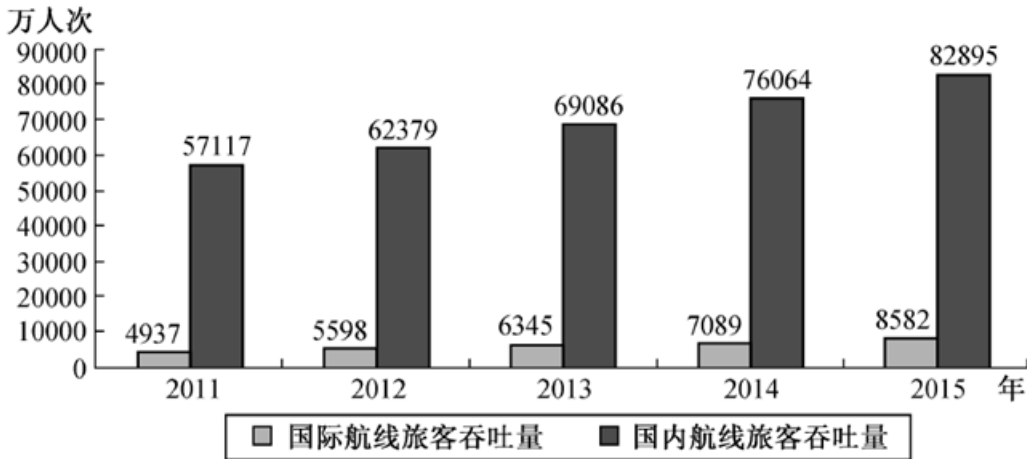
130.下列说法正确的是：

- A . 受访市民的文化程度越高，每天上网花费的时间越多

- B. 各类受访市民每天听广播的平均花费时间都比其他主要媒体少
- C. “研究生”类受访市民每天在主要媒体上平均花费时间都少于“本科”类
- D. 文化程度高于“初中”的受访市民双休/节假日上网平均花费时间都多于看电视

2015年中国机场旅客吞吐量91477万人次，比上年增长10.0%，其中，国内航线完成82895万人次，增长9.0%；国际航线完成8582万人次，增长21.1%。“十二五”时期中国机场旅客吞吐量如下图。

“十二五”时期中国机场旅客吞吐量



2015年中国机场旅客吞吐量100万人次以上的有70个，比上年增长6个，完成旅客吞吐量占全国机场旅客吞吐量的95.5%；旅客吞吐量1000万人次以上的有26个，比上年增长2个，完成旅客吞吐量占全部机场旅客吞吐量的77.9%；北京、上海和广州三大城市占全部机场旅客吞吐量的27.3%。

2015年中国各地区机场旅客吞吐量的分布情况是：华北地区占15.8%，比上年降低0.5个百分点；东北地区占6.0%，降低0.1个百分点；华东地区占29.0%，提高0.2个百分点；中南地区占23.7%，降低0.6个百分点；西南地区占16.8%，提高0.6个百分点；西北地区占5.9%，提高0.2个百分点；新疆地区占2.8%，提高0.2个百分点。

131. 2015年北京、上海和广州三大城市机场旅客吞吐量是：

- A. 19978万人次
- B. 20173万人次
- C. 24973万人次
- D. 27012万人次

132. 2014年，旅客吞吐量100万人次以上而不超过1000万人次的中国机场数量有：

- A. 38个
- B. 40个
- C. 44个
- D. 48个

133. 若2016~2017年与2014~2015年保持相同的年平均增速，则2017年中国机场国际航线旅客吞吐量将是：

- A . 10075万人次
- B . 10389万人次
- C . 11608万人次
- D . 13781万人次

134.2014年中国机场旅客吞吐量位于前三位的地区依次是：

- A . 华北地区、中南地区、西南地区
- B . 中南地区、华北地区、西南地区
- C . 中南地区、华东地区、西南地区
- D . 华东地区、中南地区、华北地区

135.下列判断正确的是：

- A . 2015年中国西北地区机场旅客吞吐量不及华北地区的三分之一
- B . 2015年国内航线旅客吞吐量占中国机场旅客吞吐量的比重比上年有所提高
- C . “十二五”时期后四年，中国机场国内航线旅客吞吐量年均增长量小于国际航线
- D . 2015年，旅客吞吐量100万人次以上而不超过1000万人次的机场旅客吞吐量总和占中国机场旅客吞吐量的比重为17.6%



如何对答案：打开公考通app
进入历年真题，录入答案后即可评分并查看解析。